

سایت ویژه ریاضیات [www.riazisara.ir](http://www.riazisara.ir)

درسنامه ها و جزوه های ریاضی  
سوالات و پاسخنامه تشریحی کنکور  
نمونه سوالات امتحانات ریاضی  
نرم افزارهای ریاضیات  
و...

ریاضی سرا در تلگرام: (@riazisara)



<https://t.me/riazisara>

ریاضی سرا در اینستاگرام: (@riazisara.ir)



<https://www.instagram.com/riazisara.ir>

۳۱- اگر نقطه  $\begin{bmatrix} 2 \\ 3 \end{bmatrix}$  را دو بار پی‌درپی با بردار  $\begin{bmatrix} -1 \\ 1 \end{bmatrix}$  منتقل کنیم، در نهایت به چه نقطه‌ای می‌رسیم؟

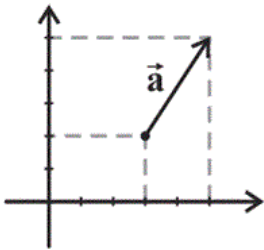
$\begin{bmatrix} 0 \\ 5 \end{bmatrix}$  (۲)

$\begin{bmatrix} 1 \\ 4 \end{bmatrix}$  (۱)

$\begin{bmatrix} 1 \\ 3 \end{bmatrix}$  (۴)

$\begin{bmatrix} 4 \\ 5 \end{bmatrix}$  (۳)

۳۲- با توجه به شکل زیر، بردار قرینه  $\vec{a}$  کدام است؟



$\begin{bmatrix} 2 \\ 3 \end{bmatrix}$  (۲)

$\begin{bmatrix} 2 \\ -3 \end{bmatrix}$  (۱)

$\begin{bmatrix} -2 \\ 3 \end{bmatrix}$  (۴)

$\begin{bmatrix} -2 \\ -3 \end{bmatrix}$  (۳)

۳۳- سن حمید دو برابر سن محمد است. ۲۰ سال دیگر مجموع سن آنها ۸۲ سال می‌شود. اکنون

اختلاف سن آنها چند سال است؟

۱۵ (۲)

۲۰ (۱)

۱۴ (۴)

۱۱ (۳)

۳۴- با توجه به تساوی زیر، عبارت داخل  همواره کدام است؟

$$8a^3b^2 + 3b^2a - b^3a^2 = \square \times (8a^2 - ab + 3)$$

ab (۲)

ab<sup>2</sup> (۱)

a<sup>2</sup>b (۴)

a<sup>2</sup>b<sup>2</sup> (۳)

۳۵- اگر  $a + b = 4$  و  $a - b = 3$  باشد، آنگاه حاصل  $a^2 - b^2$  کدام است؟

۷ (۲)

۹ (۱)

۱ (۴)

۱۲ (۳)

۳۶- اختلاف اندازه هر زاویه داخلی با هر زاویه خارجی یک ۱۵ ضلعی منتظم چند درجه است؟

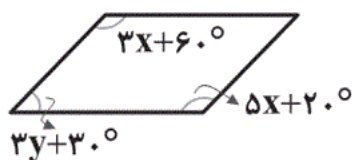
۱۳۲ (۲)

۱۲۵ (۱)

۱۳۶ (۴)

۱۴۰ (۳)

۳۷- چهارضلعی شکل زیر متوازی الاضلاع است. حاصل  $x + y$  کدام است؟



$35^\circ$  (۲)

$40^\circ$  (۱)

$30^\circ$  (۴)

$20^\circ$  (۳)

۳۸- دقیقاً چند عدد گویا بین  $\frac{3}{5}$  و  $\frac{6}{7}$  وجود دارد که صورت آن یک عدد طبیعی و مخرج آن برابر ۳۵ باشد؟

۷ (۲)

۶ (۱)

۹ (۴)

۸ (۳)

۳۹- کدام دو عدد زیر نسبت به هم اول هستند؟

۱۴۳ و ۱۱ (۲)

۹ و ۶ (۱)

۱۰۲ و ۲۹ (۴)

۶۵ و ۱۳ (۳)

۴۰- عددی سه رقمی کوچکتر از ۳۰۰ داریم. برای اینکه مطمئن شویم این عدد اول است یا مرکب،

با حداقل چند تقسیم می‌توانیم این کار را انجام دهیم؟

۸ (۲)

۶ (۱)

۹ (۴)

۷ (۳)

(مشابه این سؤال را می‌توانید در سؤال ۱۳ فصل پنجم کتاب سه‌سطمی مطالعه کنید.)

◀ علت انتقاب: در سال ششم به‌صورت جزئی با مفتمات آشنا شدید. در سال هفتم یکم فراتر رفته و بردارهای انتقال را فرا

گرفتید. در سال هشتم با ضرب عدد در بردار و جمع بردارها به‌صورت ترسیمی آشنا می‌شوید. از این فصل در امتحان نیم‌سال

اول ۳/۵ نمره و در نیم‌سال دوم ۱/۵ نمره سؤال فواید داشت. دانش‌آموزان در این مبحث یاد می‌گیرند که با ضرب یک

عدد در یک بردار، آن عدد در مؤلفه طول و عرض آن بردار ضرب می‌شود.

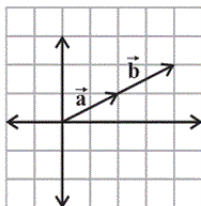
$$\begin{bmatrix} 2 \\ 3 \end{bmatrix} + 2 \times \begin{bmatrix} -1 \\ 1 \end{bmatrix} = \begin{bmatrix} 2 \\ 3 \end{bmatrix} + \begin{bmatrix} -2 \\ 2 \end{bmatrix} = \begin{bmatrix} 0 \\ 5 \end{bmatrix}$$

ضرب عدد در بردار

اگر عددی در یک بردار ضرب شود، آن عدد هم در طول و هم در عرض بردار ضرب می‌گردد. یعنی با ضرب عدد  $k$  در بردار  $\vec{a} = \begin{bmatrix} x \\ y \end{bmatrix}$  داریم:

$$k \times \begin{bmatrix} x \\ y \end{bmatrix} = \begin{bmatrix} kx \\ ky \end{bmatrix}$$

سؤال: با توجه به بردار  $\vec{a} = \begin{bmatrix} 2 \\ 1 \end{bmatrix}$  بردار  $\vec{b} = 2\vec{a}$  را رسم کرده و مختصات آن را به‌دست آورید.



جواب:  $\vec{b} = 2 \times \begin{bmatrix} 2 \\ 1 \end{bmatrix} = \begin{bmatrix} 4 \\ 2 \end{bmatrix}$

**نکته** با ضرب عدد  $k$  در بردار  $\vec{a}$ ، بردار  $\vec{b}$  حاصل می‌شود که این عبارت را به صورت جبری اینگونه نشان می‌دهیم:  $k\vec{a} = \vec{b}$  و خواهیم داشت:

(الف) اگر عددی مثبت باشد، هر دو بردار  $\vec{a}$  و  $\vec{b}$  هم‌جهت می‌شوند.

(ب) اگر عددی منفی باشد، جهت دو بردار  $\vec{a}$  و  $\vec{b}$  قرینه یکدیگر خواهد بود.

(ج) اگر  $-1 < k < 1$  باشد، بردار حاصل کوچک‌تر از بردار اولیه خواهد شد.

بنابراین گزینه «۲» صحیح است.

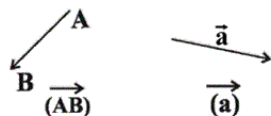
(صفحه‌های ۷۰ تا ۷۷ کتاب درسی - بردار و مفتمات)

(مشابه این سؤال را می‌توانید در سؤال ۱۳۶ کتاب پرتکرار مطالعه کنید.)

« علت انتقاب: با بردار انتقال در سال هفتم آشنا شدید در سال هشتم هم به عنوان یادآوری با آن روبه‌رو می‌شوید. پس از یادگیری در این مبهم می‌توانید بردار انتقال بین دو نقطه را به دست آورید و به این نکته دقت کافی را داشته باشید که برای به دست آوردن مختصات بردار انتقال، مختصات انتهای بردار را منهای مختصات ابتدای بردار می‌کنیم. مشابه این سؤال به تعداد ۳ سؤال در کتاب پرتکرار و ۴ سؤال در کتاب آبی وجود دارد.

$$\begin{bmatrix} 3 \\ 2 \end{bmatrix} + \vec{a} = \begin{bmatrix} 5 \\ 5 \end{bmatrix} \Rightarrow \vec{a} = \begin{bmatrix} 5 \\ 5 \end{bmatrix} - \begin{bmatrix} 3 \\ 2 \end{bmatrix} = \begin{bmatrix} 2 \\ 3 \end{bmatrix} \Rightarrow \vec{a} \text{ قرینه بردار } \vec{a} = \begin{bmatrix} -2 \\ -3 \end{bmatrix}$$

جمع بردارها



**یادآوری:** پاره‌خط جهت‌دار را بردار می‌گوییم و آن را با دو حرف بزرگ و یا با یک حرف کوچک انگلیسی نشان می‌دهیم.

**نکته** هر برداری در دستگاه مختصات دارای یک مختصات است که برای پیدا کردن مختصات برداری مانند  $\vec{AB}$ ، باید از خود بپرسیم برای

رفتن از نقطه A به B باید سمت چپ برویم یا راست؟ چند واحد؟ باید بالا برویم یا پایین؟ چند واحد؟

**یادآوری:** علامت راست و بالا مثبت و علامت سمت چپ و پایین منفی است.

**نکته** برداری که موازی محور طول‌ها باشد، دارای عرض صفر است و مختصات آن به صورت  $\begin{bmatrix} x \\ 0 \end{bmatrix}$  است.

**نکته** برداری که موازی محور عرض‌ها باشد، دارای طول صفر است و مختصات آن به صورت  $\begin{bmatrix} 0 \\ y \end{bmatrix}$  است.

**نکته** برای هر برداری مانند بردار  $\vec{AB}$ ، می‌توان یک جمع برداری به صورت زیر نوشت:

$$A + (\vec{AB}) = B$$

مختصات انتهای بردار = مختصات بردار + مختصات ابتدای بردار

بنابراین گزینه «۳» صحیح است.

(صفحه‌های ۷۰ تا ۷۳ کتاب درسی - بردار و مختصات)

 ۴

 ۳

 ۲

 ۱

(مشابه این سؤال را می‌توانید در سؤال ۱۳۳ کتاب پرتکرار مطالعه کنید.)

«علت انتفاخ»: برای حل این سؤال دانش‌آموز باید هر سه مبحث ساده‌سازی عبارت جبری، تجزیه عبارت جبری و حل معادله را فرا گرفته باشد. در امتحان نیم‌سال اول یک سؤال به صورت مستقیم از حل معادله یا مسئله‌ای که منجر به تشکیل معادله و حل آن شود خواهد آمد لذا یادگیری این سه مبحث توجه ویژه‌ای را می‌طلبد از حل معادله ۲۵ سؤال در کتاب آبی و ۳۰ سؤال در کتاب پرتکرار آورده شده است که نشان از اهمیت این مبحث دارد.

$$2x = \text{سن حمید} \Rightarrow x = \text{سن محمد}$$

۲۰ سال بعد      ۲۰ سال بعد

$$x + 20 \qquad 2x + 20 \Rightarrow (x + 20) + (2x + 20) = 82$$

$$\Rightarrow 3x + 40 = 82 \Rightarrow 3x = 42 \Rightarrow x = 14 \text{ سال}$$

$$\left. \begin{array}{l} \text{سن محمد} = 14 \\ \text{سن حمید} = 28 \end{array} \right\} \Rightarrow 28 - 14 = 14 \text{ سال}$$

معادله

یادآوری:

تعریف معادله: معادله یک تساوی جبری است که با جاگذاری بعضی از اعداد به جای متغیرهای آن، به یک تساوی عددی درست تبدیل می‌شود.

**نکته ۱** معادله‌ای را که بالاترین توان متغیر آن ۱ باشد، معادله درجه اول می‌نامیم.

روش حل معادلات درجه اول:

(۱) متغیرها در یک طرف و اعداد معلوم (بدون متغیر) را به طرف دیگر تساوی می‌بریم.

(۲) عددها و عبارت‌های هر طرف تساوی را باهم جمع می‌کنیم.

(۳) در مرحله سوم، بعد از ساده کردن دو طرف تساوی، در یک طرف عددی معلوم و در طرف دیگر یک عبارت جبری خواهیم داشت.

(۴) با تقسیم عدد معلوم بر ضریب متغیر (مجهول)، جواب معادله حاصل خواهد شد.

**نکته ۲** اگر عدد و یا عبارتی را از یک طرف تساوی به طرف دیگر تساوی منتقل کنیم، علامت آن قرینه می‌شود.

بنابراین گزینه «۴» صحیح است.

(صفحه‌های ۶۴ تا ۶۷ کتاب درسی - جبر و معادله)

۴ ✓

۳

۲

۱



«علت انتساب: مبمٹ تجزیه عبارت جبری و فاکتورگیری، جدیدترین مبمٹ و در عین حال مهم‌ترین مبمٹ این فصل است که در واقع معکوس عمل ضرب عبارت جبری در یک پزانتز است. دانش‌آموزان در این مبمٹ یاد می‌گیرند که چگونه یک عبارت جبری را به ضرب دو یا چند عبارت جبری تجزیه کنند. از این قسمت همواره یک سؤال به‌صورت مستقیم در امتحان نیم‌سال اول فواهد آمد لذا توجه ویژه‌ای را می‌طلبید.

در عبارت‌های داده شده، عبارت  $ab^2$  مشترک است، پس داریم:

$$8a^3b^2 + 3b^2a - b^3a^2 = ab^2 \times (8a^2 + 3 - ab) \Rightarrow \boxed{\phantom{ab^2}} = ab^2$$

تجزیه عبارت‌های جبری

تجزیه یک عدد: اگر بتوانیم عددی را به‌صورت حاصل ضربی از اعداد اول بنویسیم، آن را تجزیه کرده‌ایم.

مثال:

$$40 = 2 \times 2 \times 2 \times 5 = 2^3 \times 5$$

تجزیه یک عبارت جبری: اگر بتوانیم یک عبارت جبری را به‌صورت حاصل ضربی از دو یا چند عبارت بنویسیم، می‌گوییم آن را تجزیه کرده‌ایم.

مثال:

$$ax + ay = a(x + y)$$

**نکته** تجزیه یک عبارت، عمل عکس توزیع کردن است. زیرا:  $a(x + y) = ax + ay$

برای تجزیه عبارتی مانند  $10xy + 15x^2$  باید عامل‌های مشترک بین  $10xy$  و  $15x^2$  را پیدا کنیم و آن را در عامل‌های غیرمشترک این دو عبارت ضرب کنیم که به این نوع تجزیه کردن «فاکتورگیری» می‌گوییم.

به نظر شما بین  $10xy$  و  $15x^2$  چه عامل‌هایی مشترک هستند؟ اگر جواب شما  $5x$  باشد، شما درست جواب داده‌اید.

بنابراین گزینه «۱» صحیح است.

(صفحه‌های ۶۰ تا ۶۳ کتاب درسی - جبر و معادله)

۴

۳

۲

۱ ✓

(مشابه این سؤال را می‌توانید در سؤال ۲۱ فصل چهارم کتاب سه‌سطمی مطالعه کنید.)

« علت انتفاع: مقدمهٔ این مباحث را سال هفتم فرا گرفتید. امسال یادگیری بیش‌تری از این مبحث را پیش‌رو دارید و در سال نهم برای یادگیری کامل مبحث اتمادها نیاز است که این مبحث یعنی ساده‌سازی عبارات جبری مسلط باشید. همچنین ۵ نمره امتحان نیم‌سال اول به این فصل اختصاص دارد که توجه ویژه‌ای را می‌طلبد. همچنین از این مبحث ۱۰ سؤال در کتاب پرتکرار و ۱۰ سؤال در کتاب آبی وجود دارد.

$$(a+b)(a-b) = a^2 - ab + ab - b^2 = a^2 - b^2$$

$$\Rightarrow a^2 - b^2 = 3 \times 4 = 12$$

پیدا کردن مقدار یک عبارت جبری

برای پیدا کردن مقدار عددی یک عبارت جبری، به‌جای هر کدام از حروف آن عبارت، عدد داده شده را قرار می‌دهیم و پس از انجام عملیات ریاضی، مقدار عددی را به‌دست می‌آوریم.

سؤال: مقدار عددی هر یک از عبارتهای زیر را به ازای مقادیر داده شده، حساب کنید.

۱)  $x^2 - 2y + 3y^2$  ( $x = 5, y = 2$ )

۲)  $\frac{3m - 2n}{5m + 1}$  ( $m = 7, n = -5$ )

۳)  $\sqrt{b^2 - 4ac}$  ( $a = 5, b = -3, c = -2$ )

پاسخ:

۱)  $5^2 - 2 \times 2 + 3 \times 2^2 = 25 - 4 + 12 = 33$

۲)  $\frac{3 \times 7 - 2 \times (-5)}{5 \times 7 + 1} = \frac{21 + 10}{36} = \frac{31}{36}$

۳)  $\sqrt{(-3)^2 - 4 \times 5 \times (-2)} = \sqrt{9 + 40} = \sqrt{49} = 7$

بنابراین گزینهٔ «۳» صحیح است.

(صفحه‌های ۵۶ تا ۵۹ کتاب درسی- جبر و معادله)

۴

۳ ✓

۲

۱

(مشابه این سؤال را می‌توانید در سؤال ۱۸۶ کتاب آبی مطالعه کنید.)

«**علت انتساب:** یکی از مهم‌ترین مباحث فصل سوم کتاب به‌دست آوردن اندازه زاویه‌های داخلی و خارجی یک  $n$ ضلعی منتظم است که ۱ تا ۱/۵ نمره امتحان نیم‌سال اول را به خودش اختصاص داده است. دانش‌آموزان در این مبحث رابطه بین اندازه زاویه داخلی و تعداد اضلاع  $n$ ضلعی را فرا می‌گیرند. از مبحث زاویه‌های داخلی در کتاب پرتکرار ۲۰ سؤال و در کتاب آبی ۱۵ سؤال آورده شده است که نشان از اهمیت آن دارد.

$$\text{اندازه هر زاویه خارجی} = \frac{360^\circ}{n} \xrightarrow{n=15} \frac{360^\circ}{15} = 24^\circ \Rightarrow \text{اندازه زاویه داخلی} = 180^\circ - 24^\circ = 156^\circ$$

$$\Rightarrow 156^\circ - 24^\circ = 132^\circ$$

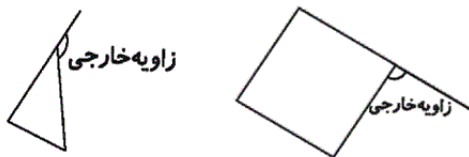
زاویه‌های داخلی و خارجی

سؤال: اندازه هر زاویه داخلی یک  $n$ ضلعی منتظم چگونه به‌دست می‌آید؟

جواب: هر  $n$ ضلعی منتظم دارای  $n$  زاویه هم‌اندازه است که اندازه هر زاویه داخلی آن از رابطه زیر به‌دست می‌آید:

$$\text{اندازه هر زاویه داخلی } n\text{ضلعی منتظم} = \frac{(n-2) \times 180^\circ}{n}$$

تعریف زاویه خارجی یک چند ضلعی: زاویه‌ای که در هر رأس یک چند ضلعی (محدب) بین ضلع و امتداد ضلع دیگر تشکیل می‌شود، «زاویه خارجی» آن چند ضلعی نامیده می‌شود. مثال:



**نکته** مجموع زاویه‌های خارجی هر نوع چند ضلعی محدب برابر با  $360^\circ$  است.

**نکته** اندازه هر زاویه خارجی یک  $n$ ضلعی منتظم برابر با  $\frac{360^\circ}{n}$  می‌باشد.

بنابراین گزینه «۲» صحیح است.

(صفحه‌های ۱۴۲ تا ۱۴۹ کتاب درسی - چندضلعی‌ها)

۴

۳

۲ ✓

۱

◀ علت انتخاب: در مبثت چهارضلعی‌ها در این فصل شما با خواص چهارضلعی‌های مختلف و تفاوت مربع، لوزی، مستطیل آشنا

می‌شوید. از این مبثت ۱۰ سؤال در کتاب آبی و ۱۰ سؤال در کتاب پرتکرار آورده شده است. از این مبثت همواره یک سؤال در

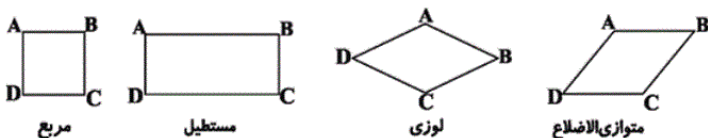
امتحان نیم‌سال اول فواید آمد و درک خواص متوازی‌الاضلاع و تفاوت مستطیل و مربع و لوزی دقت زیادی می‌طلبد.

در متوازی‌الاضلاع، زاویه‌های روبه‌رو دو به دو با هم برابرند و زاویه‌های مجاور مکمل یکدیگر هستند پس:

$$\left. \begin{aligned} 3x + 60^\circ &= 5x + 20^\circ \Rightarrow 2x = 40^\circ \Rightarrow x = 20^\circ \\ \Rightarrow 5x + 20^\circ &= 120^\circ \\ \Rightarrow 120^\circ + (3y + 30^\circ) &= 180^\circ \Rightarrow y = 10^\circ \end{aligned} \right\} \begin{aligned} x + y &= 30^\circ \end{aligned}$$

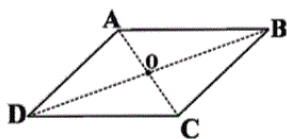
چهار ضلعی‌ها

متوازی‌الاضلاع: نوعی چهارضلعی است که در آن ضلع‌های روبه‌رو دوجه‌دو موازی یکدیگر باشند؛ مانند متوازی‌الاضلاع‌های زیر:



توجه: در تمامی شکل‌های بالا:  $AB \parallel CD$  و  $AD \parallel BC$

خواص متوازی‌الاضلاع:



$$\left\{ \begin{aligned} AB &\parallel CD \\ AD &\parallel BC \end{aligned} \right.$$

(۱) ضلع‌های روبه‌رو ۲ به ۲ موازی‌اند.

$$\left\{ \begin{aligned} \hat{A} + \hat{B} &= 180^\circ \\ \hat{B} + \hat{C} &= 180^\circ \\ \hat{C} + \hat{D} &= 180^\circ \\ \hat{D} + \hat{A} &= 180^\circ \end{aligned} \right. \quad \left\{ \begin{aligned} \hat{A} &= \hat{C} \\ \hat{B} &= \hat{D} \end{aligned} \right. \quad \left\{ \begin{aligned} AB &= CD \\ AD &= BC \end{aligned} \right.$$

(۲) ضلع‌های روبه‌رو ۲ به ۲ مساوی‌اند.

(۵) زاویه‌های مجاور مکمل یکدیگرند.

$$\left\{ \begin{aligned} AO &= OC \\ BO &= OD \end{aligned} \right.$$

(۴) قطر‌ها یکدیگر را نصف می‌کنند.

بنابراین گزینه «۴» صحیح است.

(صفحه‌های ۳۸ تا ۴۱ کتاب درسی- چندضلعی‌ها)

(مشابه این سؤال را می‌توانید در سؤال ۱۳ کتاب پرتکرار مطالعه کنید.)

«علت انتساب»: در سال ششم با کسرها و اعمال جمع و تفریق کسرها و ضرب و تقسیم آنها آشنا شدید. در این فصل از سال هشتم با تعریف عدد گویا و فواصل اعداد گویا آشنا می‌شوید و اعمال ضرب و تقسیم و جمع و تفریق کسرها را مفصل‌تر از سال ششم فرا می‌گیرید. از این مبحث ۲ تا ۳ نمره در امتحان نیم‌سال اول سؤال فواید داشت. مشابه این سؤال به تعداد ۲۰ سؤال در کتاب پرتکرار و ۳۰ سؤال در کتاب آبی آورده شده است.

ابتدا مخرج کسره‌های داده شده را یکی و برابر ۳۵ می‌کنیم:

$$\left. \begin{array}{l} \frac{3}{5} = \frac{21}{35} \\ \frac{6}{7} = \frac{30}{35} \end{array} \right\} \Rightarrow \frac{21}{35} < \frac{22}{35} < \frac{23}{35} < \dots < \frac{29}{35} < \frac{30}{35}$$

۸ کسر وجود دارد.

معرفی عددهای گویا

**نکته** هر کسر بزرگ‌تر از واحد را می‌توان به عددی مخلوط تبدیل نمود و هر عدد مخلوط را نیز می‌توان به یک کسر تبدیل کرد.

مثال:

$$+\frac{13}{5} = +2\frac{3}{5}, \quad -\frac{4}{7} = -\frac{(4 \times 7) + 3}{7} = -\frac{31}{7}$$

**نکته** اگر صورت و مخرج یک عدد گویا را در عددی ثابت (مخالف صفر) ضرب و یا تقسیم کنیم، جواب به‌دست آمده با عدد گویای اولیه

برابر خواهد شد.

مثال:

$$-\frac{3}{5} \xrightarrow{\times 4} -\frac{12}{20}, \quad +\frac{28}{12} \xrightarrow{\div 4} +\frac{7}{3}$$

ساده کردن کسرها: برای ساده کردن کسرها، ابتدا علامت نهایی کسر را با تعیین علامت کردن به‌دست می‌آوریم و سپس عامل‌های مشترک

موجود در اعداد صورت و مخرج را مشخص کرده و از صورت و مخرج حذف می‌کنیم. مثال:

$$1) \frac{(-25) \times (-21)}{(-20) \times (+14)}$$

$$\left. \begin{array}{l} \frac{(-) \times (-)}{(-) \times (+)} = \frac{(+)}{(-)} = (-) \\ \frac{(5 \times 5) \times (3 \times 7)}{(4 \times 5) \times (2 \times 7)} = \frac{5 \times 3}{4 \times 2} = \frac{15}{8} \end{array} \right\} \rightarrow -\frac{15}{8}$$

بنابراین گزینه «۳» صحیح است.

(صفحه‌های ۶ تا ۹ کتاب درسی- عددهای صحیح و گویا)

«علت انتخاب: با مفهوم عددهای اول و شمارنده‌های اول و پیدا کردن ب.م.م و ک.م.م در سال هفتم به صورت مختصر

آشنا شدید. در این فصل با مفهوم جدیدی به اسم عددهای مرکب آشنا می‌شوید. از این فصل در امتحان نیم‌سال اول

۲/۵ نمره و در نیم‌سال دوم ۱ نمره سؤال فواید داشت. از این مبحث ۳۰ سؤال در کتاب پرتکرار و ۵۳ سؤال در کتاب

آبی وجود دارد.

$$(6, 9) = 3$$

$$(11, 143) = 11$$

$$(13, 65) = 13$$

$$(29, 102) = 1 \Rightarrow \text{نسبت به هم اول هستند.}$$

یادآوری عددهای اول

تعریف عدد مرکب: اعداد طبیعی و بزرگ‌تر از یک را که می‌توانیم به صورت حاصل ضرب دو عدد طبیعی بزرگ‌تر از یک بنویسیم، «عدد

مرکب» می‌گوییم. مانند عدد ۱۵ که می‌توانیم آن را به صورت  $15 = 3 \times 5$  بنویسیم.

**نکته** می‌توانیم بگوییم «عددی مرکب است که بیش از دو تا شمارنده داشته باشد». مانند: ۱، ۲، ۳، ۶، ۹، ۱۸: شمارنده‌های طبیعی عدد ۱۸

نتیجه: اعداد طبیعی را می‌توانیم به ۳ دسته مجزا از هم تقسیم کنیم:

(۱) اعداد اول که فقط ۲ تا شمارنده دارند. مانند عدد ۳

(۲) اعداد مرکب که بیش از ۲ تا شمارنده دارند. مانند عدد ۱۰

(۳) عدد ۱ که نه اول است و نه مرکب.

تعریف دو عدد نسبت به هم اول:

اگر (ب.م.م) دو عدد  $a$  و  $b$  برابر با یک باشد، می‌گوییم دو عدد  $a$  و  $b$  نسبت به هم اول هستند و می‌نویسیم:  $(a, b) = 1$

برای مثال دو عدد ۱۴ و ۲۵ نسبت به هم اول هستند؛ زیرا بزرگ‌ترین شمارنده مشترک بین آن‌ها عدد ۱ است.

بنابراین گزینه «۴» صحیح است.

(صفحه‌های ۲۰ تا ۲۳ کتاب درسی- عددهای اول)

◀ علت انتساب: با مقدمات اعداد اول و شمارنده‌های اول در سال هفتم آشنا شدید. در این فصل با روش جدیدی به اسم روش غربال، اعداد اول را جدا می‌کنیم. در این روش یاد می‌گیریم چگونه و با چه ترتیبی باید اعداد را غربال کرده و اعداد اول را به دست آوریم از روش غربال به صورت مستقیم یک سؤال در امتحان نیم‌سال اول فواید آمد پس باید به فوبی فرا گرفته شود. از روش غربال در کتاب پرتکرار ۲۰ سؤال و در کتاب آبی ۱۵ سؤال آورده شده است.

عدد ۳۰۰ بین مجذور دو عدد اول ۱۷ و ۱۹ قرار دارد.

$$۱۷^2 < ۳۰۰ < ۱۹^2$$

پس با تقسیم عدد ۳۰۰ بر اعداد اول کوچک‌تر از ۱۹ می‌توان فهمید که این عدد اول است یا مرکب.

۱۷, ۱۳, ۱۱, ۷, ۵, ۳, ۲: اعداد اول کوچک‌تر از ۱۹

تعیین عددهای اول

نکته: در روش الگوریتم غربال، مضرب‌های خط نخورده عدد اول  $a$  از  $a^2$  شروع می‌شوند. برای مثال: مضرب‌های خط نخورده عدد ۵ از

$۵^2 = ۲۵$  شروع می‌شوند؛ زیرا اعداد ۱۰ و ۱۵ و ۲۰ توسط عددهای اول کوچک از ۵ (یعنی ۳ و ۲) خط خورده‌اند.

**نکته** در روش الگوریتم غربال می‌توانیم از بزرگ‌ترین عدد موجود جذر بگیریم تا عددی مانند  $A$  ظاهر شود و کار خط زدن‌ها را تا اعداد اول کوچک‌تر و یا مساوی با  $A$  ادامه دهیم.

مثال: برای تعیین اعداد اول ۹۰ تا ۱۵۰ عمل خط زدن‌ها را تا کدام عدد باید ادامه دهیم؟

$$\sqrt{۱۵۰} \approx ۱۲$$

جواب: ابتدا جذر تقریبی ۱۵۰ را حساب می‌کنیم:

بنابراین مضرب‌های اعداد اول کوچک‌تر از ۱۲ به جز خود این اعداد باید خط بخورند و کار خط زدن‌ها تا عدد اول ۱۱ ادامه می‌یابد.

$$\{۲, ۳, ۵, ۷, ۱۱\} = \text{اعداد اول کوچک‌تر از } ۱۲$$

تعیین اول و یا مرکب بودن یک عدد به روش بخش‌پذیری:

در این روش ابتدا جذر آن عدد را حساب کرده و آن عدد را بر اعداد اول کوچک‌تر و یا مساوی با مقدار جواب تقسیم می‌کنیم. (بخش‌پذیری را بررسی می‌کنیم). اگر بر هیچ کدام بخش‌پذیر نبود، عددی اول و در غیر این صورت، عددی مرکب است.

بنابراین گزینه «۳» صحیح است.

(صفحه‌های ۲۴ تا ۲۷ کتاب درسی - عددهای اول)