

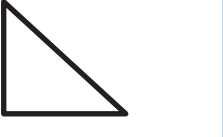



۱	<p>جمله nام جملات زیر را بنویسید.</p> <p>۲-۴-۶-۸-.....</p> <p>۵-۱۰-۱۵-.....</p>	۶								
۱	<p>عبارتهای جبری زیر را ساده کنید.</p> <p>a) $2x + 4y - 6x + 2 + y =$</p> <p>b) $2a + 3b + 4a - 4b + 1 =$</p>	۷								
۱	<p>مقدار عددی جدول زیر را کامل کنید</p> <table border="1" style="margin-left: auto; margin-right: auto;"> <tr> <td>x</td> <td>-1</td> <td>2</td> <td>1</td> </tr> <tr> <td>$2x + 3$</td> <td></td> <td></td> <td></td> </tr> </table>	x	-1	2	1	$2x + 3$				۸
x	-1	2	1							
$2x + 3$										
۱,۵	<p>معادلات زیر را حل کنید.</p> <p>$4x = 8$</p> <p>$3x - 5 = 4$</p>	۹								
۱,۵	<p>در شکل مقابل نام ۳ نیم خط و ۳ پاره خط بنویسید.</p> 	۱۰								
۱	<p>اندازه زاویه های مشخص شده را بدست آورید.</p> 	۱۱								
۰,۷۵	<p>قرینه شکل زیر را نسبت به خط d رسم کنید.</p> 	۱۲								
۱	<p>اعداد اول بین ۱ تا ۱۵ را بنویسید.</p>	۱۳								
۱	<p>شمارنده های طبیعی عدد ۳۰ را بنویسید.</p>	۱۴								
۱	<p>شباهت ها و تفاوت های شکل های زیر را بنویسید</p> 	۱۵								
۲۰	<p>پیروز و سربلند باشید «شجاعی»</p>	جمع								