



**RIAZISARA**

سایت ویژه ریاضیات [www.riazisara.ir](http://www.riazisara.ir)

**درسنامه ها و جزوه های ریاضی  
سوالات و پاسخنامه تشریحی کنکور  
نمونه سوالات امتحانات ریاضی  
نرم افزارهای ریاضیات**

و...

[@riazisara](https://t.me/riazisara)

ریاضی سرا در تلگرام:



<https://t.me/riazisara>


[@riazisara.ir](https://www.instagram.com/riazisara.ir)

ریاضی سرا در اینستاگرام:



<https://www.instagram.com/riazisara.ir>

همه‌هنگی کلاس خصوصی آنلاین ریاضی ۰۹۲۲۰۶۳۳۰۶۲



کد کنترل

322

A

دانلود سوالات و پاسفنامه تشریحی کنکور از سایت ریاضی سرا



ریاست جمهوری

سازمان ملی سخن و ارزشیابی نظام آموزش کشور

صبح پنجشنبه ۱۴۰۳/۰۴/۲۱

دفترچه شماره ۲

در زمینه مسائل علمی باید دنبال قله بود.

مقام معظم رهبری (مدظله العالی)

## آزمون اختصاصی (سراسری) ورودی دانشگاهها و مؤسسات آموزش عالی

نوبت دوم - تیرماه ۱۴۰۳

### گروه آزمایشی علوم انسانی

مدت پاسخگویی: ۷۵ دقیقه

تعداد سؤال: ۸۰

ردیف	مواد امتحانی	تعداد سؤال	از شماره	تا شماره
۱	زبان عربی	۲۰	۸۱	۱۰۰
۲	تاریخ	۱۳	۱۰۱	۱۱۳
۳	جغرافیا	۱۲	۱۱۴	۱۲۵
۴	فلسفه و منطق	۲۰	۱۲۶	۱۴۵
۵	اقتصاد	۱۵	۱۴۶	۱۶۰

استفاده از ماشین حساب مجاز نیست.

این آزمون، نمره منفی دارد.

حق چاپ، تکثیر و انتشار سوالات به هر روش (الکترونیکی و ...) پس از برگزاری آزمون، برای تمامی اشخاص حقیقی و حقوقی تنها با مجوز این سازمان مجاز می‌باشد و با متخلفین برابر مقررات رفتار می‌شود.

\* داوطلب گرامی، عدم درج مشخصات و امضا در مندرجات جدول زیر، به منزله عدم حضور شما در جلسه آزمون است.

اینجانب ..... با شماره داوطلبی ..... با آگاهی کامل، یکسان بودن شماره صندلی خود را با شماره داوطلبی مندرج در بالای کارت ورود به جلسه، بالای پاسخنامه و دفترچه سوالات، نوع و کد کنترل درج شده بر روی دفترچه سوالات تأیید می‌نمایم.

امضا:

■ ■ عین الأنسب للجواب عن الترجمة أو المفهوم من أو إلى العربية (۸۱ - ۸۹)

۸۱- ﴿ أَنْفِقُوا مِمَّا رَزَقْنَاكُمْ مِنْ قَبْلِ أَنْ يَأْتِيَ يَوْمٌ لَا بَيْعَ فِيهِ وَلَا خُلَّةً ﴾:

- ۱) هزینه کنید پیش از فرا رسیدن آن روز که نه می‌توان خرید و فروش کرد و نه دوستی!
- ۲) انفاقی که می‌کنید باید از رزق ما به شما باشد و قبل از روزی که نتوانید فروش کنید و نه دوستیابی!
- ۳) از آنچه به شما روزی دادیم انفاق کنید قبل از اینکه روزی بیاید که نه فروشی در آن است و نه دوستی!
- ۴) از هرچه روزی شما کردیم هزینه کنید پیش از اینکه آن روز فرا برسد که نه می‌توان خرید و فروش کرد و نه دوستیابی!

۸۲- « أَخَذَ عِلْمَاءُ الْحَقِّ يُفَكِّرُونَ وَيَكْتُبُونَ قَوَانِينٍ تَحْتَوِي عَلَى أَكْثَرِ حَاجَاتِ الْإِنْسَانِ، وَ فِيهَا طَرِقٌ لِنَقْلِ نَقَائِصِ الْقَانُونِ فِي الْبِلَادِ: » قانوندانان .....

- ۱) تفکر می‌کنند و قوانینی که حاوی بیشترین احتیاجات آدمی است را می‌نویسند تا راههایی برای کاستن از نقص‌های قانون در کشور در آن باشد!
- ۲) شروع به فکر کردن و نوشتن قوانینی کردند که بیشترین نیازهای انسان را دربر می‌گیرد و در آن راههایی برای کم کردن کاستی‌های قانون در کشور وجود دارد!
- ۳) فکر کردن و نوشتن راجع به قوانینی را پیش گرفته‌اند که بیشتر حاجات انسان را دربر داشته باشد، و در آن راههایی باشد تا از نقایص قانونی کشور بکاهد!
- ۴) شروع می‌کنند به اینکه تفکر کرده قوانین فراگیری را بنویسند که حاوی بیشتر خواسته‌های بشر باشد و نیز شامل راههایی برای کم شدن کاستی‌های قانونی در کشور باشد!

۸۳- « مَنْ ذَا الَّذِي زَانَ السَّمَاءَ بِأَنْجَمٍ كَالدَّرِّ الْمُنْتَشِرَةِ لِيَهْتَدِيَ بِهَا النَّاسُ فِي ظُلُمَاتِ الْبَرِّ وَالْبَحْرِ، وَ أَنْزَلَ مِنْهُ مَاءً وَ أَخْرَجَ بِهِ أَنْوَاعَ النَّبَاتَاتِ الْمُخْتَلِفَةِ؟ »: چه کسی آسمان را .....

- ۱) زینت بخشید با ستاره‌های پراکنده مرواریدگون برای راهنمایی مردم در تاریکیهای خشکی و دریا و آبی از آن نازل کرد تا انواعی مختلف از گیاهان برویند!
- ۲) مزین به ستاره‌های مرواریدگون پراکنده کرده است تا با آنها مردم را در تاریکیهای خشکی و دریا راهنمایی کند و از این آسمان آب نازل کرد که انواعی مختلف از گیاهان را برویند!
- ۳) مزین کرد به ستاره‌هایی همچون مرواریدهای پراکنده تا در تاریکیهای خشکی و دریا مردم را راهنمایی کند و از آسمان آبی فرو فرستاد و انواعی از گیاهان مختلف را بیرون آورد!
- ۴) با ستارگانی چون مرواریدهای پراکنده زینت داد تا بدانها مردم در تاریکیهای خشکی و دریا راهنمایی شوند و از آن آبی فرو فرستاد و بدان انواع مختلف گیاهان را بیرون آورد!

۸۴- « مَنْ حَاوَلَ فِي إِنْجَازِ عَمَلِهِ مَشْتَاقًا وَ مَا شَعَرَ بِالتَّعَبِ تُسَهِّلُ كُلُّ الْأُمُورِ لَهُ وَلَوْ كَانَتْ صَعْبَةً، وَ لَا يُضْعَفُ عَزْمُهُ أَبَدًا!»:

۱) هر کس که مشتاقانه کاری انجام دهد و سختی را حس نکند، همه کارهایش حتی اگر سخت باشد، آسان خواهد شد و هرگز اراده‌اش ضعیف نمی‌شود!

۲) آنکه با اشتیاق در انجام کار تلاش کرد و رنج آن را احساس نکرد همه کارهایش آسان می‌گردد هر چند سخت باشد و ابداً اراده‌اش را ضعیف نمی‌گرداند!

۳) هر آن کس که تلاش کند و در انجام کارش مشتاق باشد، همه کارهایش، گرچه سخت، آسان شده احساس سختی نمی‌کند، و هرگز اراده او ضعیف نخواهد بود!

۴) کسی که در انجام کار خود با اشتیاق تلاش کند و احساس رنج نکند، همه کارها برای او آسان می‌شود اگرچه سخت باشد، و هیچگاه اراده‌اش ضعیف نمی‌شود!

۸۵- « إِنْ لَمْ تَشْعُرْ فِي وَحْدَتِكَ بِالسَّعَادَةِ وَ السَّرُورِ فَلَنْ تَشْعُرَ بِالسَّعَادَةِ فِي عِلَاقَتِكَ مَعَ الْآخِرِينَ، لِأَنَّ السَّعَادَةَ الْحَقِيقِيَّةَ تَأْتِي مِنَ أَعْمَاقِ وَجُودِكَ!»:

۱) هرگاه در تنهایی خود سعادت و سرور را حس نکنی پس روابطت با دیگران به تو خوشبختی نمی‌دهد، زیرا خوشبختی از درون تو بوجود می‌آید!

۲) اگر در تنهایی خود احساس خوشبختی و شادی نکنی، در روابطت با دیگران احساس خوشبختی نخواهی کرد، زیرا سعادت حقیقی از اعماق وجودت برمی‌آید!

۳) چنانچه در تنهایی سعادت‌مند و شاد نباشی، در ارتباط با دیگران احساس خوشبختی نخواهی کرد، چه خوشبختی واقعی از عمق وجود تو سرچشمه می‌گیرد!

۴) هرگاه تنها بودن به تو احساس خوشبختی و شادمانی ندهد در روابط با دیگران سعادت را حس نخواهی کرد، زیرا حقیقت خوشبختی در این است که از اعماق وجود تو نشأت گرفته باشد!

۸۶- عَيْنُ الصَّحِيحِ:

۱) هنا في ساحة هذه المدينة القديمة كان رؤساء القبائل يجتمعون للشور حتى يجتنبوا الحرب: اینجا در میدان این شهر قدیمی سران قبایل برای مشورت جمع می‌شدند تا از جنگ دوری کنند!

۲) كانت في كتب العلماء المشهورين في الماضي تجارب قد تأثرت بها آراء عصرنا العلمية تأثراً: در کتابهای دانشمندان بنام گذشته تجربه‌هایی است که نظرات علمی در این زمان از آن شدیداً تأثیر پذیرفته است!

۳) هذه الأشجار الخضراء الجميلة كانت تحمل أثماراً ثقيلة في الصيف الماضي: این درختان سبز و زیبا، در تابستان گذشته میوه‌های سنگینی حمل کرده بودند!

۴) كان الإيرانيون يحتفلون في الأيام الأولى من فصل الخريف في القرون الماضية: در قرون گذشته ایرانیها روز اول پاییز را جشن می‌گرفتند!

۸۷- عَيْنُ الْخَطَأِ:

۱) سمعتُ قصيدةً رائعةً وُصفت فيها سماءُ ليلةِ سَوداءَ مع إنارةِ النجوم المنورة: قصیده جالبی را شنیدم که در آن آسمان شبی سیاه با درخشش ستارگان نورانی توصیف شده بود!

۲) كنت أمشي مع صديقتي فرأينا عَجُوزًا يُرِيدُ أَنْ يَعبُرَ الشَّارِعَ فِساعدناه: با دوستم راه می‌رفتم که سالمندی را دیدیم که می‌خواهد از خیابان عبور کند پس کمکش کردیم!

۳) أحبُّ نباتًا هو موجودٌ في ساحة بيتنا يُعطي ثمرًا أحمر اللون: گیاهی در حیاط خانه‌مان است که دوستش دارم و قرمزترین میوه را می‌دهد!

۴) لأتَحَيَّرُ النَّاسَ إِلَّا ظَاهِرَةً طَبِيعِيَّةً تَحْدُثُ قَلِيلًا: فقط یک پدیده طبیعی که کم اتفاق می‌افتد مردم را شگفت‌زده می‌کند!

۸۸- « آن مرد پشیمان شد و دست دختر خود را گرفت و آن را بوسید و او را نزد خود نشانده:»

(۱) ندم الرجل و أخذ يد بنته و قبلها و أجلسها عنده!

(۲) أخذ ذلك الرجل يندم و يأخذ يد بنته و يقبلها ثم أجلسها!

(۳) ندم ذلك الرجل و أخذ بيد بنته و قبله و أجلسه قريباً منها!

(۴) أخذ الرجل يندم و يأخذ يد بنته و يقبلها و ثم أجلسها عنده!

۸۹- عین ما لا یناسب فی المفهوم: « عداوة العاقل خیر من صداقة الجاهل»:

(۱) اگر خصم جان تو عاقل بود به از دوستاری که غافل بود

(۲) دشمن دانا بلندت می کند بر زمینت می زند نادان دوست

(۳) دوستی با مردم دانا نکوست دشمن دانا به از نادان دوست

(۴) دوستان چون جفا کنند همی من چه امید دارم از دشمن

■ ■ اقرأ النص التالي ثم أجب عن الأسئلة (۹۰ - ۹۴) بما یناسب النص:

یُشیر الخُبراءُ إلى أهمية تناول العنب، باعتدال، و ذلك لإحتوائه على نسبة عالية من السُكّر، إذ قد يؤدي تناول كميات كبيرة منه إلى ارتفاع السُكّر بالدم، و يؤكدون أنّ فوائد تناول العنب بشكل معتدل أكثر من مضرّاته! فالعناصر الموجودة في العنب تُساعد على منع العقل من الرّوال و فقدان الذاكرة مع الكبر في السن. و يُقال إنّ العنب يُحسّن جريان الدم إلى الدماغ و بالتالي تحسين التذكير اليومي! و أظهرت الدراسات، أنّ تناول أكّلات خفيفة من العنب يُمكن أن يُساعد في توازن ضغط الدم لأنّه يحتوي على نسبة عالية من البوتاسيوم الذي يُساعد في تقليل ضغط الدم عن طريق المساعدة في اتساع الشرايين. و كذلك العنب يُنظّم دورة النوم لإحتوائه على كمية صغيرة من هرمون النوم و بأكله تزداد قوّة الجسم للوقاية من الأمراض لامتلانه من فيتامين جيم (= سي).

۹۰- عین الخطأ:

(۱) إنّ أكل فواكه مليئة بفيتامين جيم أو سي يُفترح عند الابتلاء بالسُكّر!

(۲) كلّما تحسّن جريان الدم إلى الدماغ، يتخذ الإنسان عزمًا أصح!

(۳) من غايات الاعتدال هي المحافظة على صحّة الإنسان!

(۴) ما من فاكهة أو أكلة إلا و لها فوائد و مضرّات!

۹۱- عین الصحيح:

(۱) تناول العنب ولو باعتدال، يُضرّ المرضى المصابين بالسُكّر!

(۲) من فوائد العنب التي تحصل بتأخير هي الوقاية من النسيان!

(۳) من يلتزم أن يضع العنب في قائمة أسرته الغذائية يوميًا يتخلص من ضغط الدم!

(۴) أكل العنب من العوامل التي تُهدّي الأعصاب و تُسبب أن ينام الإنسان نومًا عميقًا!

۹۲- عین الصحیح: یؤکد النص علی .....

- (۱) الالتزام بالنوم الكافي!  
 (۲) اجتناب تناول السكریات أكیداً!  
 (۳) الحفاظ علی قوّة الجسم لمواجهة الأمراض!  
 (۴) لزوم اتخاذ الاعتدال في التغذية!  
 ■ عین الخطأ في الإعراب و التحليل الصرفي (۹۳ و ۹۴)

۹۳- «تناول - ارتفاع - يُحسِن - أظهرت»:

- (۱) ارتفاع: اسم - مفرد مذكر - مصدر (من باب افتعال) - مضاف إلى «السكر» - معرب / مجرور بحرف الجر؛ إلى ارتفاع: جار و مجرور  
 (۲) أظهرت: فعل ماضٍ - للمؤنث الغائب - مزيد ثلاثي (من باب إفعال) - متعديّ / فعل و فاعله «الدراسات» والجملة فعلية  
 (۳) يُحسِن: فعل مضارع - للغائب - مزيد ثلاثي بزيادة حرف واحد (من باب تفعّل) - متعديّ / فعل و مع فاعله جملة فعلية  
 (۴) تناول: اسم - مفرد مذكر - مصدر (من باب تفاعل) - مضاف إلى «كميات» - معرب/ فاعل لفعل «يؤدي» و مرفوع

۹۴- «معتدل - الموجودة - يساعد - ينظم»:

- (۱) معتدل: اسم - مفرد مذكر - اسم مفعول (مصدره: «اعتدال») - نكرة - معرب / صفة (نعت) و تابع للموصوف «شكل»  
 (۲) ينظم: فعل مضارع - للغائب - مزيد ثلاثي بزيادة حرف واحد (من باب تفعيل) - متعديّ - معلوم / فعل و مع فاعله جملة فعلية  
 (۳) الموجودة: اسم - مفرد مؤنث - اسم مفعول (من الفعل المجرد الثلاثي) - معرّف بأل - معرب / صفة أو نعت و تابع لموصوفه «العناصر»  
 (۴) يساعد: فعل مضارع - للمفرد الغائب - مزيد ثلاثي بحرف واحد (من باب مفاعلة) - معلوم (= مبني للمعلوم) / فعل و مع فاعله جملة فعلية

■ ■ عین المناسب للجواب عن الأسئلة التالية (۹۵-۱۰۰)

۹۵- عین الخطأ في ضبط حركات الحروف:

- (۱) الصّدِيقُ الصّدوقُ مَنْ نَصَحَكَ فِي عَيْبِكَ وَ حَفَظَكَ فِي عَيْبِكَ!  
 (۲) يَكْذِبُ الْإِنْسَانُ الضَّعِيفُ وَ يَصْدُقُ الْإِنْسَانُ الْقَوِيُّ!  
 (۳) أَمَّا هَؤُلاءِ فَيَتَعَلَّمُونَ وَ يُفَقِّهُونَ الْجَاهِلُ!  
 (۴) لَأَتَسَبَّوْا النَّاسَ فَتَكْتَسِبُوا الْعَدَاوَةَ بَيْنَهُمْ!

۹۶- عین ما لیس فیہ «نون الوقایة»:

- (۱) أحب أن تكون أسناني سالمةً عندما أصبح شيخًا!
- (۲) تمنعني أمي من استخدام الجوال إلا للضرورة!
- (۳) ربي العزيز أعني أن لا أكون معجبة بنفسي و متكبّرة!
- (۴) أختي الكبرى أخذتني إلى المُستوصف لمعالجة صداعي!

۹۷- عین «الباء» یختلف معناها:

- (۱) إنّا مسافرون فاسترحنا قليلاً بمنطقة مملوءة من الأشجار!
- (۲) إذا جرح القطّ يلحق الجرح بلسانه، و هذا العمل علاجه!
- (۳) اشترينا بيتًا جديدًا بشارع قرب مدرستنا!
- (۴) نام الطفلُ بغرفته بعد أن بكى كثيرًا!

۹۸- عین «على» لاتدلّ على معنى الفعل:

- (۱) عليكم بإنفاق العلم فإنّ هذا العمل يزيدو و لن ينقص منه شيء!
- (۲) فحوصكم الطيب و وصف أدوية لشفاؤكم، يجب عليكم تناولها صحيحًا!
- (۳) لكلّ داءٍ دواءٌ فأيتها المرضى عليكم أن تجدوا الدواء المناسب لمرضكم الصّعب!
- (۴) أيّ خلل في نظام الطبيعة يُؤدّي إلى موت الموجودات فيها، فعليكم بتحقيق التوازن فيها!

۹۹- عین ما لا نرجو وقوعه:

- (۱) يُحبّ أبوك أنّك تُصبح أنت رجلاً صادقاً في المستقبل!
- (۲) لعلّ عزمك الراسخ سهّل لك الوصول إلى الغاية الأصلية!
- (۳) بعض الطلاب بعد الامتحان يقولون: ليتنا كُنّا نسعى أكثر!
- (۴) يُريد كلّ شخص في الدنيا الراحة و لكنّها لا تتحقّق إلا بالصّعوبة!

۱۰۰- عین المنادى یختلف عن الباقي:

- (۱) حاول في طريقك الصّعب و دراستك المفيدة جيّدًا يا ولد!
- (۲) إلهي! أعلم أنّك غفورٌ لجميع المخلوقات و الكائنات!
- (۳) اعتمدوا على أنفسكم يا شباب وطني المعرّزين!
- (۴) ربّ! أنت الذي تَسترّ عنّا كلّ ما هو قبيح و سيّئ!

- ۱۰۱- کدام موارد، از تعالیم بودا است؟  
 الف: تنها راه رسیدن به نیروانا، غلبه کردن بر آرزو است.  
 ب: صداقت‌ورزی در پندار یکی از راه‌های غلبه بر درد و رنج است.  
 ج: رسیدن به نیروانا به معنای پایان رنج و درد بی‌انتهای زندگی است.  
 د: هدف نهایی تعالیم بودا، صداقت‌ورزی در حیطه‌های هشت‌گانه است.  
 (۱) «الف» و «ج» (۲) «الف» و «د» (۳) «ب» و «ج» (۴) «ب» و «د»
- ۱۰۲- کدام موارد درباره آسورستان در دوره باستان، درست است؟  
 الف: منطقه‌ای کم‌بارش اما دارای رودخانه‌های پرآب و تأسیسات آبیاری (سدها و بندها) بود.  
 ب: فاقد سابقه شهرنشینی بود و زندگی روستایی و اقتصاد کشاورزی ویژگی عمده آن به شمار می‌آمد.  
 ج: در هزاره دوم قبل از میلاد، در آنجا برده‌داری رواج داشت و قوانینی درباره کشتیرانی و زراعت وضع شده بود.  
 د: تنوع اجتماعی و فرهنگی و فقدان منابع طبیعی و معدنی، مانع تشکیل حکومت‌های مقتدر در آنجا شده بود.  
 (۱) «الف» و «ج» (۲) «ب» و «د» (۳) «الف» و «ب» (۴) «ج» و «د»
- ۱۰۳- در کدام مورد «وجه مشترک» شورش‌های ایرانی پس از سقوط دو سلسله هخامنشی و ساسانی، درست بیان شده است؟  
 (۱) بیشتر در مناطق شرقی فلات ایران به‌ویژه خراسان و سیستان شکل گرفتند.  
 (۲) علی‌رغم شکست، زمینه ایجاد تغییرات سیاسی را فراهم کردند.  
 (۳) میان آنها نوعی وحدت و هماهنگی وجود داشت.  
 (۴) میان آنها ارتباط و هماهنگی وجود نداشت.
- ۱۰۴- با توجه به عقاید و باورهای مزدک، در صورت پیروزی جنبش وی، وقوع کدام‌یک از حالات زیر ممکن بود؟  
 الف: قدرت سیاسی و اداره امور کشور از شاه و دربار سلب و به طبقات پایین جامعه داده می‌شد.  
 ب: نظام غالب زمینداری تغییر می‌کرد و اراضی متعلق به طبقات بالا بین مردم تقسیم می‌شد.  
 ج: مردم طبقات پایین، مؤسسات و مراکز فرهنگی و آموزشی را در اختیار گرفته از آنها بهره‌مند می‌شدند.  
 د: مردم با تصاحب دارایی طبقات بالا و تقسیم آن، در زندگی از امکانات یکسان برخوردار می‌شدند.  
 (۱) «ج» - «د» (۲) «الف» - «ج» (۳) «ب» - «د» (۴) «الف» - «ب»
- ۱۰۵- سه گزاره زیر درباره یک مورخ سنتی، به کدام وجه از تاریخ‌نگاری و روش پژوهش در تاریخ، اشاره دارند؟  
 الف: کتاب وی شرح لشکرکشی‌ها و اقدامات نظامی پادشاه است.  
 ب: وی در اغلب رویدادها حضور داشته و پادشاه را همراهی می‌کرده است.  
 ج: گزارش‌های او با زبانی دشوار و متکلف ثبت شده است.  
 (۱) «الف» و «ج»: روش - «ب»: نقد روایت (خبر)  
 (۲) «الف» و «ب»: نقد راوی - «ج»: نقد روایت (خبر)  
 (۳) «الف»: نقد گزارش تاریخی - «ب»: نقد راوی - «ج»: بینش  
 (۴) «الف»: بینش - «ب»: سنجش اعتبار راوی - «ج»: روش
- ۱۰۶- کدام مورد درباره ساختار اجتماعی و اقتصادی مکه (۱)، یثرب (۲) و طائف (۳) در دوره جاهلی، درست است؟  
 الف: روابط اقتصادی گسترده  
 ب: اشتغال به کشاورزی  
 ج: زیست‌گروه‌ها و قبایل یهودی  
 د: نبود مرجع سیاسی قدرتمند  
 (۱) «د» از وجوه مشترک ۱، ۲ و ۳ و «ج» از نقاط مشترک ۲ و ۳ است.  
 (۲) «الف» از وجوه پیوند ۱ و ۳ و «ب» از وجوه اشتراک ۲ و ۳ است.  
 (۳) «ج» و «د» از ویژگی‌های ۲ و «الف» از اشتراکات ۱ و ۲ است.  
 (۴) «ج» از اشتراکات ۱ و ۳ و «ب» و «د» از ویژگی‌های ۲ است.



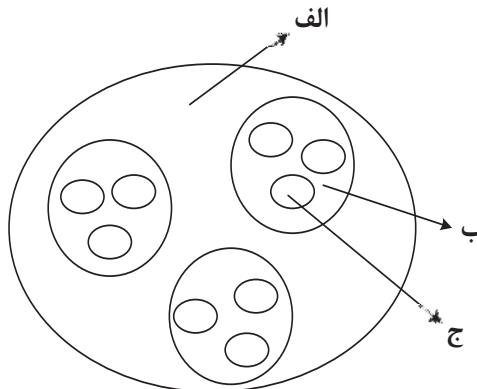
- ۱۰۷- کدام موارد درباره روم شرقی، درست است؟  
 الف: در دوره حکومت ساسانیان شکل گرفت و در دوره جانشینان شاهرخ تیموری سقوط کرد.  
 ب: کلیسای قسطنطنیه بر امور دینی قلمرو آن سلطه داشت و مردم حق داشتن عقاید مخالف با آن را نداشتند.  
 ج: در قرن هفتم میلادی یکی از شهرهای مسیحی نشین آن به نام ایلیا از سلطه امپراتوری خارج شد.  
 د: با از دست رفتن اسکندریه، نیروی دریایی امپراتوری ضعیف شد و شهر ایلیا از دست رفت.  
 (۱) «الف» - «ج» (۲) «ب» - «د» (۳) «ج» - «د» (۴) «الف» - «ب»
- ۱۰۸- در کدام موارد، اوضاع اجتماعی و اقتصادی ایران در سده‌های ۵ و ۶ هجری قمری درست توصیف شده است؟  
 الف: مناسبات شهری توسعه یافت و دهقانان موقعیت اقتصادی خود را از دست دادند.  
 ب: طبقه جدید بازرگانان شهری شکل گرفت و صرافان نقش مهمی در توسعه تجارت خارجی ایفا کردند.  
 ج: وجود نظام دیوانی کارآمد، بر رشد تجارت اثر نهاد و رشد تجارت به گسترش ربح‌ها منجر شد.  
 د: رشد شهرنشینی، به رونق تجارت، شکل‌گیری طبقه بازرگانان شهری و توسعه زبان فارسی منجر شد.  
 (۱) «الف» - «ب» (۲) «ب» - «د» (۳) «الف» - «ج» (۴) «ج» - «د»
- ۱۰۹- کدام مورد درباره انواع زمین‌های دوره صفوی درست است؟  
 الف: عواید اراضی خاصه برای کاهش توان ایلات قزلباش مورد استفاده قرار گرفت.  
 ب: بخشی از درآمد اراضی خاصه و خصوصی در خدمت رونق هنر و معماری قرار می‌گرفت.  
 ج: اراضی ممالک و خصوصی قابلیت تبدیل شدن به اراضی وقفی را داشتند.  
 د: عباس اول با استفاده از درآمد اراضی خاصه و دیوانی، حقوق سپاه جدید را تأمین می‌کرد.  
 (۱) «ج» - «د» (۲) «الف» و «ب» (۳) «الف» - «د» (۴) «ب» - «ج»
- ۱۱۰- کدام موارد از رویدادها و تحولات انگلستان در قرن ۱۳ میلادی است؟  
 الف: همراهی با پاپ بر سر انتصاب اسقف‌ها  
 ب: به‌وجود آمدن مجلس (پارلمان)  
 ج: تشکیل ارتش منظم دائمی و تقویت حکومت مرکزی  
 د: اختلاف با پاپ بر سر اعطای حلقه و عصای اسقفی  
 (۱) «ج» و «د» (۲) «الف» و «ب» (۳) «ب» و «د» (۴) «ب» و «ج»
- ۱۱۱- در کدام رویدادها، علما و مراجع نجف نقش داشتند و از مبارزات مردمی علیه استبداد حمایت کردند؟  
 الف: مقاومت مردم و مجلس شورای ملی در برابر قرارداد ۱۹۰۷  
 ب: مهاجرت مردم و روحانیون معترض به شهر ری (مهاجرت صغری)  
 ج: مقاومت مردم تبریز در دوره استبداد صغیر  
 د: مخالفت مردمی با بنای بانک استقراضی روس در یک قبرستان متروک  
 (۱) «ج» - «د» (۲) «الف» - «ب» (۳) «ب» - «ج» (۴) «الف» - «د»
- ۱۱۲- کدام موارد درباره روشنفکران دوره رضاشاه، درست است؟  
 الف: راه ترقی را در حذف سنن ایرانی می‌دانستند.  
 ب: شاه را به تقلید از برنامه‌های آتاتورک تشویق کردند.  
 ج: خواستار اجرای تغییراتی بودند که در نهایت سبب تثبیت موقعیت شاه می‌شد.  
 د: از شاه خواستند از دخالت روحانیون در مسائل اجتماعی جلوگیری کند.  
 (۱) «ب» و «د» (۲) «الف» و «ج» (۳) «الف» و «ب» (۴) «ج» و «د»
- ۱۱۳- کدام مورد درباره موقعیت و اقدامات اولین رئیس‌جمهور ایران (۱۳۶۰ - ۱۳۵۹ ش)، درست است؟  
 (۱) طبق قانون اساسی، فرماندهی کل قوا را عهده‌دار بود و شورای انقلاب را منحل کرد.  
 (۲) امام خمینی(ره)، علاوه بر تنفیذ حکم ریاست جمهوری، ریاست شورای انقلاب را به وی واگذار کرد.  
 (۳) نیروهای سپاه پاسداران و ارتش را در تنگنای مالی و تسلیحاتی قرار داد و از خط امام فاصله گرفت.  
 (۴) از پذیرش نظر نمایندگان برای نخست‌وزیری محمد جواد باهنر امتناع کرد و به سازمان مجاهدین خلق نزدیک شد.

۱۱۴- با توجه به موارد زیر، کدام عبارت با مشخصات منطقه کوهستانی شمال و شمال غرب کشورمان مطابقت دارد؟

«الف: دماوند ب: سهپند ج: سبلان د: علم کوه ه: تخت سلیمان»

- ۱) موارد «ب» و «ه» در دو منطقه کوهستانی متفاوت قرار دارند و هر دو بر اثر فعالیت‌های آتشفشانی شکل گرفته‌اند.
- ۲) موارد «الف» و «ج» در دو منطقه کوهستانی متفاوت قرار دارند و هر دو بر اثر فعالیت‌های آتشفشانی شکل گرفته‌اند.
- ۳) در تشکیل موارد «ج» و «د» فعالیت‌های آتشفشانی نقش نداشته است و هر دو در یک منطقه کوهستانی قرار دارند.
- ۴) در تشکیل موارد «الف» و «ه» فعالیت‌های آتشفشانی نقش نداشته است و هر دو در یک منطقه کوهستانی قرار دارند.

۱۱۵- با توجه به شکل زیر، کدام مورد مطابق با تقسیمات کشوری فعلی در ایران، تدوین شده است؟



- ۱) اگر «الف» یک استان باشد «ب» و «ج» به ترتیب شهرستان و بخش خواهند بود و توسط فرماندار و بخشدار اداره می‌شوند.
  - ۲) اگر «الف» یک استان باشد «ب» تابع «ج» و «الف» تابع تشکیلات مرکزی یا پایتخت قرار می‌گیرد.
  - ۳) در صورتی که «ب» شهرستان باشد، بنابراین «الف» یک استان خواهد بود که تا قبل از انقلاب اسلامی، ۲۴ عدد بود.
  - ۴) در صورتی که «ب» شهرستان باشد، بنابراین «ج» یک بخش است و کوچک‌ترین واحد تقسیمات کشوری، محسوب می‌شود.
- ۱۱۶- با توجه به عبارات زیر در خصوص «پدیده شهرنشینی»، موارد ..... به طور مستقیم منجر به ..... جمعیت شهرنشین می‌شوند.

الف: پدیده مهاجرت معکوس به دلیل گرانی مسکن، آلودگی هوا یا آسیب‌های اجتماعی روی می‌دهد.  
 ب: ممکن است به دلیل مشکلات اشتغال، روستاها و شهرها به ترتیب مهاجر فرست و مهاجر پذیر شوند.  
 ج: با ورود کشورها به عصر نوسازی شیوه زندگی و فعالیت اقتصادی در روستاها تغییر پیدا کرد.

د: به دلیل افزایش رشد طبیعی جمعیت، برخی روستاها با موافقت وزارت کشور، شهر اعلام شده‌اند.

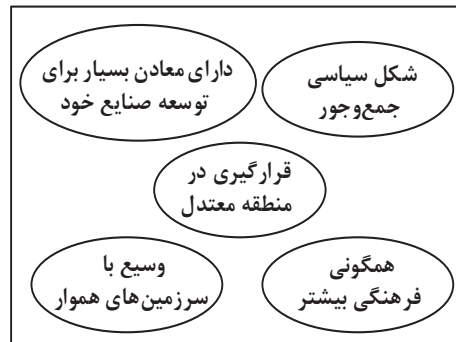
- ۱) «الف» و «د» همانند «ب» و «ج» - کاهش
- ۲) «ب» و «ج» برخلاف «الف» و «د» - کاهش
- ۳) «الف» و «ج» همانند «ب» و «د» - افزایش
- ۴) «ب» و «د» برخلاف «الف» و «ج» - افزایش

۱۱۷- به طور معمول امکان تبدیلی کشورهای که در منطقه معتدل واقع شده‌اند، به قدرت‌های سیاسی منطقه‌ای یا جهانی بیشتر است. در این مناطق .....

- ۱) منطقه پرفشار و جبهه قطبی تشکیل می‌شود و به دلیل عرض جغرافیایی این نواحی، انرژی دریافتی روزانه، کمتر از مناطق استوایی است
- ۲) جبهه قطبی و منطقه کم‌فشار تشکیل می‌شود و به دلیل عرض جغرافیایی این نواحی، انرژی دریافتی روزانه، بیشتر از مناطق قطبی است
- ۳) هرچه ارتفاع افزایش یابد، بلندی و درجه رشد گیاهان نیز بیشتر خواهد شد، همچنین یک منطقه کم‌فشار در این مناطق تشکیل می‌شود
- ۴) هرچه ارتفاع افزایش یابد، بلندی و درجه رشد گیاهان نیز کمتر خواهد شد، همچنین یک منطقه پرفشار در این مناطق تشکیل می‌شود

- ۱۱۸- با توجه به مراحل مختلف فرسایش، در کلوته‌ها و دشتهای ریگی، به ترتیب کدام پدیده اتفاق می‌افتد؟
- ۱) مواد نرم‌تر و سخت‌تر در همان مکان باقی می‌ماند و مواد ریزتر و درشت‌تر در مکان دیگر انباشته می‌شوند.
  - ۲) مواد ریزتر و نرم‌تر به مکان دیگر انتقال می‌یابد و مواد درشت‌تر و سخت‌تر در همان مکان باقی می‌مانند.
  - ۳) مواد نرم‌تر و ریزتر به مکان دیگر انتقال می‌یابد و مواد سخت‌تر و درشت‌تر در همان مکان باقی می‌مانند.
  - ۴) مواد ریزتر و درشت‌تر در همان مکان باقی می‌ماند و مواد نرم‌تر و سخت‌تر در مکان دیگر انباشته می‌شود.
- ۱۱۹- کدام مورد، ارتباط سؤالات کلیدی در جغرافیا را با متن زیر، به ترتیب از «الف» تا «د»، به درستی مطرح کرده است؟
- «از جمله مشکلات کشورهای پیرامون، این است که کشورهای مرکز گاهی با روش‌های مختلف، افراد با استعداد و متخصص یا به اصطلاح مغزهای متفکر را از کشورهای پیرامون به خود جذب می‌کنند.»
- الف: «کجا»، این پدیده در کدام مکان اتفاق افتاده است؟
- ب: «چه چیز»، چه چیزی اتفاق افتاده است؟
- ج: «چرا»، علت وقوع این پدیده چیست؟
- د: «چطور»، زمینه‌های به وجود آمدن این پدیده چیست؟
- ۱) کشورهای پیرامون - وابستگی به واردات کالاهای صنعتی - پرورش و پرداخت هزینه افراد متخصص - کمبود نیروی کار ماهر به دلیل جذب آنها توسط کشورهای مرکز
  - ۲) کشورهای پیرامون - عدم شرایط توسعه صنعتی - کمبود نیروی کار ماهر و متخصص - پرورش و پرداخت هزینه افراد متخصص و جذب آنها توسط کشورهای مرکز
  - ۳) کشورهای مرکز - تولیدکننده مواد اولیه - جذب نیروی کار متخصص - پرورش و پرداخت هزینه افراد متخصص و جذب آنها در کشورهای پیرامون
  - ۴) کشورهای مرکز - صادرکننده مواد خام - پرورش و پرداخت هزینه رشد و تحصیل افراد متخصص - جذب افراد بااستعداد و مغزهای متفکر
- ۱۲۰- براساس متن زیر، کدام عبارت درست است؟
- «در نتیجه فرایندی که تاکنون در اقتصاد جهانی طی شده است، کشورهای جهان از نظر تولید و صادرات به دو گروه «الف» و «ب» که به ترتیب کشورهای صادرکننده مواد اولیه و دارای فناوری پیشرفته هستند، طبقه‌بندی می‌شوند.»
- ۱) در کشورهای گروه «الف» موازنه تجاری منفی رایج‌تر است و از نظر نسبت اشتغال، فعالیت‌های نوع اول بر نوع دوم و چهارم غلبه دارد.
  - ۲) در کشورهای گروه «الف» موازنه تجاری مثبت رایج‌تر است و از نظر نسبت اشتغال، فعالیت‌های نوع دوم بر نوع اول و سوم غلبه دارد.
  - ۳) در کشورهای گروه «ب» موازنه تجاری منفی رایج‌تر است و از نظر نسبت اشتغال، فعالیت‌های نوع دوم بر نوع سوم و چهارم غلبه دارد.
  - ۴) در کشورهای گروه «ب» موازنه تجاری مثبت رایج‌تر است و از نظر نسبت اشتغال، فعالیت‌های نوع اول بر نوع دوم و چهارم غلبه دارد.

۱۲۱- با توجه به نقش عوامل جغرافیایی در قدرت ملی، کشورهایی که با مشخصات موارد ..... منطبق باشند، به ترتیب ..... شرایط را از نظر قدرت ملی دارند.



- (۲) «ب» و «د» - مناسب‌ترین و نامناسب‌ترین  
 (۴) «الف» و «ج» - نامناسب‌ترین و مناسب‌ترین

- (۱) «ب» و «ج» - نامناسب‌ترین و مناسب‌ترین  
 (۳) «الف» و «د» - مناسب‌ترین و نامناسب‌ترین

۱۲۲- با توجه به موارد زیر، کدام مورد درست است؟

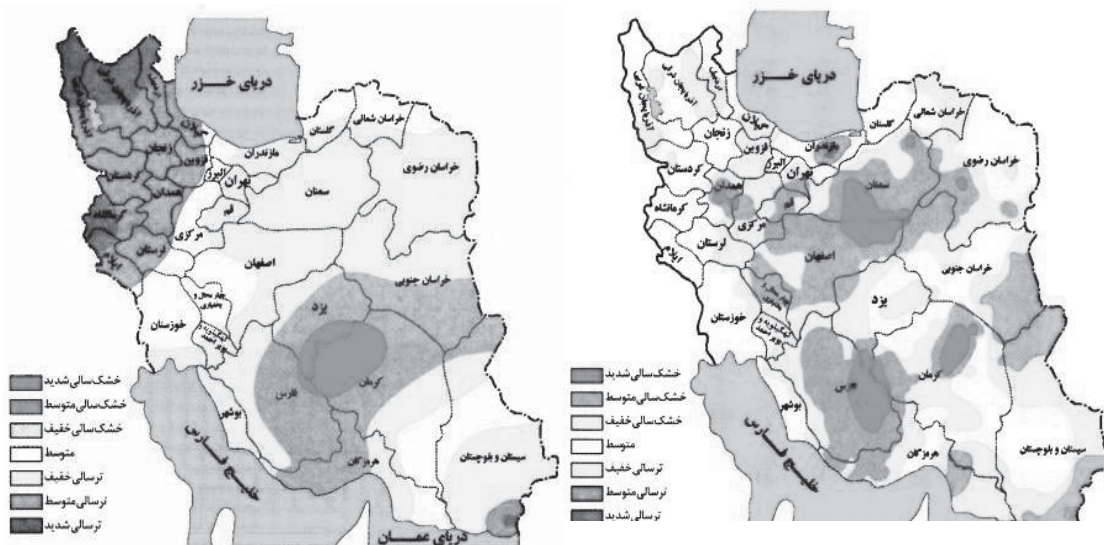
- الف: شهرگرایی روندی اقتصادی - اجتماعی است که طی آن ارزش‌ها و مظاهر شهری در بین روستانشینان رواج می‌یابد.  
 ب: نقش و عملکرد اقتصادی برخی از روستاها تغییر کرده و این روستاها نقش‌های گردشگری و صنعتی را برعهده گرفته‌اند.  
 (۱) «الف» مهم‌ترین ملاک تفاوت شهر و روستا و «ب» متداول‌ترین ملاک تشخیص شهر و روستا را با تغییراتی اساسی همراه کرده است.  
 (۲) «ب» متداول‌ترین ملاک تشخیص شهر و روستا و «الف» دسترسی به خدمات شهرها را با تغییراتی اساسی همراه کرده است.  
 (۳) «الف» وسعت و فضای سکونت در شهرها و «ب» متداول‌ترین ملاک تشخیص شهر و روستا را با تغییراتی اساسی همراه کرده است.  
 (۴) «ب» مهم‌ترین ملاک تفاوت شهر و روستا و «الف» فرهنگ و مناسبات روستاها را با تغییراتی اساسی همراه کرده است.

۱۲۳- کدام مورد، عبارت زیر را به‌درستی کامل می‌کند؟

«در روند تولید قطار در حمل‌ونقل ریلی، لوکوموتیوهای .....»

- (۱) بخاری که نخستین بار در اوایل قرن بیستم در انگلستان ساخته شدند، به‌تدریج جایگزین لوکوموتیوهای دیزلی شدند  
 (۲) دیزلی که بهترین نوع لوکوموتیوها از نظر سازگاری با محیط زیست هستند، به‌تدریج جایگزین لوکوموتیوهای بخاری شدند  
 (۳) بخاری که نخستین بار در اوایل قرن نوزدهم در انگلستان ساخته شدند، به‌تدریج جای خود را به لوکوموتیوهای دیزلی دادند  
 (۴) الکتریکی که بهترین نوع لوکوموتیوها از نظر سازگاری با محیط زیست هستند، به‌تدریج جای خود را به لوکوموتیوهای دیزلی دادند

۱۲۴- با بررسی و مقایسه نقشه‌های وقوع خشکسالی در کشور ما، کدام مورد به مفهوم درستی اشاره دارد؟



- ۱) مرزهای نواحی تحت‌تأثیر خشکسالی تغییر می‌کنند، بنابراین مرزهای سیاسی - اداری معمولاً با مرزهای طبیعی منطبق نیستند.
  - ۲) پهنه‌بندی خشکسالی‌ها در این سال‌ها، نشان می‌دهد برای مدیریت آن باید اقداماتی منطبق با یک استان انجام داد.
  - ۳) از آنجا که قلمرو و وسعت نواحی متفاوت است، می‌توان گفت خشکسالی‌ها فقط در محدوده یک استان فعالیت دارند.
  - ۴) نواحی تحت‌تأثیر خشکسالی‌ها در طی سال‌های مختلف، دارای کانون و مرزهای ثابتی است و بیشترین همگونی را دارد.
- ۱۲۵- با توجه به موارد زیر، کدام مورد درست است؟

- الف: توده هوای مرطوب غربی، رطوبت اقیانوس اطلس را در دوره سرد سال به داخل کشور ما می‌آورد.
- ب: بارش‌ها به‌طور کلی در سه دسته اصلی همرفتی، سیکلونی و ناهمواری تشکیل و طبقه‌بندی می‌شوند.
- ج: بارش‌هایی که شدت آنها کمتر اما مدت آنها بیشتر است، در وقوع لغزش مستعدتر از سیل هستند.
- د: توده هوای مرطوب ابتدا لازم است تا ارتفاع معینی بالا رفته و سرد شود تا به نقطه اشباع برسد.
- ۱) از نظر زمان شکل‌گیری پدیده‌ها، مورد «د» پیش از مورد «الف» و پس از مورد «ب» تشکیل می‌شود.
  - ۲) از نظر زمان شکل‌گیری پدیده‌ها، مورد «الف» پیش از مورد «ب» و پس از مورد «ج» تشکیل می‌شود.
  - ۳) برای تشکیل مورد «ج» لازم است، ابتدا مورد «ب» و سپس موارد «الف» و «د» وجود داشته باشند.
  - ۴) برای تشکیل موارد «ب» و «ج»، لازم است موارد «الف» و «د»، به‌طور کامل فراهم شده باشند.

۱۲۶- کدام عبارت درباره دانش منطق، مناسب تر است؟

- ۱) نوعی توجه به فرایند اندیشه، شناخت آن و آسیب‌های آن است.
  - ۲) قواعدی ذهنی است که ارسطو آنها را دسته‌بندی کرده و گسترش داد.
  - ۳) دانستن آنها برای انسان لازم است تا بتواند بیماری‌های ذهن خود را درمان کند.
  - ۴) آموختن آن باعث می‌شود که تعریف‌هایمان دقیق و استدلال‌هایمان پیچیده باشد.
- ۱۲۷- در کدام عبارت میان دو مورد از مفاهیم به کار رفته، نسبت عموم و خصوص مطلق برقرار است؟

- ۱) این سخن حکیمانه ارسطو که «برای مقابله با فلسفه هم باید فیلسوف بود»، نشان‌دهنده ماهیت تفکر فلسفی است.
- ۲) غزالی نوعی اعتراف‌نامه به نام رهایی از گمراهی دارد که نگاشتن مانند آن، در جهان اسلام مرسوم نبوده است.
- ۳) گزنفون از فیلسوفان پیشاسقراطی بود. وی می‌گفت: خدا همه‌جا حاضر است و با عقل جهان را اداره می‌کند.
- ۴) رازی می‌گفت انسان طب را از طبیعت آموخته است؛ از اینکه هر حیوانی برای تیمار خود تدابیری دارد.

۱۲۸- کدام عبارت یک قضیه محصوره است؟

- ۱) مؤمنان در کارهای خود خدا را در نظر بگیرند.
- ۲) دارندگان دفترچه بیمه، رایگان ویزیت می‌شوند.
- ۳) خانواده دوستم برخلاف خانواده ما، کم جمعیت است.
- ۴) صاحبان مشاغل آزاد، بیش از دارندگان مشاغل دولتی‌اند.

۱۲۹- مضمون کدام عبارت را براساس قانون صدق و کذب قضایا می‌توان پذیرفت؟

- ۱) اگر به نادرستی خبر «بعضی از معلمان ما در مسابقه دو، نفر اول شدند» پی ببریم، می‌فهمیم که بعضی از معلمان ما در مسابقه دو، نفر اول نشدند.
- ۲) اگر صدق قضیه «برخی ادعاهای مطرح‌شده در این مقاله درست نیست» را بدانیم، می‌فهمیم که هیچ‌یک از ادعاهای مطرح در آن مقاله مطابق واقع نیست.
- ۳) اگر بدانیم که «بعضی از فیلسوفان دارای تحصیلات دانشگاهی نبوده‌اند»، مطمئن می‌شویم که بعضی از دارندگان تحصیلات دانشگاهی، فیلسوف نبوده‌اند.
- ۴) اگر بدانیم که «برخی از دانش‌آموزان کلاس در کنکور زبان شرکت نکرده‌اند»، می‌فهمیم کسانی که در کنکور زبان شرکت کرده‌اند، از دانش‌آموزان کلاس نبوده‌اند.

۱۳۰- یکی از مقدمات و نتیجه قیاس معتبری به ترتیب، «بعضی ب الف است.» و «بعضی الف ج است.» می‌باشد، مقدمه دیگر این قیاس کدام است؟

- ۱) بعضی ج ب است.
- ۲) هر ج ب است.
- ۳) هر ب ج است.
- ۴) بعضی ب ج است.

۱۳۱- کدام عبارت بیان یک استدلال مغالطه‌آمیز است؟

- ۱) پدرم کم بیمار می‌شود؛ به نظرم هرکسی مثل او مراقب سلامت جسم و روح خود باشد، چندان بیمار نمی‌شود.
- ۲) از ضعیف بودن صدا معلوم است که از مرکز صدا دوریم، چون هرچه قدر فاصله از منبع صدا بیشتر باشد، صدا ضعیف‌تر است.
- ۳) این جمله اصلاً قضیه نیست، چون هر جمله‌ای که قضیه باشد، دارای نسبت است و در این جمله نسبت وجود ندارد.
- ۴) اگر حیوانات دارای عقل بودند، زندگی آنها یکنواخت نمی‌ماند؛ اما زندگی آنها تغییری نداشته، پس فاقد عقل‌اند.

۱۳۲- روش بررسی کدام گزاره با بقیه متفاوت است؟

- ۱) قوه نطق و قابلیت حیات، از نفس مجرد انسان ناشی می‌شود.
- ۲) فعل اخلاقی اگر در جهت سعادت حقیقی باشد، فضیلت است.
- ۳) اندیشه‌ها و تصمیم‌گیری‌های انسان، تابع شرایط اجتماعی او است.
- ۴) براساس مکتب رواقی، برای رسیدن به سعادت باید به فرمان خرد گوش فرا داد.

۱۳۳- کدام عبارت درست است؟

- ۱) آثار برخی از تمدن‌های قدیمی در اثر گذر زمان به کلی از بین رفته است؛ بدین ترتیب تأثیری در تاریخ فلسفه نداشته‌اند.
- ۲) آثار باقیمانده از تمدن‌های باستانی نشان می‌دهد که منشأ اولیه اندیشه‌های فلسفی، کهن‌ترین تمدن‌های شناخته‌شده بوده‌اند.
- ۳) محققان اروپایی کتاب‌های تاریخ فلسفه خود را با یونان آغاز کرده‌اند، اما گزارش دقیقی از جریان فلسفه در آن ارائه نکرده‌اند.
- ۴) نخستین فیلسوف یونانی تالس، علاوه بر افکار اسطوره‌ای، از زبان عقل هم در تبیین تغییرات جهان استفاده می‌کرد.

۱۳۴- سقراط در برابر اتهام «گمراه کردن جوانان» چگونه از خود دفاع کرد؟

- ۱) علت دنباله‌روی جوانان از خودش را برای دادگاه بیان کرد.
- ۲) ثابت کرد که از نظر او تربیت انسان از هر کار دیگری مهم‌تر است.
- ۳) نشان داد که ملتوس ادعایی را مطرح می‌کند که درباره آن اطلاعی ندارد.
- ۴) نشان داد که هیچ سعادت‌تی برای شهرش بالاتر از خدمتی که وی می‌کند، نیست.

۱۳۵- کدام عبارت، درست است؟

- ۱) اساس بررسی‌های علمی برای شناسایی جهان طبیعت، یافته‌هایی است که با شناخت عقلی به دست آمده است.
- ۲) تفاوت شناخت حسی با شناخت‌های دیگر این است که دچار خطا می‌شود و خطایش را هم خودش تشخیص می‌دهد.
- ۳) ابزاری که با آن اشیا را می‌شناسیم، تفاوت آنها را درک می‌کنیم و هریک را به منظوری استفاده می‌کنیم، حواس است.
- ۴) معرفت شهودی از طریق تهذیب نفس حاصل می‌شود، همان‌طور که شناخت حسی از طریق حواس به دست می‌آید.

۱۳۶- کدام عبارت، درست است؟

- ۱) تلاش‌های فلسفی کانت در بیان اعتبار عقل و تجربه، منشأ ظهور تجربه‌گرایان و اثبات‌گرایان شد.
- ۲) برخی از تجربه‌گرایان مانند فرانسیس بیکن، در معرفت فلسفی و تجربی نقشی برای عقل قائل نیستند.
- ۳) به اعتقاد کانت، انسان تصویرها را از طریق قوه ادراکی و بعدیت زمانی را توسط حواس خود درک می‌کند.
- ۴) پراگماتیست‌ها معتقدند یگانه ابزار شناخت انسان حواس است که به درستی قادر به درک واقعیت نیست.

۱۳۷- محتوای کدام عبارت با نظر کانت درباره معیار فعل اخلاقی، سازگاری بیشتری دارد؟

- ۱) دوستم در برخورد با دیگران، آن کاری را انجام می‌دهد که بداند با انجامش، مورد تحسین آن‌ها قرار می‌گیرد.
- ۲) گروهی از متفکران معتقدند حس نوع دوستی امری فطری است، بنابراین همه افراد انسان باید به هم کمک کنند.
- ۳) فرد عاقل در هر کاری از افراط و تفریط پرهیز می‌کند، همان‌طور که در خوردن و آشامیدن هم زیاده‌روی نمی‌کند.
- ۴) مادرم با اینکه همیشه دیرش می‌شود، خلاف وظیفه اخلاقی‌اش می‌داند که حق دیگران را زیر پا بگذارد و در صف می‌ایستد.

۱۳۸- حمل « $180^\circ$  بر زوایای داخلی مثلث» با کدام حمل مناسبت بیشتری دارد؟

- ۱) قابل صدق و کذب بر قضیه
- ۲) راست قامت بر انسان
- ۳) اندیشنده بر انسان
- ۴) دانش بر تصدیق

۱۳۹- فرض یک ترازوی سالم با دو کفه خالی و مساوی که ناگهان از حالت تعادل خارج شده و یک کفه پایین می‌رود، به کدام فرض شباهت دارد؟

(۱) علت ناقصه برای وجود معلول کافی بوده است.

(۲) علت تامه تحقق معلول، قبلاً موجود بوده است.

(۳) معلول خودبه‌خود و بدون علت هستی‌بخش تحقق یافته است.

(۴) معلول از حیث ذات ممکن‌الوجود بوده و اکنون تحقق یافته است.

۱۴۰- کدام نام یا توصیف برای خداوند، مستلزم فرض مخلوقات نیست؟

(۱) شریف‌ترین موجود (۲) ضرورتاً موجود (۳) محرک نامتحرک (۴) دمیورژ

۱۴۱- کدام عبارت درست است؟

(۱) تفاوت اساسی برهان فارابی و ابن‌سینا در اثبات وجود خدا، مقدمات به‌کار رفته در هر یک از این دو است.

(۲) برهان امکان‌فقری، با استفاده از مقدمات برهان وجوب و امکان و با بیان تازه‌ای توسط ملاصدرا مطرح شد.

(۳) فارابی دو برهان مهم دارد که در یکی محال بودن سلسله علل نامتناهی و در دیگری وجود خدا را اثبات می‌کند.

(۴) در صورتی که تعداد اشیای جهان را نامحدود بدانیم، برهان وجوب و امکان برای اثبات وجود خداوند قابل استفاده نیست.

۱۴۲- کدام عبارت درباره عقل، به معنای رایج نزد عموم مردم، درست است؟

(۱) هم به معنای یک حقیقت متعالی و هم به معنای خرد و اندیشه به‌کار می‌رود.

(۲) موجودی غیرمادی است که در افعال خود از مقدمات مادی بی‌نیاز است.

(۳) هم درباره هست‌ها و نیست‌ها و هم در بایدها و نبایدها بحث می‌کند.

(۴) ویژگی ذاتی انسان است که همه انسان‌ها هنگام تولد واجد آن هستند.

۱۴۳- با توجه به وقایع سده‌های ابتدایی در جهان اسلام، کدام عبارت درست است؟

(۱) همزمان با پیدایش اولین بحث‌های اعتقادی میان مسلمانان، فیلسوفانی ظهور کردند و حیات فلسفی شکل گرفت.

(۲) گسترش بحث‌های اعتقادی و فلسفی، زمینه‌ساز ظهور نوعی پویایی شد که می‌توان آن را حیات عقلی نامید.

(۳) در نهضت ترجمه، کتاب‌هایی در فلسفه و دیگر رشته‌ها، از چندین زبان به عربی و از عربی به زبان‌های دیگر ترجمه شد.

(۴) نهضت ترجمه به مباحث اعتقادی جنبه عقلی قوی‌تری بخشید و به ظهور نظریه‌پردازانی در زمینه علوم طبیعی نیز منجر شد.

۱۴۴- کدام عبارت با توجه به دستگاه فلسفی شیخ اشراق، قابل قبول است؟

(۱) حکیم متأله کسی است که در بحث عقلی و سلوک قلبی استاد بوده و ریاست جامعه به دست او باشد.

(۲) روح انسان تا زمانی که به رستگاری کامل نائل نشده است، در مرحله‌ای از مراحل مغرب وسطی جای دارد.

(۳) اساس حکمت اشراقی، شهود قلبی و تجربه درونی فیلسوف است که به کمک استدلال و عقل بیان می‌شود.

(۴) حکمت اشراقی را از آن‌رو اشراقی خوانده‌اند که ظهور دستاوردهای عقلی حکیمان اشراقی اهل فارس است.

۱۴۵- کدام عبارت درباره علامه طباطبائی، درست است؟

(۱) یکی از ویژگی‌های کتاب‌هایشان، نگاه تطبیقی به مسائل است که تا آن زمان در ایران سابقه نداشت.

(۲) جلسات تدریس‌شان که در قم آغاز شد، از ابتدا بسیار پررونق و از مهم‌ترین جریان‌های فکری آن زمان بود.

(۳) روش تفسیری خود را که روش قرآن به قرآن و در نوع خود بدیع است، از امام خمینی (ره) آموخته بودند.

(۴) دیدارهایشان با فیلسوفانی که برای تحقیق به ایران می‌آمدند، موجب آشنایی جهان با تفکر شیعی گردید.



۱۴۶- کدام مورد به ترتیب، مربوط به ویژگی‌های هریک از کسب‌وکارهای «تعمیرکاران، تعاونی کشاورزان پنبه، شرکت سهامی و مؤسسه حمایت از کودکان» است؟

- ۱) آزادی عمل - ایجاد زنجیره توزیع - مقیاس تولید بالا - مأموریتی غیرسودآور
  - ۲) کوچک مقیاس - مالکیت کامل سود - امکان افزایش سرمایه - تأمین نیازمندی‌های اعضا
  - ۳) بار سنگین مسئولیت - حق رأی بر مبنای مالکیت سرمایه - تأخیر در تصمیم‌گیری - مشکل تأمین مالی
  - ۴) تخصص‌گرایی - محدوده عمل ملی و بین‌المللی - قوانین پیچیده‌تر - تقسیم سود به تناسب مالکیت سرمایه
- ۱۴۷- در صورتی که درآمد کارگاهی در سال گذشته چهار برابر هزینه‌های تولید آن کارگاه و سود حاصل بیست و چهار میلیون تومان باشد، پاسخ پرسش‌های زیر، به ترتیب از راست به چپ، کدام است؟

الف: هزینه‌های تولید آن کارگاه، چند میلیون تومان بوده است؟

ب: میزان درآمد کارگاه در سال گذشته، چند میلیون تومان بوده است؟

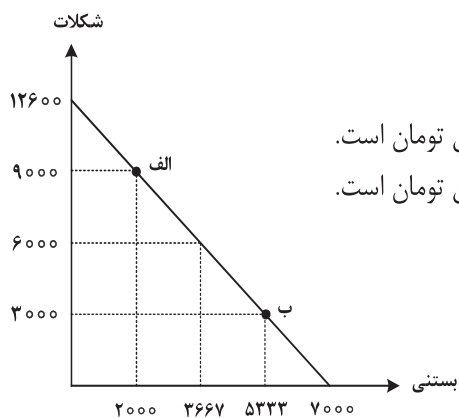
ج: مبلغ قابل محاسبه برای پرداخت مهم‌ترین نوع مالیات این واحد تولیدی، چند میلیون تومان بوده است؟

- ۱) ۲۴ - ۳۰ - ۶ (۲)      ۳۲ - ۲۴ - ۶ (۲)      ۲۴ - ۳۲ - ۸ (۳)      ۳۲ - ۳۲ - ۸ (۴)

۱۴۸- تولیدکننده‌ای به دلیل سفارش مشتریان، تولید خود را از نقطه «الف» به نقطه «ب» جابه‌جا نمود. در شرایط جدید، کدام مورد

هزینه فرصت را به درستی نشان می‌دهد؟ (قیمت هر واحد شکلات ۲۵۰۰ تومان و قیمت هر عدد بستنی ۴۵۰۰ تومان است).

- ۱) هزینه فرصت انتخاب جدید، برابر ۲۱ میلیون تومان است.
- ۲) هزینه فرصت انتخاب جدید، برابر ۱۵ میلیون تومان است.
- ۳) مابه‌التفاوت هزینه فرصت انتخاب قبل و انتخاب جدید ۱۷ میلیون تومان است.
- ۴) مابه‌التفاوت هزینه فرصت انتخاب قبل و انتخاب جدید ۱۲ میلیون تومان است.



محل انجام محاسبات

۱۴۹- با توجه به جدول زیر، با فرض اینکه هر سه کشور از نظر عوامل تولید یکسان هستند، پاسخ پرسش‌های زیر، به ترتیب از «الف» تا «ج»، کدام است؟

الف: کدام کشور در تولید کالای «ب» مزیت مطلق دارد؟

ب: اگر هزینه فرصت تولید کالای «الف» در کشور کنیا ۴۵۰ واحد، کالای «ب» ۵۴۰ واحد و کالای «ج» ۳۹۹

واحد باشد، این کشور در تولید چه کالایی مزیت نسبی دارد؟

ج: کدام مورد، در رابطه با کشور آلمان درست است؟

محصول کشور	«الف» (واحد)	«ب» (واحد)	«ج» (واحد)
ترکیه	۷۹۰	۱۵۴۰	۱۲۳۵
آلمان	۹۷۰	۸۵۰	۷۰۷
کنیا	۵۸۰	۳۹۸	۶۹۰

- ۱) آلمان - «ج» - در تولید کالای «الف» و «ب» از مزیت مطلق برخوردار است و باید کالای «ج» را از ترکیه وارد کند.
- ۲) ترکیه - «ج» - با اینکه در تولید کالای «الف» مزیت مطلق دارد، اما بهتر است کالای «ج» را از ترکیه وارد کند.
- ۳) آلمان - «ب» - در تولید کالای «الف» و «ب» از مزیت مطلق برخوردار است و باید کالای «ج» را از ترکیه وارد کند.
- ۴) ترکیه - «ب» - با اینکه در تولید کالای «الف» مزیت مطلق دارد، اما بهتر است کالای «ج» را از کنیا وارد کند.

۱۵۰- هر کدام از موارد زیر به ترتیب، به کدام نوع مالیات اشاره دارد؟

- معمولاً برای حمایت از صنایع داخلی به کار گرفته می‌شوند.

- مهم‌ترین نوع مالیات است.

- آنچه از مالیات‌ستانی مضاعف جلوگیری می‌کند.

۱) مالیات بر مصرف - ثروت مؤدی - ارث

۲) عوارض گمرکی و خدماتی - مالیات بر دارایی - مالیات بر ارث

۳) عوارض گمرکی و خدماتی - مالیات بر درآمد اشخاص - مصرف

۴) تعرفه‌های گمرکی - مالیات بر درآمد اشخاص - ارزش افزوده

۱۵۱- کدام مورد، تفسیر اقتصاددانان نسبت به دو گزاره زیر است؟

- با آنکه درآمد مصرف‌کنندگان تغییر نکرده است، با افزایش قیمت، تقاضا برای آن افزایش می‌یابد.

- با آنکه قیمت نان ثابت است ولی با افزایش درآمد، نان کمتری می‌خرند.

۱) قانون تقاضا برای کلیه کالاها یکسان است به شرط اینکه فقط قیمت یک کالا تغییر کند و سایر عوامل ثابت باشد.

۲) پیش‌بینی قیمت آینده و تغییر سلیقه مصرف‌کننده برای کالاهای مکمل و جانشین اثر یکسانی دارد.

۳) پیش‌بینی قیمت کالا در آینده و ویژگی کالای پست، دو رفتار مغایر با قانون تقاضا را توجیه می‌کند.

۴) افزایش درآمد مصرف‌کننده، رفتار مغایر با قانون تقاضا را توضیح می‌دهد.

محل انجام محاسبات

۱۵۲- دولت‌ها با چه هدفی، تعرفه‌های واردات را افزایش می‌دهند؟

- (۱) گسترش روابط اقتصادی با کشورهایی که دیدگاه سیاسی نزدیک به هم دارند.
- (۲) حمایت از صنایع داخلی و کاهش وابستگی اقتصادی به کشورهای دیگر
- (۳) کاهش تنش و اختلاف سیاسی و اقتصادی بین کشورها
- (۴) تنظیم بازار از طریق افزایش واردات

۱۵۳- گاهی اقتصاددانان برای محاسبه دهک‌های درآمدی، به جای به دست آوردن اختلاف درآمدی، کدام مورد را محاسبه می‌کنند؟

- (۱) اختلاف هزینه‌ای
  - (۲) خط فقر
  - (۳) یکی از معیارهای توسعه انسانی
  - (۴) مجموع «هزینه و پس‌انداز» خانوارها
- ۱۵۴- جمعیت کشوری در سال ۹۹، ۷۸,۶۰۰,۰۰۰ نفر بود. این کشور از ۵۵,۲۰۰,۰۰۰ نفر جمعیت بالاتر از پانزده سال، ۲۷,۴۰۰,۰۰۰ نفر شاغل و ۴,۹۵۰,۰۰۰ نفر بیکار برخوردار بود. پاسخ موارد خواسته شده، به ترتیب (از راست به چپ)، کدام است؟

الف: جمعیت پایین‌تر از پانزده سال

ب: جمعیت غیرفعال

ج: نرخ بیکاری

- (۱) ۳۲,۳۵۰,۰۰۰ - ۲۲,۴۰۰,۰۰۰ - ۱۳/۵
- (۲) ۳۲,۳۵۰,۰۰۰ - ۲۲,۸۵۰,۰۰۰ - ۱۳/۵
- (۳) ۲۳,۴۰۰,۰۰۰ - ۳۲,۳۵۰,۰۰۰ - ۱۵/۳
- (۴) ۲۳,۴۰۰,۰۰۰ - ۲۲,۸۵۰,۰۰۰ - ۱۵/۳

۱۵۵- کدام یک از ویژگی‌های پول، برای «بیت کوین» باید اتفاق بیافتد تا به‌عنوان پول رایج شناخته شود؟

(۱) به راحتی در دسترس همه افراد جامعه باشد.

(۲) دارای ویژگی سنجش ارزش کالاها و خدمات باشد.

(۳) مانند پول تحریری، خصوصیت اعتباری آن مورد قبول همه باشد.

(۴) مانند پول کاغذی دارای پشتوانه نزد بانک مرکزی باشد.

۱۵۶- جدول مقابل، شاخص قیمت‌ها را در سه کشور «الف»، «ب» و «ج» نشان می‌دهد. اگر درصد تغییر (cpi) برای هر

سه کشور یکسان باشد، پاسخ پرسش‌های زیر، به ترتیب (از راست به چپ)، کدام است؟

الف: شاخص قیمت‌های ابتدایی سال، در کشور «ج» کدام است؟

ب: شاخص قیمت‌های انتهای سال، در کشور «الف» چقدر است؟

(۱) ۳۱۲,۹۶۵/۵ - ۸۹,۰۸۸

(۲) ۳۱۲,۵۰۰ - ۸۹,۸۵۸

(۳) ۳۱۲,۹۶۵/۵ - ۹۰,۲۵۴

(۴) ۳۱۲,۵۰۰ - ۹۲,۰۰۰

کشور	شاخص قیمت- ها انتهای سال	شاخص قیمت- ها ابتدای سال
«الف»	؟	۷۶,۸۰۰
«ب»	۶۶۱,۲۰۰	۵۷۰,۰۰۰
«ج»	۳۶۳,۰۴۰	؟

محل انجام محاسبات

۱۵۷- فرض کنید تورم امسال ۳۲٪ بوده و هزینه تولید نیز به همین میزان افزایش یابد. در صورتی که تقاضا هیچ تغییری نکند و تولیدکنندگان بخواهند بدون تحمل زیان به فعالیت خود برای سال آینده ادامه دهند، کدام مورد درباره سود، درست است؟

- (۱) نرخ سود کاهش می‌یابد.  
 (۲) نرخ سود افزایش می‌یابد.  
 (۳) میزان رقم سود تغییر نمی‌کند.  
 (۴) نرخ سود تغییر نمی‌کند.

۱۵۸- هر یک از عبارات‌های زیر، به ترتیب مربوط به کدام قسمت در جدول است؟

- به‌ازای مدت زمان سپرده‌گذاری، به مشتری امتیاز دریافت وام تعلق می‌گیرد.

- نرخ سود این سپرده، تا پایان قرارداد تغییر نمی‌کند.

- نرخ سود این سپرده، می‌تواند همزمان با افزایش نرخ سود عمومی بانک‌ها افزایش یابد.

- معمولاً مقدار حداقلی باید در این حساب‌ها باشد، تا مشمول بستن قرارداد و دریافت سود گردد.

مزیای حساب‌های	معايب حساب‌های	
سپرده سرمایه‌گذاری	سپرده سرمایه‌گذاری	
«الف»	«د»	کوتاه‌مدت
«ه»	«ب»	بلندمدت
«ج»	«و»	قرض الحسنه

(۱) «و» - «ج» - «د» - «الف»

(۲) «و» - «ب» - «د» - «ه»

(۳) «د» - «ب» - «و» - «ج»

(۴) «د» - «ج» - «و» - «الف»

۱۵۹- فردی تعداد ۲۵۰۰ برگه سهام شرکتی را خریداری کرد. بعد از شش‌ماه کل سهام را به مبلغ ۱۶۰ میلیون فروخت و به میزان ۴۰ میلیون سود کرد. پاسخ پرسش‌های زیر، به ترتیب (از راست به چپ)، کدام است؟ (قیمت به تومان می‌باشد).

الف: مبلغ سرمایه‌گذاری، چند میلیون تومان بوده است؟

ب: قیمت اسمی هر برگه سهام، کدام است؟

ج: قیمت بازاری هر برگه سهام، چقدر است؟

(۲) ۱۴۰ - ۶۴,۰۰۰ - ۴۸,۰۰۰

(۱) ۱۴۰ - ۴۸,۰۰۰ - ۶۴,۰۰۰

(۴) ۱۲۰ - ۳۵,۰۰۰ - ۴۶,۰۰۰

(۳) ۱۲۰ - ۴۸,۰۰۰ - ۶۴,۰۰۰

۱۶۰- برای خرید لباس، معیارهای «عملکرد، هویت، نیاز، کیفیت و زیبایی» را در نظر بگیرید. کدام یک از معیارها برای

هر یک از افراد زیر، ضروری است؟

«کارمند بخش بازرگانی، راهنمای تور گردشگری، پزشک و پرستار بیمارستان، لباس راحتی در منزل»

(۲) نیاز - کیفیت - زیبایی - عملکرد

(۱) زیبایی - هویت - عملکرد - نیاز

(۴) کیفیت - عملکرد - هویت - زیبایی

(۳) عملکرد - زیبایی - کیفیت - هویت

محل انجام محاسبات

