



RIAZISARA

سایت ویژه ریاضیات www.riazisara.ir

درسنامه ها و جزوه های ریاضی
سوالات و پاسخنامه تشریحی کنکور
نمونه سوالات امتحانات ریاضی
نرم افزارهای ریاضیات

و...

ریاضی سرا در تلگرام: (@riazisara)



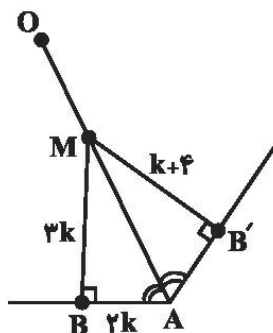
<https://t.me/riazisara>

ریاضی سرا در اینستاگرام: (@riazisara.ir)



<https://www.instagram.com/riazisara.ir>

۷۱- در شکل مقابل، پاره خط OA ، نیمساز زاویه A می باشد. اندازه پاره خط AM کدام است؟



(۱) $\sqrt{13}$

(۲) $2\sqrt{13}$

(۳) $\sqrt{17}$

(۴) $2\sqrt{17}$

۷۲- اگر $\frac{2a}{3} = \frac{b+a}{2} = \frac{c}{5}$ باشد، آنگاه $\frac{a+c}{b}$ کدام است؟

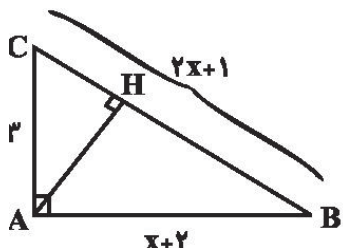
(۴) ۳

(۳) ۱۲

(۲) ۱۳

(۱) ۱۵

۷۳- با توجه به شکل زیر، اندازه $AH + BC$ کدام است؟



(۱) $6/4$

(۲) $7/4$

(۳) $8/2$

(۴) $9/2$

۷۴- چه تعداد از جملات زیر، نادرست است؟

الف- مرکز دایره محاطی مثلث، محل تلاقی نیمسازهای زوایای داخلی مثلث است.

ب- از نقطه‌ای خارج یک خط، می توان دو خط بر آن خط عمود کرد.

پ- مساحت هر مثلثی از مساحت هر مستطیل بیشتر است.

ت- هر چهارضلعی که قطرهایش منصف یکدیگر باشند، متوازی الاضلاع است.

(۴) ۳

(۳) ۲

(۲) ۱

(۱) صفر

۷۵- مربع $ABCD$ به ضلع ۴ را در نظر بگیرید. نقاطی را درون این مربع مشخص می کنیم که فاصله آنها از رأس A بیشتر از ۱ و به نقطه B نزدیکتر از

نقطه C باشند. مساحت ناحیه موردنظر تقریباً کدام است؟ ($\pi = 3$)

(۴) $14/4$

(۳) $15/25$

(۲) $6/4$

(۱) $7/25$

۷۶- کدام قضیه زیر، دو شرطی نیست؟

(۱) در مثلث قائم‌الزاویه ABC ، $(\hat{A} = 90^\circ)$ ، رابطه $a^2 = b^2 + c^2$ برقرار است.

(۲) اگر دو ضلع از یک مثلث برابر باشند، ارتفاع‌های نظیر آن‌ها نیز با هم برابرند.

(۳) اگر n عددی زوج باشد، n^2 نیز عددی زوج است. ($n \in \mathbb{N}$)

(۴) اگر یک چهارضلعی لوزی باشد، قطرهای آن منصف یکدیگرند.

۷۷- در مثلث ABC ، عمودمنصف ضلع BC ، ضلع AC را در نقطه D قطع می‌کند. اگر $DC = AB$ و $\hat{C} = 35^\circ$ باشد، زاویه داخلی A چند درجه است؟

(۴) 85°

(۳) 55°

(۲) 65°

(۱) 70°

۷۸- کدامیک از گزینه‌های زیر، مثال نقض ندارد؟

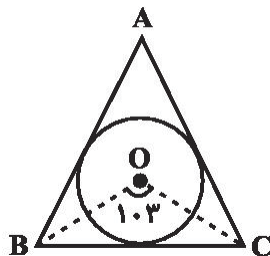
(۱) در هر مثلث، اندازه هر زاویه خارجی از اندازه هر زاویه داخلی بزرگ‌تر است.

(۲) مجموع هر دو عدد اول دلخواه همواره یک عدد مرکب است.

(۳) اگر دو ضلع از یک مثلث با هم برابر باشند، آنگاه نیم‌سازهای وارد بر آن دو ضلع نیز با هم برابرند.

(۴) در هر مثلث اندازه هر ضلع از اندازه هر ارتفاع بزرگ‌تر است.

۷۹- در شکل روبه‌رو هر سه ضلع مثلث بر دایره به مرکز O مماس‌اند. اگر $\hat{BOC} = 103^\circ$ باشد، آنگاه \hat{A} چند درجه است؟



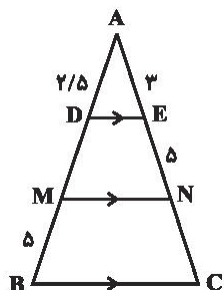
(۱) 103°

(۲) 77°

(۳) 26°

(۴) 56°

۸۰- در شکل زیر طول پاره خط NC کدام است؟



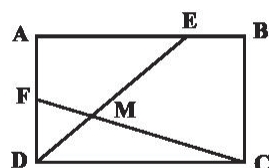
(۱) ۵

(۲) ۶

(۳) ۸

(۴) ۱۰

۸۱- در مستطیل $ABCD$ شکل مقابل، $\frac{DM}{EM} = \frac{1}{2}$ و $\frac{BE}{AE} = \frac{2}{3}$ می‌باشد، حاصل $\frac{FM}{CM}$ کدام است؟



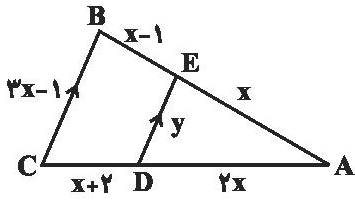
(۲) $\frac{1}{5}$

(۴) $\frac{3}{4}$

(۱) $\frac{3}{5}$

(۳) $\frac{1}{4}$

۸۲- در شکل مقابل، اگر $DE \parallel BC$ باشد، حاصل $x + y$ کدام است؟



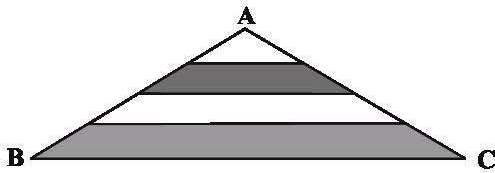
(۲) $\frac{44}{y}$

(۱) $\frac{18}{y}$

(۴) $\frac{62}{y}$

(۳) $\frac{72}{y}$

۸۳- در شکل روبه‌رو، اضلاع AB و AC به ۴ قسمت مساوی تقسیم شده‌اند. نسبت مساحت دو قسمت رنگی کدام است؟



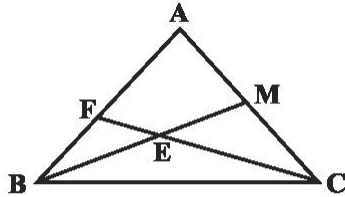
(۲) $\frac{y}{3}$

(۱) $\frac{y}{2}$

(۴) $\frac{9}{2}$

(۳) $\frac{8}{3}$

۸۴- در شکل روبه‌رو BM میانه و $BE = EM$ است. اگر $BF = 5$ باشد، کدام AB است؟



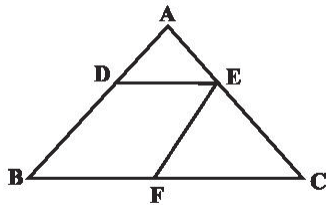
(۱) ۱۰

(۲) ۱۲

(۳) ۱۵

(۴) ۲۰

۸۵- در شکل مقابل چهارضلعی $BDEF$ لوزی است. اگر $AD = 3$ و $BC = 18$ باشد، اندازه ضلع لوزی کدام است؟



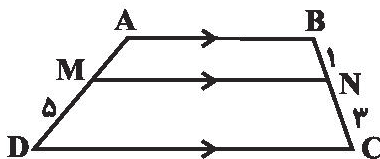
(۱) $2\sqrt{6}$

(۲) ۶

(۳) $3\sqrt{6}$

(۴) ۹

۸۶- در ذوزنقه $ABCD$ شکل روبه‌رو، اندازه ضلع AD کدام است؟



(۲) ۶

(۱) $\frac{13}{3}$

(۴) ۷

(۳) $\frac{20}{3}$

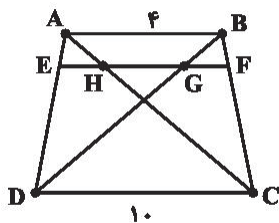
۸۷- نقطه O در مثلث قائم‌الزاویه ABC به نحوی قرار دارد که $OA = OB = OC = 3$ است. اگر مساحت این مثلث ۹ باشد، اندازه محیط مثلث ABC چند است؟

۸ (۴)

$3(\sqrt{2} + 2)$ (۳)

۱۴ (۲)

$6(\sqrt{2} + 1)$ (۱)



۸۸- در ذوزنقه زیر، $EF \parallel AB$ و $\frac{BF}{FC} = \frac{1}{4}$ می‌باشد. در این صورت حاصل $\frac{GH}{EH}$ کدام است؟

۰/۷ (۱)

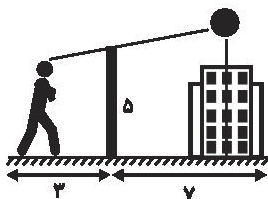
۰/۴ (۲)

۰/۵ (۳)

۰/۶ (۴)

۸۹- فردی با قد $\frac{1}{7}$ متر طبق شکل داده شده، دقیقاً در بالای تیر برق ۵ متری که روبه‌روی آن قرار دارد، کبوتری را در بالای یک ساختمان می‌بیند. اگر این

کبوتر $\frac{1}{5}$ متر بالاتر از ساختمان قرار داشته باشد، ارتفاع ساختمان کدام است؟



$\frac{11}{2}$ (۱)

$\frac{10}{5}$ (۲)

$\frac{10}{8}$ (۳)

$\frac{9}{7}$ (۴)

۹۰- در ذوزنقه‌ای اندازه قاعده‌ها ۷ و ۱ و طول ساق‌ها ۵ و ۳ است. محیط مثلثی که از امتداد ساق‌ها در بیرون ذوزنقه تشکیل می‌شود، کدام است؟

$\frac{13}{5}$ (۴)

$\frac{12}{5}$ (۳)

$\frac{8}{3}$ (۲)

$\frac{7}{3}$ (۱)

۷۱- گزینه «۲»

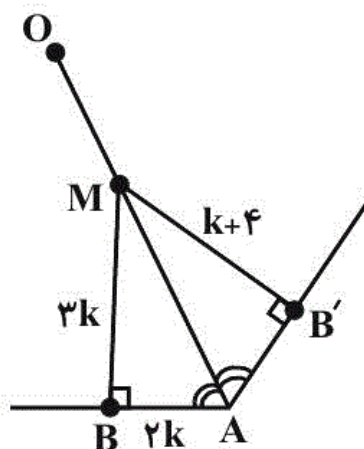
(ویدر راهتی)

چون نقطه M روی نیمساز زاویه A قرار دارد، پس فاصله این نقطه تا دو ضلع زاویه A یکسان است. پس داریم:

$$3k = k + 4 \Rightarrow k = 2$$

پس در مثلث قائم‌الزاویه ABM چون طول‌های دو ضلع قائمه برابر $3k = 6$ و $2k = 4$ هستند، طبق قضیه فیثاغورس داریم:

$$(AM)^2 = 6^2 + 4^2 = 52 \Rightarrow AM = 2\sqrt{13}$$



(ریاضی ۲، هنرسه، صفحه‌های ۲۶ تا ۳۰)

۴

۳

۲

۱

با استفاده از ویژگی‌های تناسب داریم:

$$\frac{2a}{3} = \frac{c}{5} \Rightarrow 10a = 3c \Rightarrow a = \frac{3}{10}c$$

$$\frac{b+a}{2} = \frac{c}{5} \xrightarrow{a=\frac{3}{10}c} \frac{b+\frac{3}{10}c}{2} = \frac{c}{5} \Rightarrow b + \frac{3}{10}c = \frac{2}{5}c$$

$$\Rightarrow b = \frac{2}{5}c - \frac{3}{10}c \Rightarrow b = \frac{1}{10}c$$

$$\frac{a+c}{b} = \frac{\frac{3}{10}c+c}{\frac{1}{10}c} = \frac{13}{1} = 13$$

(ریاضی ۲، هنرسه، صفحه‌های ۳۱، ۳۲ و ۴۱)

۴

۳

۲ ✓

۱

$$\text{رابطه فیثاغورس: } BC^2 = AC^2 + AB^2$$

$$\Rightarrow (2x+1)^2 = 3^2 + (x+2)^2$$

$$\Rightarrow 4x^2 + 4x + 1 = 9 + x^2 + 4x + 4$$

$$\Rightarrow 3x^2 = 12 \Rightarrow x^2 = 4 \xrightarrow{x>0} x = 2$$

$$S_{ABC} = \frac{1}{2} AC \times AB = \frac{1}{2} AH \times BC$$

$$\Rightarrow 3 \times 4 = AH \times 5$$

$$\Rightarrow AH = \frac{12}{5} = 2.4$$

$$\Rightarrow AH + BC = 2.4 + 5 = 7.4$$

(ریاضی ۲، هنر سه، صفحه‌های ۳۷ تا ۴۱)

۴

۳

۲ ✓

۱

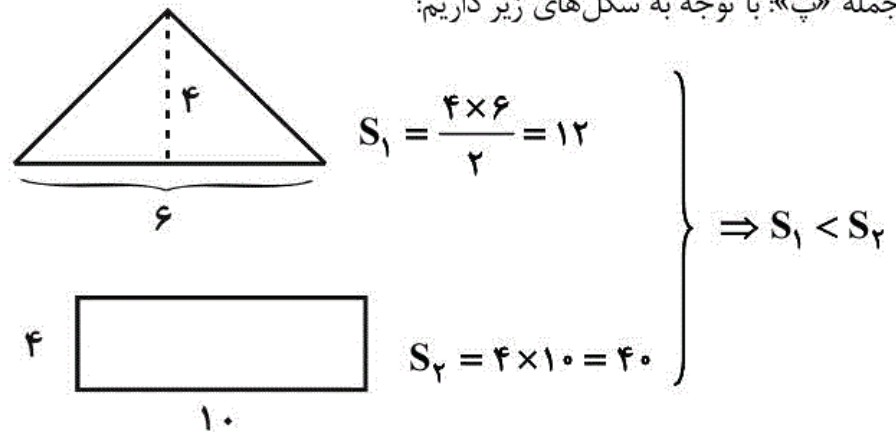
جمله‌های الف و ت درست هستند.

بررسی سایر جمله‌ها:

جمله «ب»: از نقطه‌ای خارج یک خط، تنها یک خط عمود بر آن خط

می‌توان رسم کرد.

جمله «پ»: با توجه به شکل‌های زیر داریم:



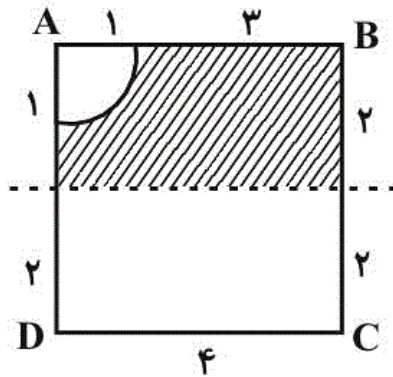
(ریاضی ۲، هنرسه، صفحه‌های ۳۱ تا ۴۱)

 ۴

 ۳

 ۲

 ۱



نقاطی که فاصله آن‌ها از رأس A برابر یک است روی دایره‌ای به مرکز A و شعاع یک هستند، پس خارج این دایره فاصله از A بیشتر از یک است. نقاطی که فاصله آن‌ها از B و C یکسان است روی

عمودمنصف پاره خط BC هستند، پس نقاطی که بالای عمودمنصف BC هستند (مطابق شکل) به B نزدیک‌تر هستند.

اشتراک این مکان‌های هندسه، ناحیه هاشورخورده است که برای مساحت آن می‌توان نوشت:

ربع دایره S - مستطیل S = رنگی S

$$= 4 \times 2 - \frac{1}{4}(\pi)(1)^2 = 8 - 0.785 = 7.215$$

(ریاضی ۲، هندسه، صفحه‌های ۲۶ تا ۳۰)

۴

۳

۲

۱

در گزینه «۱»: قضیه فیثاغورس بیان شده که عکس آن نیز درست است و قضیه دو شرطی است.

در لوزی قطرهای منصف هستند، ولی اگر قطرهای یک چهارضلعی منصف یکدیگر باشند الزاماً لوزی نیست، ولی قطعاً متوازی‌الاضلاع می‌باشد. در رابطه با گزینه «۳» باید گفت که عکس آن هم درست است.

(ریاضی ۲، هندسه، صفحه‌های ۳۷ تا ۴۱)

۴

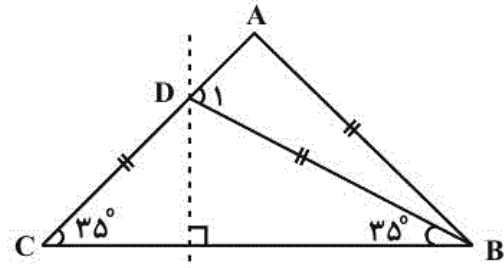
۳

۲

۱

۷۷- گزینه «۱»

(میثم بهرامی بویا)



۴

۳

۲

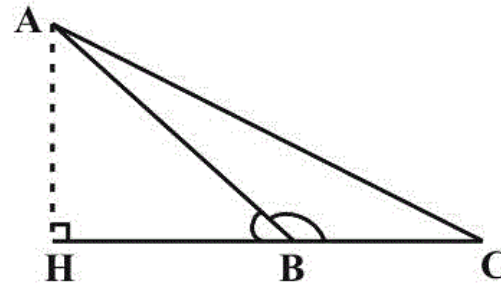
۱ ✓

گزینه سوم مثال نقض ندارد و همواره درست است.

بررسی سایر گزینه‌ها:

گزینه «۱»: اگر زاویه داخلی منفرجه باشد، زاویه خارجی اش حاده است.

همانند شکل زیر:

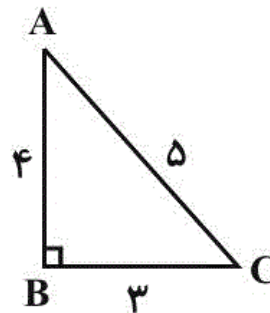


گزینه «۲»: اگر عدد ۲ و ۵ را در نظر بگیریم، داریم:

$$۲ + ۵ = ۷ \Rightarrow \text{عدد اول}$$

گزینه «۴»: در مثلث قائم‌الزاویه زیر، اندازه ارتفاع وارد بر ضلع BC بزرگتر

از ضلع BC است.



(ریاضی ۲، هنر سه، صفحه‌های ۳۷ تا ۴۱)

۴

۳

۲

۱

چون نقطه O از سه ضلع مثلث به یک فاصله (شعاع دایره) است. پس O محل برخورد نیمسازهای داخلی مثلث است. OB و OC به ترتیب نیمسازهای $\hat{A}BC$ و $\hat{A}CB$ هستند.

در مثلث BOC مجموع زاویه‌های داخلی 180° درجه است. در نتیجه:

$$103^\circ + \frac{\hat{B}}{2} + \frac{\hat{C}}{2} = 180 \Rightarrow \hat{B} + \hat{C} = 154^\circ$$

همچنین در مثلث ABC مجموع زوایای داخلی 180° است. در نتیجه:

$$\hat{A} + \hat{B} + \hat{C} = 180 \xrightarrow{\hat{B} + \hat{C} = 154} \hat{A} + 154^\circ = 180^\circ$$

$$\Rightarrow \hat{A} = 26^\circ$$

(ریاضی ۲، هنرسه، صفحه‌های ۲۶ تا ۳۰)

 ۴

 ۳

 ۲

 ۱

۸۰ - گزینه ۲»

(امیرعلی کتیرایی)

با توجه به تعمیم قضیه تالس به صورت زیر می‌توان نوشت:

$$\frac{AD}{AE} = \frac{MB}{NC} \Rightarrow \frac{AD}{MB} = \frac{AE}{NC} \Rightarrow \frac{2/5}{5} = \frac{3}{NC}$$

$$\Rightarrow NC = \frac{3 \times 5}{2/5} = 6$$

(ریاضی ۲، هنرسه، صفحه‌های ۳۱ تا ۴۱)

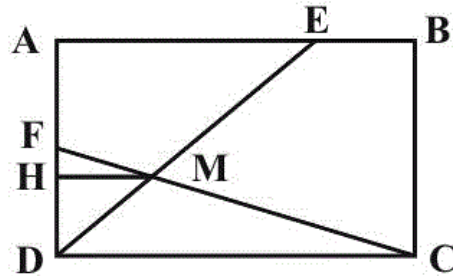
 ۴

 ۳

 ۲

 ۱

از نقطه M خطی موازی طول‌های مستطیل رسم می‌کنیم و تقاطع آن را با AD نقطه H می‌نامیم، طبق قضیه تالس خواهیم داشت:



$$\frac{BE}{AE} = \frac{2}{3} \Rightarrow AE = \frac{3}{5} AB, \quad \frac{DM}{EM} = \frac{1}{2} \Rightarrow \frac{DM}{DE} = \frac{1}{3}$$

$$\frac{MH}{AE} = \frac{DM}{DE} = \frac{1}{3} \Rightarrow MH = \frac{1}{3} AE = \frac{1}{3} \times \frac{3}{5} AB = \frac{1}{5} AB$$

$$\frac{MH}{DC} = \frac{FM}{FC} \Rightarrow \frac{\frac{1}{5} AB}{AB} = \frac{FM}{FC} = \frac{1}{5} \Rightarrow \frac{FM}{CM} = \frac{1}{4}$$

(ریاضی ۲، هنرسه، صفحه‌های ۳۱ تا ۴۱)

 ۴

 ۳

 ۲

 ۱

با توجه به قضیه تالس داریم:

$$BC \parallel DE \Rightarrow \frac{DE}{BC} = \frac{AE}{AB} = \frac{AD}{AC}$$

$$BC \parallel DE \Rightarrow \frac{y}{3x-1} = \frac{x}{2x-1} = \frac{2x}{3x+2}$$

با حل معادله‌های ۱ و ۲ داریم:

$$(1): \frac{x}{2x-1} = \frac{2x}{3x+2}$$

$$\Rightarrow 3x^2 + 2x = 4x^2 - 2x \Rightarrow x^2 = 4x$$

$$\Rightarrow \begin{cases} x=0 & \text{غقق} \\ x=4 & \text{قق} \end{cases}$$

$$(2): \frac{y}{3(4)-1} = \frac{4}{2(4)-1} \Rightarrow \frac{y}{11} = \frac{4}{7} \Rightarrow y = \frac{44}{7}$$

$$\Rightarrow x+y = 4 + \frac{44}{7} = \frac{72}{7}$$

(ریاضی ۲، هندسه، صفحه‌های ۳۱ تا ۴۱)

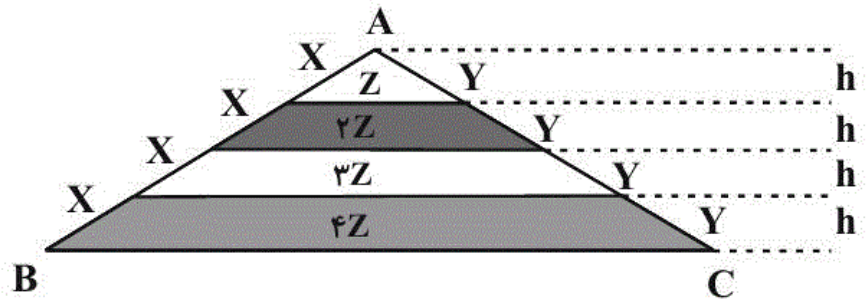
 ۴

 ۳ ✓

 ۲

 ۱

به کمک قضیه تالس می‌توان ثابت کرد که اگر دو ضلع مثلث را به قسمت‌های مساوی تقسیم کنیم و نقاط تقسیم را طوری مطابق شکل به هم وصل کنیم آنگاه پاره‌خط‌ها با ضلع سوم مثلث موازی هستند و طول آن‌ها تشکیل دنباله‌ای حسابی می‌دهند و فاصله بین خطوط موازی یکسان است.



$$\text{مساحت دوزنقه بزرگ} = \frac{(3Z + 4Z) \times h}{2} = \frac{7Zh}{2}$$

$$\text{مساحت دوزنقه کوچک} = \frac{(Z + 2Z) \times h}{2} = \frac{3Zh}{2}$$

با توجه به گزینه‌ها:

$$\text{نسبت خواسته شده} = \frac{7}{3}$$

(ریاضی ۲، هندسه، صفحه‌های ۳۱ تا ۴۱)

 ۴

 ۳

 ۲

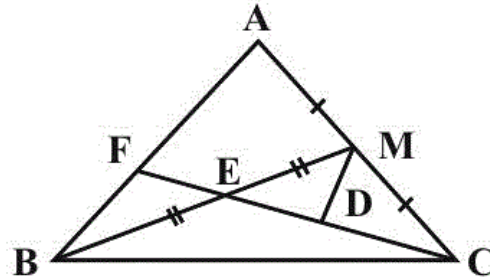
 ۱

نقطه D را روی EC انتخاب می‌کنیم که ED = FE شود و از M به آن وصل می‌کنیم. چهارضلعی BFMD متوازی‌الاضلاع است. (چون قطره‌های آن منصف یکدیگرند).

$$\Rightarrow \begin{cases} MD = BF = 5 \\ MD \parallel BF \Rightarrow MD \parallel AB \end{cases} \Rightarrow \triangle ACF : MD \parallel AF$$

$$\Rightarrow \frac{CM}{AC} = \frac{MD}{AF} \Rightarrow \frac{1}{2} = \frac{5}{AF} \Rightarrow AF = 10$$

$$AB = BF + AF = 15$$



(ریاضی ۲، هنرسه، صفحه‌های ۳۱ تا ۳۱)

۴

۳

۲

۱

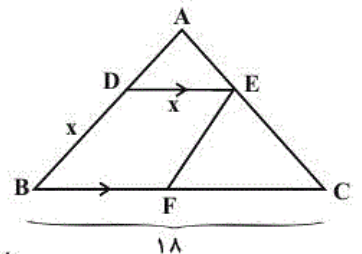
(سپار د اطلب)

$$\triangle ABC : DE \parallel BC \xrightarrow{\text{قضیه تالس}} \frac{AD}{AB} = \frac{DE}{BC}$$

$$\Rightarrow \frac{3}{x+3} = \frac{x}{18}$$

$$x^2 + 3x = 54 \Rightarrow x^2 + 3x - 54 = 0$$

$$(x+9)(x-6) = 0 \Rightarrow \begin{cases} x = -9 & \text{غقق} \\ x = 6 & \text{قق} \end{cases}$$



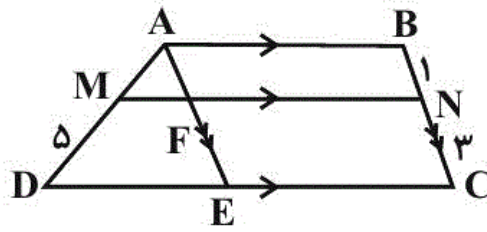
(ریاضی ۲، هنرسه، صفحه‌های ۳۱ تا ۳۱)

۴

۳

۲

۱



با رسم خط AE که موازی ضلع BC است، متوازی‌الاضلاع $ABCE$ تشکیل

شده که $AE = BC$ پس $AF = BN = 1$ و $FE = NC = 3$

$$\xrightarrow{\text{طبق قضیه تالس}} \frac{AM}{MD} = \frac{AF}{FE} \Rightarrow \frac{AM}{5} = \frac{1}{3} \Rightarrow AM = \frac{5}{3}$$

$$\Rightarrow AD = \frac{5}{3} + 5 = \frac{20}{3}$$

(ریاضی ۲، هندسه، صفحه‌های ۳۱ تا ۴۱)

 ۴

 ۳

 ۲

 ۱

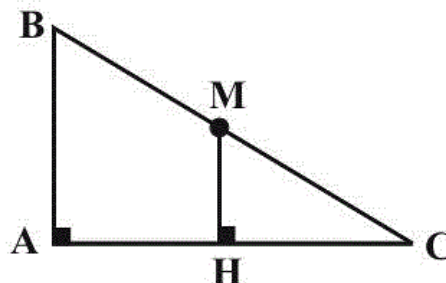
۸۷ - گزینه «۱»

(میلار منصوری)

چون فاصله O از سه نقطه A ، B و C مساوی است، پس در محل

تلاقی عمودمنصف‌ها قرار دارد. فرض کنید عمودمنصف وتر BC ، وتر را

در M قطع کند. در این صورت با رسم ارتفاع MH داریم:



$$\begin{aligned} MH \parallel AB &\Rightarrow CH = AH \\ MC = MB &\end{aligned}$$

بنابراین MH روی عمودمنصف AC قرار دارد.

لذا نقطه M ، همان نقطه تلاقی عمودمنصفها است. لذا $M = O$ است و

در نتیجه $BC = 6$. اینک داریم:

$$\begin{cases} AB^2 + AC^2 = 36 \\ \frac{1}{2} AB \times AC = 9 \end{cases} \Rightarrow \begin{cases} AB^2 + AC^2 = 36 \\ AB \times AC = 18 \end{cases}$$

$$\Rightarrow AB^2 + AC^2 - 2AB \times AC = 36 - 36 = 0$$

$$\Rightarrow (AB - AC)^2 = 0 \Rightarrow AB = AC$$

$$\Rightarrow AB = AC = \sqrt{18} = 3\sqrt{2}$$

چون $BC = 6$ بود، پس:

$$\text{محیط} = 3\sqrt{2} + 3\sqrt{2} + 6 = 6(\sqrt{2} + 1)$$

(ریاضی ۲، هنرسه، صفحه‌های ۳۱ تا ۴۱)

۴

۳

۲

۱ ✓

بنابه قضیه تالس داریم:

$$\frac{BF}{FC} = \frac{AE}{ED} = \frac{1}{4} \Rightarrow ED = 4AE$$

$$\Delta ACD \text{ در مثلث} \xrightarrow[\text{EH} \parallel \text{DC}]{\text{قضیه تالس}} \frac{AE}{\underbrace{AD}_{AE+ED}} = \frac{EH}{DC}$$

$\frac{AE}{4AE}$

$$\Rightarrow \frac{AE}{5AE} = \frac{EH}{10} \Rightarrow EH = 2$$

$$\Delta ABD \text{ در مثلث} \xrightarrow[\text{EG} \parallel \text{AB}]{\text{قضیه تالس}} \frac{ED}{AD} = \frac{EG}{AB}$$

$$\Rightarrow \frac{4AE}{5AE} = \frac{EG}{4} \Rightarrow EG = \frac{16}{5} = 3\frac{1}{5}$$

$$\Rightarrow GH = EG - EH = 3\frac{1}{5} - 2 = 1\frac{1}{5}$$

$$\frac{GH}{EH} = \frac{1\frac{1}{5}}{2} = 0\frac{1}{10}$$

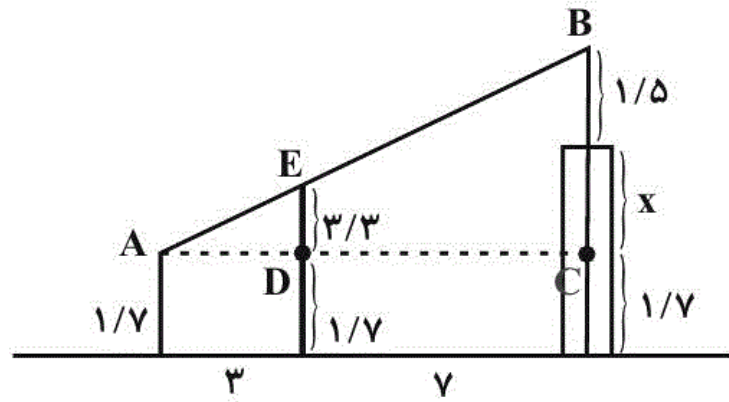
(ریاضی ۲، هندسه، صفحه‌های ۳۱ تا ۴۱)

۴ ✓

۳

۲

۱



$$DE \parallel BC \Rightarrow \frac{AD}{AC} = \frac{DE}{BC} \Rightarrow \frac{3}{10} = \frac{3/3}{x+1/5}$$

$$\Rightarrow \frac{1}{10} = \frac{1/1}{x+1/5} \Rightarrow x+1/5 = 11 \Rightarrow x = 9/5$$

$$\text{ارتفاع ساختمان} = x + 1/5 = 9/5 + 1/5 = 10/5 = 2$$

(ریاضی ۲، هنرسه، صفحه‌های ۳۱ تا ۴۱)

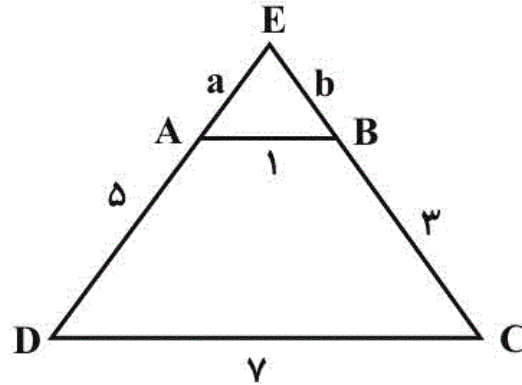
۴

۳

۲

۱ ✓

بنابه قضیه تالس در مثلث EDC داریم:



$$AB \parallel DC \Rightarrow \frac{EA}{ED} = \frac{AB}{DC} \Rightarrow \frac{a}{a+5} = \frac{1}{7}$$

$$\Rightarrow 7a = a + 5 \Rightarrow 6a = 5 \Rightarrow a = \frac{5}{6}$$

$$\text{قضیه تالس: } AB \parallel DC \Rightarrow \frac{EA}{AD} = \frac{EB}{BC}$$

$$\Rightarrow \frac{a}{5} = \frac{b}{3} \Rightarrow b = \frac{3a}{5} = \frac{3}{5} \times \frac{5}{6} = \frac{1}{2}$$

بنابراین محیط مثلث AEB برابر است با:

$$1 + \frac{5}{6} + \frac{1}{2} = \frac{7}{3}$$

(ریاضی ۲، هنرسه، صفحه‌های ۳۱ تا ۴۱)

۴

۳

۲

۱ ✓