



سایت ویژه ریاضیات www.riazisara.ir

درسنامه ها و جزوه های ریاضی
سوالات و پاسخنامه تشریحی کنکور
نمونه سوالات امتحانات ریاضی
نرم افزارهای ریاضیات

و...

@riazisara

ریاضی سرا در تلگرام:



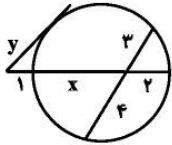
<https://t.me/riazisara>

@riazisara.ir

ریاضی سرا در اینستاگرام:



<https://www.instagram.com/riazisara.ir>



۱۱۱- در شکل مقابل، مقدار $x + y$ کدام است؟

- (۱) ۸
(۲) ۹
(۳) ۱۲
(۴) ۱۵

۱۱۲- نقاط A و B روی محیط یک دایره طوری قرار گرفته‌اند که اندازه کمان بزرگ‌تر دو برابر اندازه کمان کوچک‌تر است. زاویه بین دو مماس رسم شده در نقاط A و B چند درجه است؟

- (۱) ۳۰
(۲) ۶۰
(۳) ۹۰
(۴) ۱۲۰

۱۱۳- در مثلثی با اضلاع ۶، ۸ و ۱۰، فاصله مرکز دایره محاطی داخلی تا مرکز دایره محیطی چقدر است؟

- (۱) $\sqrt{2}$
(۲) $\sqrt{5}$
(۳) $\sqrt{8}$
(۴) $\sqrt{10}$

۱۱۴- شعاع دایره محیطی یک هشت‌ضلعی منتظم برابر یک است. اندازه شعاع دایره محاطی این هشت‌ضلعی کدام است؟

- (۱) $\cos(22/5^\circ)$
(۲) $\sin(22/5^\circ)$
(۳) $\tan(22/5^\circ)$
(۴) $\frac{1}{\cos(22/5^\circ)}$

۱۱۵- عکس کدام گزاره در مورد تبدیلات، همواره صحیح است؟

- (۱) اگر تبدیلی طولی باشد، آن‌گاه اندازه زاویه‌ها را حفظ می‌کند.
(۲) اگر تبدیلی شیب خطوط را حفظ کند، آن‌گاه آن تبدیل از نوع بازتاب نیست.
(۳) اگر دو شکل متجانس باشند، آن‌گاه متشابه‌اند.
(۴) اگر یک تبدیل همانی باشد، آن‌گاه تمام نقاط صفحه، نقاط ثابت این تبدیل‌اند.

۱۱۶- دایره $C(O, a-1)$ را با بردار انتقال $\overline{OO'}$ بر دایره $C'(O', 3-a)$ تصویر می‌کنیم. اگر اندازه مماس مشترک داخلی این دو دایره برابر ۳ باشد، اندازه مماس مشترک خارجی این دو دایره کدام است؟

- (۱) $\sqrt{5}$
(۲) ۵
(۳) $\sqrt{13}$
(۴) ۱۳

۱۱۷- اگر نقطه هم‌رسی میانه‌های AA' ، BB' و CC' از مثلث ABC و $A'B'C'$ مجانس مثلث ABC در تجانس به مرکز G باشد، نسبت تجانس کدام است؟

- (۱) $-\frac{2}{3}$
(۲) $\frac{2}{3}$
(۳) $-\frac{1}{2}$
(۴) $\frac{1}{2}$

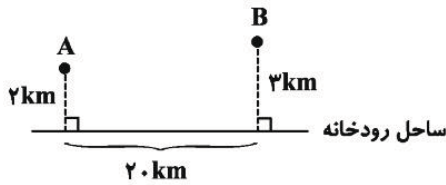
۱۱۸- نقطه O به فاصله ۶ واحد از خط d مفروض است. اگر دوران یافته d حول نقطه O و به زاویه ۶۰ درجه، d را در نقطه M قطع کند، اندازه OM کدام است؟

- (۱) $\frac{8}{3}\sqrt{3}$
(۲) $8\sqrt{3}$
(۳) $\frac{4}{3}\sqrt{3}$
(۴) $4\sqrt{3}$

۱۱۹- در مثلث ABC ، $BC=4$ ، $\hat{B}=15^\circ$ ، $\hat{C}=75^\circ$ و ارتفاع وارد بر ضلع BC می‌باشد. اگر H' و H'' به ترتیب بازتاب یافته نقطه H نسبت به AB و AC باشند، اندازه $H'H''$ کدام است؟

- ۱ (۱) ۲ (۲) ۴ (۳) ۸ (۴)

۱۲۰- مطابق شکل دو شهر A و B مفروض‌اند. می‌خواهیم جاده‌ای از A به B بسازیم، به طوری که ۸ کیلومتر از این جاده در ساحل رودخانه ساخته شود. اندازه کوتاه‌ترین مسیر ممکن برای این جاده چند کیلومتر است؟



- ۲۰ (۱)
۲۱ (۲)
۲۲ (۳)
۲۳ (۴)

یازدهم: آمار و احتمال - ۱۰ سوال -

۱۲۱- اگر $(p \Rightarrow (q \Rightarrow r)) \equiv F$ باشد، ارزش گزاره‌های $\sim p \vee r$ و $\sim r \wedge s$ به ترتیب از راست به چپ کدام است؟

- ۱ (T, T) ۲ (F, T) ۳ (F, T) ۴ (F, F)

۱۲۲- اگر A ، B و C سه مجموعه دلخواه باشند، حاصل $(A - (C - B)) - (B - (A - C))$ همواره برابر کدام است؟

- ۱ (A - B) ۲ (B - C) ۳ (A - C) ۴ (C - B)

۱۲۳- اگر A ، B و C سه مجموعه و $C' \cup [B \cup (A \cap C)] = \emptyset$ باشد، کدام یک از مجموعه‌های زیر با بقیه مساوی نیست؟

- ۱ (A ∩ B) ۲ (B) ۳ (B ∪ C) ۴ (A - C)

۱۲۴- اگر A مجموعه اعداد طبیعی یک رقمی، B مجموعه اعداد فرد یک رقمی و C مجموعه اعداد اول یک رقمی باشد، در این صورت مجموعه‌های $(A \times B)$ و $(C \times A)$ دارای چند زوج مرتب مشترک هستند؟

- ۱ (۹) ۲ (۱۶) ۳ (۲۰) ۴ (۲۵)

۱۲۵- در پرتاب یک تاس احتمال مشاهده هر عدد متناسب با همان عدد است. اگر بدانیم عدد رو شده در پرتاب این تاس زوج است، با کدام احتمال این عدد اول است؟

- ۱ (1/2) ۲ (1/3) ۳ (1/4) ۴ (1/6)

۱۲۶- اگر A و B دو پیشامد باشند، به طوری که $P(A) = \frac{2}{5}$ ، $P(B) = \frac{1}{2}$ و $P(A' | B') = \frac{3}{4}$ ، حاصل $P(A \cap B)$ کدام است؟

- ۱ (3/8) ۲ (21/40) ۳ (3/20) ۴ (11/40)

۱۲۷- ۵۰ درصد واجدین شرایط در شهر A و ۸۰ درصد واجدین شرایط در شهر B در انتخابات شورای شهر شرکت کرده‌اند و تعداد واجدین شرایط شهر A دو برابر تعداد واجدین شرایط شهر B است. فردی به تصادف از واجدین شرایط این دو شهر انتخاب می‌کنیم. اگر این فرد در انتخابات شورای شهر شرکت کرده باشد، با کدام احتمال در شهر A زندگی می‌کند؟

- (۱) $\frac{1}{3}$ (۲) $\frac{2}{3}$ (۳) $\frac{4}{9}$ (۴) $\frac{5}{9}$

۱۲۸- ۳ سکه پرتاب شده است. اگر حداقل دو سکه «رو» بیاید، یک تاس را پرتاب می‌کنیم. احتمال اینکه تاس مربع کامل یا عدد اول ظاهر شود، چقدر است؟

- (۱) $\frac{5}{6}$ (۲) $\frac{5}{12}$ (۳) $\frac{1}{6}$ (۴) $\frac{1}{12}$

۱۲۹- در داده‌های آماری ۱۴، ۲، ۲، ۵، ۱، ۳، ۸، ۱۲، ۲، ۱، ۴، ۹ و ۱۲، میانگین مد داده‌ها و چارک سوم چقدر است؟

- (۱) $6/25$ (۲) $10/5$ (۳) $11/25$ (۴) $5/5$

۱۳۰- انحراف از میانگین ۵ داده به صورت -۲، ۴، a، ۳ و -۴ است. اگر هر یک از این داده‌ها را ۵ برابر کرده و سپس ۲ واحد از هر کدام از آنها کم کنیم، واریانس آنها چه مقدار خواهد شد؟

- (۱) ۲۳۰ (۲) ۲۲۸ (۳) ۴۴ (۴) ۴۶

یازدهم: ریاضی پایه - ۲۰ سوال

۸۱- اگر $A = [1, 4]$ ، $B = (-2, 2]$ و $C = [1, 5]$ باشد، حاصل $B \cup (A \cap C)$ کدام است؟

- (۱) $(-2, 2]$ (۲) $(-2, 4]$ (۳) $(-2, 5]$ (۴) $[1, 2]$

۸۲- اگر $\sqrt{22} - 6\sqrt{8} + \sqrt{28} = a + b\sqrt{c}$ باشد، حاصل $a + b + c$ کدام است؟ ($a, b, c \in \mathbb{Z}$)

- (۱) ۹ (۲) ۱۰ (۳) ۱۱ (۴) ۱۲

۸۳- اگر $ab = 8$ و $a - b = 7$ باشد، حاصل $A = \sqrt[3]{a} - \sqrt[3]{b}$ کدام است؟

- (۱) ۲ (۲) ۳ (۳) ۱ (۴) $\sqrt[3]{2}$

۸۴- مجموع ۹۹ جمله اول دنباله $a_n = \left[\frac{n+2}{7} \right]$ کدام است؟ ([]، نماد جزء صحیح است.)

- (۱) ۵۸۱ (۲) ۶۳۷ (۳) ۶۷۹ (۴) ۶۹۳

۸۵- دنباله هندسی صعودی a_n به نحوی است که $a_1 a_5 = 6$ و $a_3 a_7 = 24$ است. حاصل $\frac{a_1 + a_2 + \dots + a_{10}}{a_1 + a_2 + \dots + a_5}$ کدام است؟

- (۱) ۸ (۲) ۳۳ (۳) $1 + 4\sqrt{2}$ (۴) $1 + 2\sqrt{2}$

۸۶- به ازای کدام مقدار (مقادیر) m ، نمودار تابع $y = 2x^2 + (m-1)x + m + 6$ بر نیمساز ناحیه دوم مماس است؟
 (۱) فقط -۴ (۲) فقط ۱۲ (۳) ۴ یا -۱۲ (۴) -۴ یا ۱۲

۸۷- در صورت کار همزمان دو پمپ تخلیه A و B، استخر پر از آبی در مدت ۴ ساعت خالی می‌شود. اگر پمپ A با ۴۰٪ توان و پمپ B با ۶۰٪ توانش کار کند، استخر در ۹ ساعت خالی می‌شود. پمپ B به تنهایی در چند ساعت استخر را تخلیه می‌کند؟

(۱) ۱۸ (۲) ۳۶ (۳) $\frac{۳۶}{۷}$ (۴) $\frac{۱۸}{۷}$

۸۸- معادله $|x| + |2x-1| = 3x - x^2$ چند جواب حقیقی دارد؟

(۱) ۳ (۲) ۲ (۳) ۱ (۴) صفر

۸۹- دو نقطه بر روی خط $y = x + 2$ وجود دارد که فاصله هر کدام از آن‌ها از خط $x + 2y = -3$ برابر $\sqrt{5}$ می‌باشد. مجموع مقادیر عرض‌های این نقاط کدام است؟

(۱) $-\frac{۲}{۳}$ (۲) $-\frac{۱۰}{۳}$ (۳) $\frac{۸}{۳}$ (۴) $\frac{۱۰}{۳}$

۹۰- اگر مجموعه جواب نامعادله $\frac{x^2}{x-1} \leq \frac{x}{1+x}$ به صورت $(-\infty, a) \cup [b, c)$ باشد، حاصل $a + b + c$ کدام است؟
 (۱) صفر (۲) ۱ (۳) ۲ (۴) ۳

۹۱- برای تابع خطی f داریم: $f(f(x)) = 16x - 5$. کدام یک از نقاط زیر می‌تواند محل برخورد تابع f با محور طول‌ها باشد؟

(۱) $\frac{۳}{۲}$ (۲) $\frac{۱}{۴}$ (۳) $\frac{۵}{۱۱}$ (۴) $\frac{۱۲}{۵}$

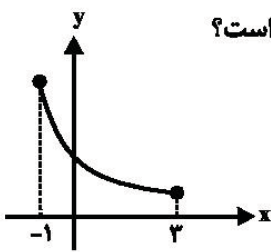
۹۲- اگر $f(x) = 2x + \sqrt{4x+5}$ باشد، حاصل $\frac{f(5)}{f^{-1}(5)}$ کدام است؟

(۱) ۱۵ (۲) $\frac{۱}{۱۵}$ (۳) ۱ (۴) ۳

۹۳- اگر $f(x) = \frac{-2^{1-x}}{4^x}$ باشد، دامنه تابع $g(x) = \sqrt{2xf^{-1}(x)}$ به صورت $(-\infty, a]$ است. مقدار a کدام است؟

(۱) -۲ (۲) -۳ (۳) -۴ (۴) -۵

۹۴- اگر نمودار تابع $g(x) = f(x-1) + 2$ به صورت مقابل باشد، دامنه تابع $h(x) = f\left(\frac{1}{2}x + 3\right)$ کدام است؟

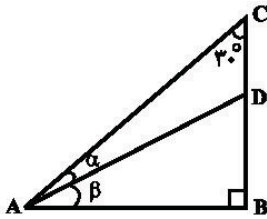


- (۱) $[-6, 0]$
- (۲) $[6, 14]$
- (۳) $[-10, -2]$
- (۴) $[3, 7]$

۹۵- ریشه بزرگتر معادله $(\log 5)^x - (\log x)^x = 2 \log 5x$ چقدر از ریشه کوچکتر آن بیشتر است؟

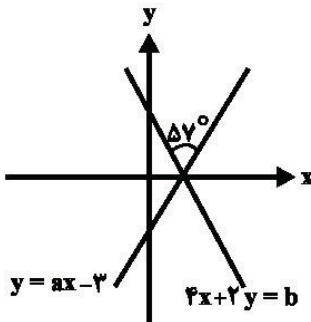
- (۱) $0/1$
- (۲) $0/0.5$
- (۳) $0/2$
- (۴) $0/1.5$

۹۶- در شکل زیر، نسبت مساحت مثلث ADC به مساحت مثلث ABD برابر $\frac{1}{2}$ است. حاصل $\frac{\sin \alpha}{\sin \beta}$ کدام است؟



- (۱) $\frac{1}{2}$
- (۲) $\frac{1}{4}$
- (۳) $\frac{\sqrt{3}}{2}$
- (۴) $\frac{\sqrt{3}}{4}$

۹۷- در شکل زیر، اگر $\tan 117^\circ = -2$ باشد، مقدار a کدام است؟



- (۱) $\frac{1}{\sqrt{3}}$
- (۲) $\sqrt{3}$
- (۳) ۲
- (۴) $\sqrt{5}$

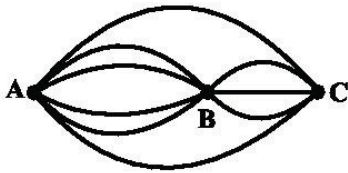
۹۸- حاصل عبارت $A = \frac{\cos\left(\frac{3\pi}{2} + x\right) + \sin\left(x - \frac{\pi}{2}\right)}{\sin(x - \pi) - \cos(\pi + x)}$ کدام است؟

- (۱) -۱
- (۲) ۱
- (۳) صفر
- (۴) $\frac{1 - \cos x}{1 + \cos x}$

۹۹- حاصل عبارت $T = \frac{\cos 10^\circ + \sqrt{3} \sin 10^\circ}{\sin 14^\circ}$ کدام است؟

- (۱) ۱
- (۲) $\frac{2}{\sin 40^\circ}$
- (۳) ۲
- (۴) $\frac{1}{\sin 50^\circ}$

۱۰۰- مطابق شکل زیر، از شهر A می‌خواهیم به شهر C برویم و دوباره به A برگردیم، با این شرط که از هر مسیر فقط یک بار عبور کنیم. این کار به چند طریق امکان‌پذیر است؟



۱۱۲ (۲)

۹۶ (۱)

۱۲۲ (۴)

۱۰۴ (۳)

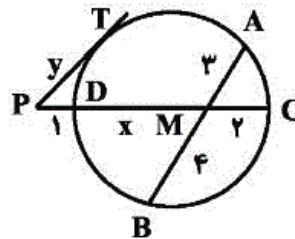
(ترکس کلرگر)

۱۱۱- گزینه «۲»

مطابق شکل با توجه به روابط طولی در دایره داریم:

$$\begin{cases} MA \times MB = MC \times MD \Rightarrow 2 \times 4 = 2 \times (x) \Rightarrow x = 6 \\ PT^2 = PD \times PC \Rightarrow y^2 = 1 \times (1 + 6 + 2) = 9 \Rightarrow y = 3 \end{cases}$$

$$\Rightarrow x + y = 6 + 3 = 9$$



(هندسه ۲- دایره صفحه‌های ۱۸ و ۱۹ و ۲۳)

۴

۳

۲

۱

(امیر هوشنگ قمسه)

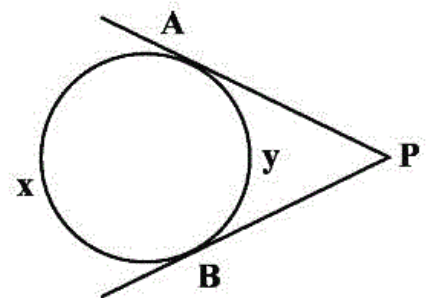
۱۱۲- گزینه «۲»

مطابق شکل داریم:

$$x + y = 36^\circ \Rightarrow 2y + y = 36^\circ$$

$$\Rightarrow \begin{cases} y = 12^\circ \\ x = 24^\circ \end{cases}$$

$$\hat{P} = \frac{x - y}{2} = \frac{24^\circ - 12^\circ}{2} = 6^\circ$$



(هندسه ۲- دایره صفحه‌های ۱۵ و ۱۶)

۴

۳

۲

۱

مطابق شکل، اندازه OM فاصله مرکز دایره محاطی داخلی تا مرکز دایره

محیطی است. در نتیجه،

$$OM^2 = OE^2 + EM^2 = 4 + 1 = 5 \Rightarrow OM = \sqrt{5}$$

(هنر سه ۲- دایره، صفحه‌های ۲۵ تا ۲۶ و ۳۰)

۴

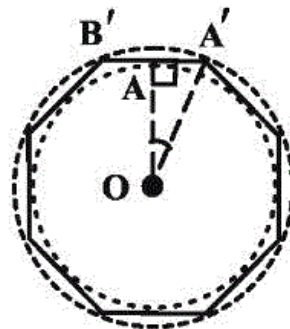
۳

۲

۱

۱۱۴- گزینه «۱»

(سینا ممبرپور)



دایره‌های محاطی و محیطی هشت ضلعی

منتظم را رسم می‌کنیم. مطابق شکل، OA

شعاع دایره محاطی و OA' شعاع دایره

محیطی این هشت ضلعی هستند. می‌دانیم

OA عمود منصف A'B' است، پس،

$$\widehat{AOA'} = \frac{1}{2} \widehat{A'OB'} = \frac{1}{2} \left(\frac{1}{8} (360^\circ) \right) = 22.5^\circ$$

در نتیجه،

$$\cos(\widehat{AOA'}) = \frac{OA}{OA'} \Rightarrow \cos(22.5^\circ) = \frac{OA}{1}$$

$$\Rightarrow OA = \cos(22.5^\circ)$$

(هنر سه ۲- دایره، صفحه‌های ۲۸ تا ۳۰)

۴

۳

۲

۱

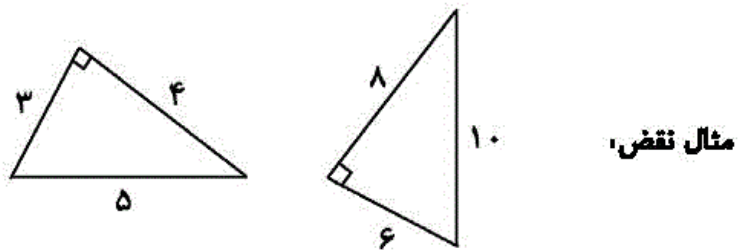
عکس گزینه «۱»، اگر یک تبدیل اندازه زاویه‌ها را حفظ کند، آن گاه تبدیل طولپاست.

مثال نقض، تجانس

عکس گزینه «۲»، اگر یک تبدیل از نوع بازتاب نباشد، آن گاه شیب خطوط را حفظ می‌کند.

مثال نقض، دوران

عکس گزینه «۳»، اگر دو شکل متشابه باشند، آن گاه دو شکل متجانس‌اند.



عکس گزینه «۴»، اگر تمام نقاط صفحه، نقطه ثابت یک تبدیل باشند، آن گاه آن تبدیل هماتی است \Leftarrow این جمله همواره درست است.

(هندسه ۲- تبدیل‌های هندسی و کاربردها؛ صفحه‌های ۳۶ تا ۵۰)

۴

۳

۲

۱

تبدیل انتقال طولی است، پس شعاع دو دایره برابر است.

$$\begin{cases} R = a - 1 \\ R' = 3 - a \end{cases} \xrightarrow{R=R'} a - 1 = 3 - a \Rightarrow a = 2 \Rightarrow R = R' = 1$$

حال با توجه به روابط مماس مشترک داخلی و خارجی دو دایره داریم:

$$\begin{aligned} C' \text{ و } C \text{ دایره دو دایره داخلی مشترک} &= \sqrt{OO'^2 - (R + R')^2} \\ &= \sqrt{OO'^2 - 2^2} = 3 \Rightarrow OO'^2 = 13 \end{aligned}$$

$$\begin{aligned} C' \text{ و } C \text{ دایره دو دایره خارجی مشترک} &= \sqrt{OO'^2 - (R - R')^2} \\ &= \sqrt{OO'^2 - 0} = \sqrt{13} \end{aligned}$$

(هنر سه ۲- دایره، صفحه‌های ۲۱ و ۲۲ / تبدیل‌های هندسی و کاربردها، صفحه‌های ۳۰ و ۳۱)

۴

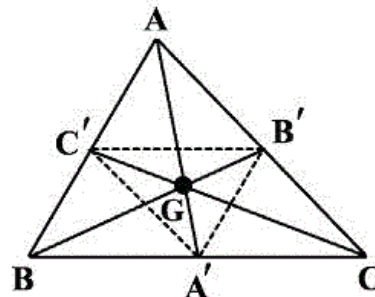
۳ ✓

۲

۱

(رقیبا عباسی اصل)

۱۱۷ - گزینه «۳»



می‌دانیم میانه‌های هر مثلث، همدیگر را به نسبت ۲ به ۱ قطع می‌کنند.

$$\frac{GA'}{GA} = \frac{GB'}{GB} = \frac{GC'}{GC} = \frac{1}{2} \quad \text{بنابراین،}$$

از طرفی چون مرکز ثقل (G) بین A و A' واقع می‌باشد، پس ثقلان

معکوس است، بنابراین:

$$K = -\frac{GA'}{GA} = -\frac{1}{2}$$

(هنر سه ۲- تبدیل‌های هندسی و کاربردها، صفحه‌های ۳۵ تا ۵۱)

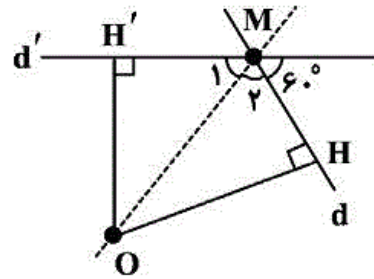
۴

۳ ✓

۲

۱

ابتدا شکل مورد نظر سوال را رسم می‌کنیم.



روشن است که نقطه O روی نیمساز زاویه M قرار دارد. لذا با توجه به
زوایای مفروض داریم:

$$\hat{M}_1 = \hat{M}_2 = \frac{120^\circ}{2} = 60^\circ$$

$$\sin(\hat{M}_2) = \frac{OH}{OM} \Rightarrow \frac{\sqrt{3}}{2} = \frac{6}{OM} \Rightarrow OM = \frac{12}{\sqrt{3}} = 4\sqrt{3}$$

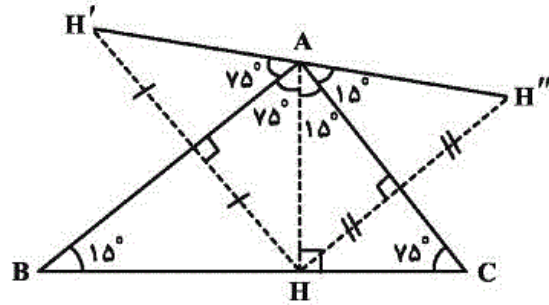
(هنرسه ۲- تبدیل‌های هنرسی و کاربرد‌ها: صفحه‌های ۴۲ و ۴۳)

 ۴ ✓

 ۳

 ۲

 ۱



شکل مساله را رسم می‌کنیم و مطابق شکل زوایا را به دست می‌آوریم. در

$$\hat{A} = 15^\circ + 15^\circ + 75^\circ + 75^\circ = 180^\circ \quad \text{نقطه } A \text{ داریم.}$$

پس نقاط A ، H' و H'' روی یک خط قرار دارند. از آنجا که مثلث‌های

$\triangle HAH'$ و $\triangle HAH''$ متساوی‌الساقین هستند، پس $AH' = AH'' = AH$ و

در نتیجه $H'H'' = AH' + AH'' = 2AH$ است. از طرفی مثلث ABC

قائم‌الزاویه است و یک زاویه 15° درجه دارد، پس طول ارتفاع وارد بر وتر، $\frac{1}{4}$

$$\text{طول وتر است. در نتیجه،} \quad AH = \frac{BC}{4} = \frac{4}{4} = 1 \Rightarrow H'H'' = 2AH = 2$$

(هندسه ۲- تبدیل‌های هندسی و کاربردها، صفحه‌های ۳۷ تا ۳۰)

۴

۳

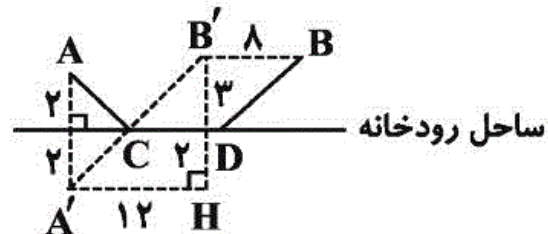
۲

۱

A' بازتاب یافته نقطه A نسبت به ساحل رودخانه است.

B' انتقال یافته نقطه B در راستای ساحل رودخانه است.

طبق شکل داریم،



$$A'B' = A'H + B'H = 12 + 5 \Rightarrow A'B' = 17$$

$$\text{مسیر کوتاهترین مسیر } ACDB = \frac{AC}{A'C} + \frac{CD}{BB'} + \frac{BD}{B'C} = A'C + B'C + BB'$$

$$= A'B' + BB' = 17 + 8 = 25$$

(هندسه ۲- تبدیل‌های هندسی و کاربردها- صفحه ۵۵)

 ۴

 ۳

 ۲

 ۱

می‌دانیم که گزاره شرطی $A \Rightarrow B$ ، تنها در حالتی که A درست و B

نادرست باشد، دارای ارزش نادرست است. بنابراین داریم،

$$s \Rightarrow (p \Rightarrow (q \Rightarrow r)) \equiv F \Rightarrow s = T$$

$$p \Rightarrow (q \Rightarrow r) \equiv F \Rightarrow p \equiv T$$

$$q \Rightarrow r \equiv F \Rightarrow q \equiv T, \quad r \equiv F$$

بنابراین ارزش گزاره‌های $\sim p \vee r$ و $\sim r \wedge s$ به ترتیب T و F است.

(آمار و احتمال- آشنایی با عبارات ریاضیاتی، صفحه‌های ۶ تا ۱۱)

 ۴

 ۳

 ۲

 ۱

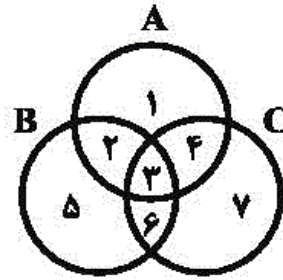
با استفاده از روش ناحیه‌بندی، داریم:

$$A - (C - B) = \{1, 2, 3, 4\} - \{3, 7\} = \{1, 2, 3\}$$

$$B - (A - C) = \{2, 3, 5, 6\} - \{1, 2\} = \{3, 5, 6\}$$

$$(A - (C - B)) - (B - (A - C)) = \{1, 2, 3\} - \{3, 5, 6\} = \{1, 2\}$$

که ناحیه $\{1, 2\}$ ، برابر با $A - C$ است.



(آمار و احتمال - آشنایی با عبارتی ریاضیات، صفحه‌های ۲۶ تا ۳۳)

 ۴

 ۳

 ۲

 ۱

$$A \cup B = \emptyset \Rightarrow A = \emptyset \wedge B = \emptyset$$

نکته:

$$C' \cup [B \cup (A \cap C)] = \emptyset$$

$$\Rightarrow \begin{cases} C' = \emptyset \Rightarrow C = U \\ B \cup (A \cap C) = \emptyset \Rightarrow B \cup (A \cap U) = \emptyset \\ \Rightarrow B \cup A = \emptyset \Rightarrow B = \emptyset \wedge A = \emptyset \end{cases}$$

حال به بررسی گزینه‌ها می‌پردازیم:

$$۱) A \cap B = \emptyset \cap \emptyset = \emptyset$$

$$۲) B = \emptyset$$

$$۳) B \cup C = \emptyset \cup U = U$$

$$۴) A - C = A \cap C' = \emptyset \cap \emptyset = \emptyset$$

(آمار و احتمال - آشنایی با مبانی ریاضیات، صفحه‌های ۲۶ تا ۳۴)

۴

۳ ✓

۲

۱

(مرتفی فویم علوی)

$$A = \{1, 2, 3, \dots, 9\}$$

$$B = \{1, 3, 5, 7, 9\}$$

$$C = \{2, 3, 5, 7\}$$

حال اگر زوج مرتبی مانند (x, y) ، عضو هر ۲ مجموعه $C \times A$ و $A \times B$

باشد. داریم:

$$(x, y) \in C \times A \Rightarrow x \in C, y \in A$$

$$(x, y) \in A \times B \Rightarrow x \in A, y \in B$$

حال داریم:

$$x \in C, x \in A \Rightarrow x \in (A \cap C) \xrightarrow{C \subseteq A} x \in C$$

$$y \in A, y \in B \Rightarrow y \in (A \cap B) \xrightarrow{B \subseteq A} y \in B$$

بنابراین برای زوج‌های مرتبی مانند (x, y) که عضو هر ۲ مجموعه $C \times A$

و $A \times B$ هستند، x آنها عضو مجموعه $C = \{2, 3, 5, 7\}$ و y آنها عضو

مجموعه $B = \{1, 3, 5, 7, 9\}$ است، بنابراین تعداد این زوج‌های مرتب برابر

است با:

$$n(C \times B) = n(C) \times n(B) = 4 \times 5 = 20$$

(تعداد و احتمال - آشنایی با مبانی ریاضیات، صفحه‌های ۳۵ تا ۳۸)

 ۴

 ۳

 ۲

 ۱

در پرتاب یک تاس، فضای نمونه به صورت $S = \{1, 2, 3, 4, 5, 6\}$ است و

داریم، $P(1) = x$ ، $P(2) = 2x, \dots, P(6) = 6x$

تنها عدد اول و زوج، عدد ۲ می‌باشد. اگر A را پیشامد رو شدن عدد ۲ و

B را پیشامد آمدن عدد زوج در نظر بگیریم، داریم:

$$\begin{aligned} P(A|B) &= \frac{P(A \cap B)}{P(B)} = \frac{P(\{2\} \cap \{2, 4, 6\})}{P(\{2, 4, 6\})} = \frac{P(2)}{P(\{2, 4, 6\})} \\ &= \frac{P(2)}{P(2) + P(4) + P(6)} = \frac{2x}{2x + 4x + 6x} = \frac{1}{6} \end{aligned}$$

(آمار و احتمال - احتمال، صفحه ۵۶)

 ۴

 ۳

 ۲

 ۱

$$\begin{aligned} P(A'|B') &= \frac{3}{4} \Rightarrow \frac{P(A' \cap B')}{P(B')} = \frac{3}{4} \Rightarrow \frac{P[(A \cup B)']}{P(B')} = \frac{3}{4} \\ &\Rightarrow \frac{1 - (P(A) + P(B) - P(A \cap B))}{1 - \frac{1}{2}} = \frac{3}{4} \end{aligned}$$

$$\Rightarrow 1 - \left(\frac{2}{5} + \frac{1}{2} - P(A \cap B)\right) = \frac{3}{8} \Rightarrow \frac{9}{10} - P(A \cap B) = \frac{5}{8}$$

$$\Rightarrow P(A \cap B) = \frac{72 - 50}{80} = \frac{22}{80} = \frac{11}{40}$$

(آمار و احتمال - احتمال، صفحه‌های ۵۲ تا ۵۶)

 ۴

 ۳

 ۲

 ۱

اگر پیشامد شرکت در انتخابات شورای شهر را با C نمایش دهیم، آنگاه طبق قانون احتمال کل داریم:

$$P(C) = P(A)P(C|A) + P(B)P(C|B)$$

$$= \frac{2}{3} \times \frac{50}{100} + \frac{1}{3} \times \frac{80}{100} = \frac{180}{300}$$

احتمال اینکه فردی که در انتخابات شورای شهر شرکت کرده، ساکن شهر A باشد، طبق قانون بیز برابر است:

$$P(A|C) = \frac{P(A)P(C|A)}{P(C)} = \frac{\frac{2}{3} \times \frac{50}{100}}{\frac{180}{300}} = \frac{100}{180} = \frac{5}{9}$$

(آمار و احتمال - احتمال، مشابه تمرین ۱۰ صفحه ۶۵)

 ۴

 ۳

 ۲

 ۱

(ترا صالح پور)

در پرتاب ۳ سکه، احتمال آنکه حداقل ۲ بار «رو» ظاهر شود، برابر است با:

$$\frac{\binom{3}{2} + \binom{3}{3}}{2^3} = \frac{3+1}{8} = \frac{1}{2}$$

مربع کامل یا عدد اول شامل اعداد ۱، ۲، ۳، ۴ و ۵ می‌شود. پس احتمال مورد نظر برابر است با:

$$\frac{1}{2} \times \frac{5}{6} = \frac{5}{12}$$

(آمار و احتمال - احتمال، صفحه‌های ۶۷ تا ۷۲)

 ۴

 ۳

 ۲

 ۱

میانگین یا متوسط داده‌ها به صورت زیر محاسبه می‌شود:

$$\bar{x} = \frac{\sum_{i=1}^n x_i}{n}$$

برای به دست آوردن میانه داده‌ها، ابتدا آن‌ها را از کوچک به بزرگ مرتب

می‌کنیم. عدد وسط را میانه نامیده و با Q_2 نشان می‌دهیم. همچنین میانه

داده‌های قبل از Q_2 را چارک اول (Q_1) و میانه داده‌های بعد از Q_2 را

چارک سوم (Q_3) می‌نامیم. داده‌ای که بیشترین فراوانی را دارد، مُد نامیده

می‌شود.

$$1, 1, 2, 2, 2, 2, 3, 4, 5, 8, 9, 12, 12, 14$$

↓
 Q_2

$$Q_2 = \frac{9 + 12}{2} = 10.5$$

۲ بیشترین فراوانی را دارد، در نتیجه مُد داده‌ها برابر ۲ است.

میانگین مُد داده‌ها و چارک سوم برابر است با:

$$\frac{10.5 + 2}{2} = \frac{12.5}{2} = 6.25$$

(آمار و احتمال - آمار توصیفی، صفحه‌های ۸۳ تا ۸۸)

 ۴

 ۳

 ۲

 ۱

مجموع انحراف از میانگین داده‌ها همواره برابر صفر است، بنابراین:

$$-۲ + ۳ + a + ۲ - ۲ = 0 \Rightarrow a = -1$$

واریانس داده‌ها برابر است با:

$$\sigma_1^2 = \frac{\sum (x_i - \bar{x})^2}{n} = \frac{(-۲)^2 + ۳^2 + (-1)^2 + ۲^2 + (-۲)^2}{5} = \frac{۲۶}{5}$$

اگر واریانس داده‌های جدید را با σ_2^2 نمایش دهیم، آنگاه داریم:

$$\sigma_2^2 = \Delta^2 \times \frac{۲۶}{5} = ۴۶ \times ۵ = ۲۳۰$$

(آمار و احتمال - آمار توصیفی، صفحه‌های ۹۳ تا ۹۵)

 ۴

 ۳

 ۲

 ۱

۸۱- گزینه «۲»

(متمر پیمانی)

$$A \cap C = \{1, 4\}$$

$$B \cup (A \cap C) = \{-2, 4\}$$

(ریاضی ۱ - مجموعه، الگو و دنباله، صفحه‌های ۲ تا ۵)

 ۴

 ۳

 ۲

 ۱

۸۲- گزینه «۱»

(جوابش نیکنام)

$$a + \sqrt{2a} = a + 2\sqrt{a} = (\sqrt{a} + 1)^2$$

$$\sqrt{22 - 6\sqrt{(\sqrt{a} + 1)^2}} = \sqrt{22 - 6(\sqrt{a} + 1)} = \sqrt{16 - 6\sqrt{a}}$$

$$= \sqrt{(3 - \sqrt{a})^2} = |3 - \sqrt{a}| = 3 - \sqrt{a}$$

$$\Rightarrow \begin{cases} a = 3 \\ b = -1 \Rightarrow a + b + c = 9 \\ c = 7 \end{cases}$$

(ریاضی ۱ - توان‌های گویا و عبارت‌های جبری، صفحه‌های ۳۸ تا ۶۷)

 ۴

 ۳

 ۲

 ۱

(میلار پاشمی)

$$A = \sqrt[3]{a} - \sqrt[3]{b} \Rightarrow A^3 = a - b - 3\sqrt[3]{ab}(\sqrt[3]{a} - \sqrt[3]{b})$$

$$\Rightarrow A^3 = 7 - 6A \Rightarrow A^3 + 6A - 7 = 0$$

مجموع ضرایب معادله بالا، برابر صفر است پس $A = 1$ یکی از جوابهای آن است.
با تقسیم عبارت بر $A - 1$ داریم:

$$A^3 + 6A - 7 = (A - 1)(A^2 + A + 7) = 0$$

$$\Rightarrow \begin{cases} A = 1 \\ A^2 + A + 7 = 0 \Rightarrow \Delta < 0 \end{cases}$$

جواب ندارد

(ریاضی ۱ - توان‌های گویا و عبارت‌های پیری، صفحه‌های ۶۳ تا ۶۷)

۴

۳ ✓

۲

۱

(عارل حسینی)

با نوشتن جملات دنباله می‌بینیم که چهار جمله اول برابر صفر و هر کدام از اعداد طبیعی به ترتیب ۷ بار تکرار می‌شوند. در نتیجه داریم:

$$a_n : 0, 0, 0, 0, \underbrace{1, 1, \dots, 1}_{7 \text{ بار}}, \underbrace{2, 2, \dots, 2}_{7 \text{ بار}}, \dots, 13, 13, \dots, 13, 14, 14, 14, 14, 14$$

جمله ۱۹۹ام جمله ۱۹۵ام

با توجه به جملات فوق، مجموع ۹۹ جمله اول دنباله مورد نظر برابر است با:

$$7(1 + 2 + \dots + 13) + 4 \times 14 = 7 \times \left(\frac{13 \times 14}{2} \right) + 4 \times 14$$

$$= 637 + 56 = 693$$

(ریاضی ۱ - مجموعه، الگو و دنباله، صفحه‌های ۱۳ تا ۲۰)

۴ ✓

۳

۲

۱

(میلار منصوری)

$$a_1 a_6 = (a a q^5) = a^2 q^5 = 6$$

$$a_7 a_7 = (a q^6 a q^6) = a^2 q^{12} = 24$$

با تقسیم این دو رابطه داریم:

$$q^7 = 4 \Rightarrow q = \pm \sqrt[7]{4} \xrightarrow{\text{دنباله صعودی}} q = \sqrt[7]{4}$$

۴

۳ ✓

۲

۱

اگر یک سهمی بر خطی مماس باشد Δ ی تلاقی آنها صفر است،

$$\begin{cases} y_1 = 2x^2 + (m-1)x + m + 6 \\ y_2 = -x \end{cases} \Rightarrow y_1 = y_2 \Rightarrow 2x^2 + mx + m + 6 = 0$$

$$\xrightarrow{\Delta=0} m^2 - 4(2)(m+6) = 0 \Rightarrow m^2 - 8m - 48 = 0$$

$$\Rightarrow \begin{cases} m = -4: 2x^2 - 4x + 2 = 0 \Rightarrow x^2 - 2x + 1 = 0 \Rightarrow x = 1 & \text{غلق} \\ m = 12: 2x^2 + 12x + 18 = 0 \Rightarrow x^2 + 6x + 9 = 0 \Rightarrow x = -3 & \text{قق} \end{cases}$$

طول نقطه مماس در ناحیه دوم منفی است.

(ریاضی ۱ - معادله‌ها و نامعادله‌ها، صفحه‌های ۷۰ تا ۷۵)

 ۴

 ۳

 ۲

 ۱

(میلاد پاشمی)

پمپ A استخر را در T_A ساعت و پمپ B آن در T_B ساعت خالی می‌کند در صورت کار همزمان این دو، تخلیه در ۴ ساعت انجام می‌شود. داریم،

$$\frac{1}{T_A} + \frac{1}{T_B} = \frac{1}{4} \quad (1)$$

اگر پمپ A با ۴۰٪ توان کار کند، استخر را در $\frac{T_A}{0.4}$ ساعت تخلیه می‌کند.

همچنین پمپ B با ۶۰٪ توان، این کار را در $\frac{T_B}{0.6}$ ساعت انجام می‌دهد. پس داریم،

$$\frac{1}{\frac{T_A}{0.4}} + \frac{1}{\frac{T_B}{0.6}} = \frac{0.4}{T_A} + \frac{0.6}{T_B} = \frac{1}{9} \quad (2)$$

$$\xrightarrow{(1)(2)} \frac{0.2}{T_B} = \frac{1}{9} - \frac{0.4}{4} = \frac{1}{90} \Rightarrow T_B = 18$$

(مسابقه ۱ - پیر و معادله، صفحه‌های ۱۷ تا ۱۹)

 ۴

 ۳

 ۲

 ۱

طبق شکل بالا، دو نمودار در ۲ نقطه همدیگر را قطع می‌کنند. پس معادله اصلی، ۲ جواب حقیقی دارد.

(مسابقه ۱ - پیر و معادله، صفحه‌های ۲۶ و ۲۷)

 ۴

 ۳

 ۲

 ۱

۸۹- گزینه «ا»

(عرفان صادقی)

فاصله نقطه $A(x, y)$ از خط $ax + by + c = 0$ برابر است با:

$$d = \frac{|ax_0 + by_0 + c|}{\sqrt{a^2 + b^2}}$$

مختصات تمام نقاطی که بر خط $y = x + 2$ قرار دارند.

به صورت $(\alpha, \alpha + 2)$ می‌باشد. بنابراین فاصله بین نقاط به مختصات $(\alpha, \alpha + 2)$

از خط به معادله $x + 2y + 3 = 0$ برابر است با:

$$d = \frac{|\alpha + 2\alpha + 3 + 3|}{\sqrt{1+4}} \xrightarrow{d=\sqrt{\delta}} \sqrt{\delta} = \frac{|3\alpha + 7|}{\sqrt{\delta}}$$

$$\Rightarrow |3\alpha + 7| = \delta$$

$$\Rightarrow \begin{cases} 3\alpha_1 + 7 = \delta \Rightarrow \alpha_1 = -\frac{\delta}{3} \\ 3\alpha_2 + 7 = -\delta \Rightarrow \alpha_2 = -\frac{\delta}{3} \end{cases} \xrightarrow{y=x+2} \begin{cases} y_1 = -\frac{\delta}{3} + 2 \\ y_2 = -\frac{\delta}{3} + 2 - 2 = -\frac{\delta}{3} \end{cases}$$

$$\Rightarrow y_1 + y_2 = -\frac{\delta}{3} + 2 - 2 = -\frac{\delta}{3}$$

(مسائل ۱- پیر و معادله: صفحه‌های ۲۹ تا ۳۶)

۴

۳

۲

۱ ✓

۹۰- گزینه «ا»

(شاهین پروازی)

$$\frac{x^2}{x-1} \leq \frac{x}{1+x}$$

$$\Rightarrow \frac{x^2}{x-1} - \frac{x}{x+1} \Rightarrow \frac{x^2 + x^2 - x^2 + x}{x^2 - 1} \leq 0 \Rightarrow \frac{x^2 + x}{x^2 - 1} \leq 0$$

$$\frac{x(x^2 + 1)}{x^2 - 1} \leq 0 \xrightarrow{x^2 + 1 > 0} \frac{x}{x^2 - 1} \leq 0$$

x	-1	0	1
x	-	0	+
$x^2 - 1$	+	0	-
$\frac{x}{x^2 - 1}$	-	+	-

پس مجموعه جواب نامعادله $(-\infty, -1) \cup [0, 1)$ است.

$$(-\infty, -1) \cup [0, 1) = (-\infty, a) \cup [b, c) \Rightarrow \begin{cases} a = -1 \\ b = 0 \\ c = 1 \end{cases} \Rightarrow a + b + c = 0$$

(ریاضی ۱- عارله‌ها و نامعادله‌ها: صفحه‌های ۸۳ تا ۹۳)

۴

۳

۲

۱ ✓

۹۱- گزینه «۲»

(علی سلامت)

می‌دانیم ضابطه یک تابع خطی به صورت $f(x) = ax + b$ است. حال ضابطه تابع $y = f(f(x))$ را تشکیل می‌دهیم و بعد از به دست آمدن ضابطه تابع f با حل معادله $f(x) = 0$ محل برخورد تابع را با محور x محاسبه می‌کنیم.

$$f(f(x)) = f(ax + b) = a(ax + b) + b = \underline{a^2x} + \underline{ab + b} = \underline{16x} - \underline{5}$$

$$a^2 = 16 \Rightarrow \begin{cases} a = 4 \Rightarrow 4b + b = -5 \Rightarrow b = -1 \\ \Rightarrow f(x) = 4x - 1 \xrightarrow{f(x)=0} x = \frac{1}{4} \\ \text{یا} \\ a = -4 \Rightarrow -4b + b = -5 \Rightarrow b = \frac{5}{3} \\ \Rightarrow f(x) = -4x + \frac{5}{3} \xrightarrow{f(x)=0} x = \frac{5}{12} \end{cases}$$

(ریاضی ۱ - تابع، صفحه ۱۰۳)

۴

۳

۲ ✓

۱

۹۲- گزینه «۱»

(شاهین پروازی)

$$\begin{aligned} f^{-1}(5) = A &\Rightarrow f(A) = 5 \\ \Rightarrow 2A + \sqrt{2A + 5} &= 5 \Rightarrow \sqrt{2A + 5} = 5 - 2A \\ \xrightarrow{\text{توان } 2} 2A + 5 &= 25 - 20A + 4A^2 \\ \Rightarrow 4A^2 - 22A + 20 &= 0 \Rightarrow A^2 - 6A + 5 = 0 \\ \Rightarrow (A - 1)(A - 5) &= 0 \Rightarrow A = 1 \text{ یا } A = 5 \end{aligned}$$

که فقط $A = 1$ در معادله اولیه صدق می‌کند پس $f^{-1}(5) = 1$ است. از طرفی برای $f(5)$ نیز داریم:

$$\begin{aligned} f(5) &= 2(5) + \sqrt{2(5) + 5} = 15 \\ \Rightarrow \frac{f(5)}{f^{-1}(5)} &= \frac{15}{1} = 15 \end{aligned}$$

(مسایران ۱ - تابع، صفحه‌های ۵۷ تا ۶۲)

۴

۳

۲

۱ ✓

$$f(x) = -2^{1-2x} \Rightarrow \log_2(-y) = 1 - 2x$$

$$\Rightarrow x = \frac{1}{2} - \frac{1}{2} \log_2(-x) \Rightarrow f^{-1}(x) = \frac{1}{2} - \frac{1}{2} \log_2(-x)$$

$$\Rightarrow g(x) = \sqrt{x(1 - \log_2(-x))}$$

$$x(1 - \log_2(-x)) \geq 0$$

دامنه تابع g را می‌نویسیم.

واضح است که باید $x < 0$ باشد. بنابراین عبارت $1 - \log_2(-x)$ باید نامثبت باشد.

$$1 - \log_2(-x) \leq 0 \Rightarrow \log_2(-x) \geq 1 \Rightarrow -x \geq 2$$

$$\Rightarrow x \leq -2 \xrightarrow{\text{اشتراک با } x < 0} D_g = (-\infty, -2] \Rightarrow a = -2$$

(مسئله ۱- تابع و توابع نمایی و لگاریتمی، صفحه‌های ۵۷ تا ۶۲ و ۸۰ تا ۸۵)

۴

۳

۲

۱

راه اول، از روی شکل واضح است که $D_g = [-1, 2]$ است. بنابراین،

$$g(x) = f(x-1) + 2$$

$$-1 \leq x \leq 2 \Rightarrow -2 \leq x-1 \leq 1 \Rightarrow D_f = [-2, 2]$$

حال برای محاسبه دامنه تابع $h(x) = f\left(\frac{1}{2}x + 2\right)$ کلی است. نامعادله زیر را حل

کنیم.

$$-2 \leq \frac{1}{2}x + 2 \leq 2 \Rightarrow -5 \leq \frac{1}{2}x \leq -1$$

$$\Rightarrow -10 \leq x \leq -2 \Rightarrow D_h = [-10, -2]$$

۴

۳

۲

۱

اجدا با اتحاد مزدوج معادله را ساده می‌کنیم.

$$(\log 5 + \log x)(\log 5 - \log x) = 2 \log 5x$$

$$\Rightarrow (\log 5x) \left(\log \frac{5}{x} \right) - 2 \log 5x = 0 \Rightarrow (\log 5x) \left(\log \frac{5}{x} - 2 \right) = 0$$

$$\left\{ \begin{array}{l} \log 5x = 0 \Rightarrow 5x = 1 \Rightarrow x = \frac{1}{5} \\ \log \frac{5}{x} = 2 \Rightarrow \frac{5}{x} = 100 \Rightarrow x = \frac{1}{20} \end{array} \right\} \Rightarrow \frac{1}{5} - \frac{1}{20} = \frac{4-1}{20} = \frac{3}{20} = \frac{15}{100}$$

(مسئله ۱- توابع نمایی و لگاریتمی، صفحه‌های ۸۶ تا ۹۰)

۴

۳

۲

۱

می‌دانیم مساحت یک مثلث از فرمول $S = \frac{1}{2} ab \sin \theta$ به دست می‌آید که θ .

زاویه بین دو ضلع a و b است. حال با توجه به این نکته داریم:

$$\frac{S_{\Delta ADC}}{S_{\Delta ABD}} = \frac{\frac{1}{2} AC \cdot AD \cdot \sin \alpha}{\frac{1}{2} AB \cdot AD \cdot \sin \beta} = \frac{1}{2}$$

$$\Rightarrow \frac{AC}{AB} \cdot \frac{\sin \alpha}{\sin \beta} = \frac{1}{2} \Rightarrow \frac{\sin \alpha}{\sin \beta} = \frac{1}{2} \cdot \frac{AB}{AC}$$

از طرفی با توجه به شکل داریم:

$$\sin 30^\circ = \frac{1}{2} = \frac{AB}{AC}$$

$$\Rightarrow \frac{\sin \alpha}{\sin \beta} = \frac{1}{2} \times \frac{1}{2} = \frac{1}{4}$$

(ریاضی ۱- مثلثات، صفحه‌های ۲۹ تا ۳۵)

۴

۳

۲

۱

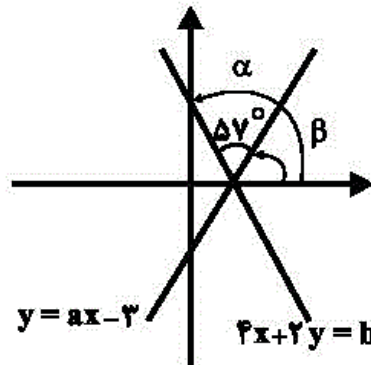
۹۷- گزینه «۲»

(عمید ماسقاری)

شیب خط $3x + 2y = b$ برابر -2 و تانژانت زوئیهای است که خط با جهت مثبت

محور x می‌سازد. پس،

$$\tan \alpha = -2, \tan 117^\circ = -2 \Rightarrow \alpha = 117^\circ$$



۴

۳

۲ ✓

۱

۹۸- گزینه «۱»

(عمید رضا نوشکاران)

$$\cos\left(\frac{3\pi}{2} + x\right) = \cos\left(\pi + \frac{\pi}{2} + x\right) = -\cos\left(\frac{\pi}{2} + x\right)$$

$$= -\sin(-x) = \sin x$$

$$\sin\left(x - \frac{\pi}{2}\right) = -\sin\left(\frac{\pi}{2} - x\right) = -\cos x$$

$$\sin(x + \pi) = -\sin x$$

$$\cos(\lambda\pi + x) = \cos(\lambda\pi + \pi + x) = \cos(\pi + x) = -\cos x$$

$$\Rightarrow A = \frac{\sin x - \cos x}{-\sin x + \cos x} = \frac{-(\cos x - \sin x)}{\cos x - \sin x} = -1$$

(مسئله ۱ - مشابهت، صفحه‌های ۹۸ تا ۱۰۴)

۴

۳

۲

۱ ✓

صورت و منخرج را در $\frac{1}{2}$ ضرب می‌کنیم

$$T = \frac{\frac{1}{2} \cos 10^\circ + \frac{\sqrt{3}}{2} \sin 10^\circ}{\frac{1}{2} \sin 140^\circ} = \frac{\sin 30^\circ \cos 10^\circ + \cos 30^\circ \sin 10^\circ}{\frac{1}{2} \sin 140^\circ}$$

$$= \frac{\sin(30^\circ + 10^\circ)}{\frac{1}{2} \sin 140^\circ} = \frac{\sin 40^\circ}{\frac{1}{2} \sin 40^\circ} = 2$$

توجه: زوایای 40° و 140° مکمل‌اند، پس سینوس‌هایشان برابرند.

(مسئله ۱ - مثلثات، صفحه‌های ۱۱۰ تا ۱۱۲)

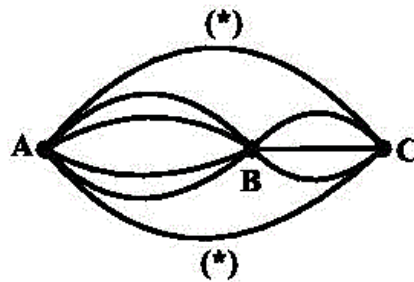
۴

۳

۲

۱

(عادل حسینی)



اگر هر کدام از مسیرهای * دایره را برای رفت انتخاب کنیم، برای برگشت

$13 = 4 \times 3 + 1$ راه وجود دارد. اما اگر از راه‌های میانی استفاده کنیم، برای رفت

$12 = 4 \times 3$ راه و برای برگشت $8 = 2 + 2 \times 3$ راه داریم. بنابراین طبق اصل‌های

ضرب و جمع تعداد کل حالات برابر خواهد بود با:

$$13 + 13 + (12)(8) = 26 + 96 = 122$$

(ریاضی ۱ - شمارش، بدون شمردن، صفحه‌های ۱۱۹ تا ۱۲۶)

۴

۳

۲

۱