



RIAZISARA

سایت ویژه ریاضیات www.riazisara.ir

**درسنامه ها و جزوه های ریاضی
سوالات و پاسخنامه تشریحی کنکور
نمونه سوالات امتحانات ریاضی
نرم افزارهای ریاضیات**

و...

[@riazisara](https://t.me/riazisara)

ریاضی سرا در تلگرام:



<https://t.me/riazisara>


[@riazisara.ir](https://www.instagram.com/riazisara.ir)

ریاضی سرا در اینستاگرام:



<https://www.instagram.com/riazisara.ir>

همه‌هنگی کلاس خصوصی آنلاین ریاضی ۰۹۲۲۰۶۳۳۰۶۲



121A

کد کنترل

121

A

دفترچه شماره ۱ از ۲

صبح چهارشنبه

۱۴۰۲/۰۴/۱۴

اگر دانشگاه اصلاح شود مملکت اصلاح می‌شود.
امام خمینی (ره)

جمهوری اسلامی ایران
وزارت علوم، تحقیقات و فناوری
سازمان سنجش آموزش کشور

$$a^2 + b^2 = c^2$$
$$2 \times 2 = 4$$

آزمون اختصاصی (سراسری) ورودی دانشگاه ها و مؤسسات آموزش عالی نوبت دوم - تیرماه سال ۱۴۰۲

گروه آزمایشی علوم ریاضی و فنی

ردیف	مواد امتحانی	تعداد سؤال	از شماره	تا شماره	زمان پاسخ‌گویی
۱	ریاضیات	۴۰	۱	۴۰	۷۰ دقیقه

استفاده از ماشین حساب ممنوع می‌باشد

این آزمون نمره منفی دارد

حق چاپ، تکثیر و انتشار سؤالات به هر روش (الکترونیکی و.....) پس از برگزاری آزمون، برای تمامی اشخاص حقیقی و حقوقی تنها با مجوز این سازمان مجاز می‌باشد و با متخلفین برابر مقررات رفتار می‌شود

* داوطلب گرامی، عدم درج مشخصات و امضا در مندرجات جدول زیر، به منزله عدم حضور شما در جلسه آزمون است.

اینجانب با شماره داوطلبی با آگاهی کامل، یکسان بودن شماره صندلی خود را با شماره داوطلبی مندرج در بالای کارت ورود به جلسه، بالای پاسخنامه و دفترچه سؤالات، نوع و کد کنترل درج شده بر روی دفترچه سؤالات تأیید می‌نمایم.

امضا:

۱- اگر جملات یک دنباله هندسی با قدرنسبت r را نصف کنید، دنباله‌ای حسابی با قدرنسبت d خواهید داشت. مقدار $r+d$ کدام است؟

- (۱) صفر (۲) ۱ (۳) $\sqrt{2}$ (۴) $\frac{1}{2}$

۲- نقاط $A(3, y)$ و $B(-5, y)$ روی یک سهمی واقع شده‌اند و عرض رأس سهمی برابر ۱ است. اگر این سهمی، محور x ها را در نقاطی با طولهای α و β قطع کند و $\alpha^2 + \beta^2 = 5$ باشد، این سهمی محور y ها را در نقطه‌ای با کدام عرض قطع می‌کند؟

- (۱) $-\frac{1}{3}$ (۲) $-\frac{2}{3}$ (۳) $\frac{1}{3}$ (۴) $\frac{2}{3}$

۳- برای مجموعه‌های $A = \{a-2, 6, 2b+1, c\}$ و $B = \{\sqrt{d}, 5, -1\}$ ، فرض کنید $A \times B = B \times A$ باشد، در چند حالت مقدار $a+b+c=9$ است؟

- (۱) ۱ (۲) ۲ (۳) ۳ (۴) صفر

۴- مطابق با جدول ارزش درستی گزاره‌های زیر، کدام گزاره مرکب می‌تواند هم‌ارز منطقی گزاره X باشد؟

p	q	r	X
د	د	د	ن
د	د	ن	ن
د	ن	د	د
د	ن	ن	ن
ن	د	د	ن
ن	د	ن	د
ن	ن	د	د
ن	ن	ن	ن

$$(1) (q \Rightarrow (p \vee r)) \Rightarrow ((p \vee \sim p) \wedge (\sim q \wedge r))$$

$$(2) (r \Rightarrow (p \vee q)) \Rightarrow ((p \vee \sim p) \wedge (q \wedge \sim r))$$

$$(3) [p \Rightarrow ((q \vee r) \Rightarrow (q \wedge r))] \Rightarrow (\sim (p \vee r) \wedge q)$$

$$(4) (r \Rightarrow (p \vee q)) \Rightarrow [((p \Rightarrow r) \Rightarrow (\sim p \wedge r)) \wedge q]$$

۵- اگر α و β ریشه‌های متمایز معادله $ax^2 - ax - b = 0$ و $40\beta^2 + 20\alpha^2 - 20\beta = 17$ باشد، اختلاف ریشه‌های این معادله کدام است؟

- (۱) $\frac{1}{5}$ (۲) $\frac{2}{5}$ (۳) $\frac{1}{\sqrt{5}}$ (۴) $\frac{2}{\sqrt{5}}$

محل انجام محاسبات

۶- مجموع ریشه‌های معادله $\frac{1}{x^2} + \frac{1}{(1-x)^2} = \frac{16}{9}$ کدام است؟

- (۱) ۱ (۲) $1/75$ (۳) ۲ (۴) $2/25$

۷- نقطه $(4/5, 2)$ رأس یک مستطیل است که دو ضلع آن منطبق بر خطوط $4x + y = 3$ و $x - 4y = 5$ هستند. بیشترین فاصله وسط قطر از اضلاع کدام است؟

- (۱) $\frac{\sqrt{17}}{2}$ (۲) $\frac{\sqrt{17}}{4}$ (۳) $2\sqrt{17}$ (۴) $\sqrt{17}$

۸- وارون تابع $f(x) = \sqrt{x - 2\sqrt{mx} - 1}$ در دامنه محدود، خط $y = 12 - x$ را در نقطه‌ای به عرض 10 قطع می‌کند. مقدار $f(m + 4)$ کدام است؟

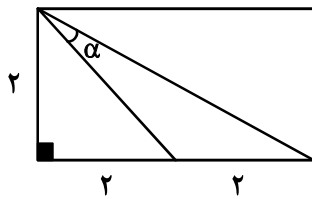
- (۱) $\frac{1}{2}$ (۲) $\frac{1}{4}$ (۳) ۲ (۴) ۱

۹- مقداری از یک عنصر موجود است. اگر عنصر در هر ساعت $\frac{1}{9}$ از جرم باقیمانده را از دست بدهد، پس از چند دقیقه

$\frac{1}{6}$ از جرم عنصر باقی خواهد ماند؟ ($\log_3^5 = 1/4$ و $\log_3^5 = 2/4$)

- (۱) ۳۸۰ (۲) ۳۶۰ (۳) ۴۴۰ (۴) ۴۲۰

۱۰- در شکل زیر، مقدار $\cot \alpha$ کدام است؟



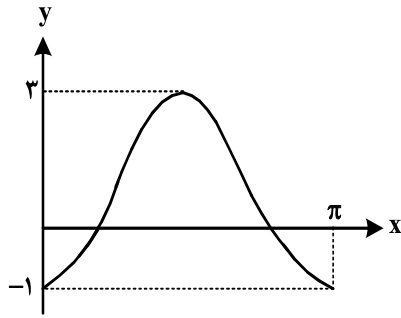
- (۱) ۱ (۲) ۳ (۳) $\frac{1}{2}$ (۴) $\frac{1}{3}$

۱۱- مثلث ABC ، با اضلاع $\sqrt{3}$ و 6 و α (زاویه بین آنها) قابل رسم است. اگر مساحت این مثلث $4/5$ باشد، بیشترین مقدار α چند برابر کمترین مقدار α است؟

- (۱) ۲ (۲) ۳ (۳) ۴ (۴) ۵

محل انجام محاسبات

۱۲- اگر شکل زیر، قسمتی از نمودار تابع $f(x) = a + b \sin\left(cx - \frac{3\pi}{4}\right) \cos\left(cx - \frac{3\pi}{4}\right)$ باشد، اختلاف صفرهای تابع f



در بازه $[0, \pi]$ ، کدام است؟

(۱) $\frac{\pi}{6}$

(۲) $\frac{\pi}{4}$

(۳) $\frac{\pi}{2}$

(۴) $\frac{2\pi}{3}$

۱۳- در معادله مثلثاتی $m(\cos x - \sin x) - 3\sqrt{6} \sin(2x) = \sqrt{6}$ اگر $\cos\left(x + \frac{\pi}{4}\right) = \frac{1}{\sqrt{3}}$ باشد، مقدار m کدام است؟

(۱) -۶

(۲) -۳

(۳) ۶

(۴) ۳

۱۴- تابع f اکیداً نزولی و دامنه آن مجموعه‌ای از مقادیر منفی است. اگر $f(m^2 - m - 5) < f(-3 + 2m - m^2)$ باشد، m دارای چند مقدار صحیح است؟

(۱) ۱

(۲) ۲

(۳) ۳

(۴) صفر

۱۵- f تابع هموگرافیک، $g(x) = \frac{1}{f(x)}$ و $\lim_{x \rightarrow -\infty} \frac{f(x)}{g^{-1}(x)} = \lim_{x \rightarrow +\infty} \frac{g^{-1}(x)}{g(x)}$ است، کدام عدد می‌تواند حاصل

$\lim_{x \rightarrow 0^+} f^{-1}(x)$ باشد؟

(۱) صفر

(۲) $\frac{1}{2}$

(۳) ۱

(۴) ۲

۱۶- برای مقدار مشخص k ، تابع $f(x) = \begin{cases} |x - [-x]| & \text{زوج } [x] \\ x - [x] + k & \text{فرد } [x] \end{cases}$ در $x = n$ و $x = -n$ پیوسته است. کدام مورد

در خصوص n صحیح است؟ ($k, n \in \mathbb{N}$)

(۱) n زوج

(۲) n فرد

(۳) برای جمیع مقادیر n پیوسته است.

(۴) برای هیچ مقداری از n پیوسته نیست.

محل انجام محاسبات

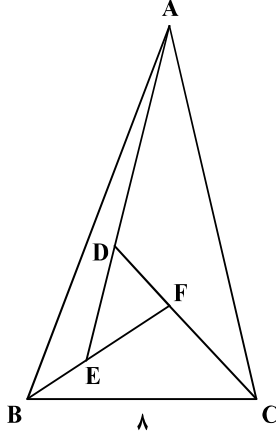
- ۱۷- اگر $f(x) = \left(\frac{-1 + \sin x}{1 + \sin x}\right)^2$ و $f(x) = xg(x) + 1$ باشد، حاصل $\lim_{x \rightarrow 0} g(x)$ کدام است؟
- (۱) ۴ (۲) ۲ (۳) -۴ (۴) -۲
- ۱۸- خط d موازی محور x ها، قرینه سهمی $y = x^2 + 1$ نسبت به محور x ها را در دو نقطه قطع می کند و مماس های رسم شده در این نقاط بر هم عمودند. فاصله خط d از مبدأ مختصات کدام است؟
- (۱) $1/25$ (۲) $3/25$ (۳) $0/75$ (۴) $2/75$
- ۱۹- به ازای چند مقدار صحیح و منفی k ، نقطه عطف منحنی $y = kx^3 + (k+1)x^2$ در ناحیه دوم محورهای مختصات قرار دارد؟
- (۱) ۱ (۲) ۲ (۳) بیش از ۲ (۴) صفر
- ۲۰- کمترین فاصله نقاط واقع بر منحنی $y = \sqrt{x - [x^2]}$ از خط $2x - y + 2 = 0$ کدام است؟
- (۱) $\frac{\sqrt{5}}{5}$ (۲) $\frac{3\sqrt{5}}{8}$ (۳) $\frac{\sqrt{5}}{10}$ (۴) $\frac{3\sqrt{5}}{10}$
- ۲۱- ۴ وزیر هر کدام با یک معاون به چند طریق می توانند روی ۸ صندلی در دو ردیف روبه روی هم بنشینند به طوری که هر وزیر دقیقاً روبه روی معاونش قرار بگیرد؟
- (۱) ۲۴ (۲) ۳۲ (۳) ۴۸ (۴) ۶۴
- ۲۲- در یک گروه ۱۵ نفری دانش آموزی، ۴۰ نفر فقط بلیت فیلم «الف» و ۷۵ نفر فقط بلیت فیلم «ب» را خریداری کرده اند. اگر $P(A)$ و $P(B)$ به ترتیب احتمال خرید بلیت فیلم های «الف» و «ب» باشند، بیشترین مقدار $\frac{P(A)}{P(B)}$ کدام است؟
- (۱) $\frac{15}{29}$ (۲) $\frac{38}{45}$ (۳) $\frac{8}{15}$ (۴) $\frac{15}{22}$
- ۲۳- اعداد ۹ تا ۱۹ در اختیار است. دو عدد دلخواه از بین این اعداد را حذف نموده و با مقدار اختلاف آن دو عدد جایگزین می شود. این روند تا جایی ادامه می یابد که همه اعداد زوج، غیر تکراری و با بیشترین میانگین ممکن باشند، انحراف معیار داده های جدید کدام است؟
- (۱) $\sqrt{10}$ (۲) $\sqrt{11}$ (۳) $\sqrt{21}$ (۴) $\sqrt{28}$
- ۲۴- یک دستگاه طوری طراحی شده که به تصادف یکی از دو حرف A یا B را از ورودی می گیرد و پس از طی سه مرحله حرفی را در خروجی چاپ می کند. در هر مرحله حرف ورودی با احتمال $\frac{1}{4}$ بدون تغییر به مرحله بعد می رود یا به شکل حرف دیگری در آمده و به مرحله بعدی وارد می شود. اگر احتمال انتخاب حرف A ، ۲ برابر حرف B باشد، با کدام احتمال، حرف «A» چاپ شده توسط دستگاه با حرف ورودی یکسان است؟
- (۱) $\frac{14}{23}$ (۲) $\frac{21}{23}$ (۳) $\frac{9}{41}$ (۴) $\frac{17}{41}$

محل انجام محاسبات

۲۵- در یک لوزی هر ضلع واسطه هندسی دو قطر لوزی است. اندازه زاویه کوچک تر در هر مثلث حاصل از رسم قطرهای این لوزی چند درجه است؟

- ۱۰ (۱) ۱۵ (۲) ۳۰ (۳) ۴۵ (۴)

۲۶- در شکل زیر، $\hat{A}BF = \hat{C}AE = \hat{B}CD$ ، $DF = 2/5$ و $EF = 3$ است. طول AB کدام است؟



- ۸/۶ (۱)
۷/۵ (۲)
۱۰/۵ (۳)
۹/۶ (۴)

۲۷- در یک مستطیل، خط‌هایی از دو رأس مقابل بر یک قطر عمود می‌شوند و آن قطر به سه قسمت طوری تقسیم می‌شود که قسمت وسط دو برابر هر یک از قسمت‌های کناری است. مساحت این مستطیل چند برابر مساحت کوچک‌ترین مثلث ایجاد شده در مستطیل است؟

- ۲۴ (۱) ۱۶ (۲) ۱۲ (۳) ۸ (۴)

۲۸- در مثلث ABC ، میانه‌های رسم شده از رأس‌های B و C بر هم عمودند. اگر طول میانه رسم شده از رأس C برابر $4/5$ و مساحت این مثلث برابر ۱۸ باشد، نسبت طول میانه‌های رسم شده از دو رأس B و C کدام است؟

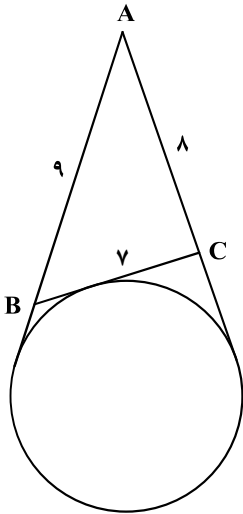
- $17/9$ (۱) $19/9$ (۲) $5/3$ (۳) $4/3$ (۴)

۲۹- یک پنج‌ضلعی در یک دایره محاط شده است. هر ضلع این پنج‌ضلعی، وتر رو به یک زاویه محاطی است. مجموع این زوایای محاطی کدام است؟

- ۵۴۰ (۱) ۱۸۰ (۲) ۷۲۰ (۳) ۳۶۰ (۴)

محل انجام محاسبات

۳۰- در شکل زیر، از نقطه A دو مماس رسم شده است. شعاع دایره کدام است؟



(۱) $7,2\sqrt{2}$

(۲) $4,8\sqrt{5}$

(۳) $3,6\sqrt{2}$

(۴) $2,4\sqrt{5}$

۳۱- در بین مثلث‌هایی با مساحت 30 واحد مربع که در ضلعی به اندازه 15 واحد مشترک هستند، کمترین مقدار محیط کدام است؟

(۴) 36

(۳) 34

(۲) 32

(۱) 30

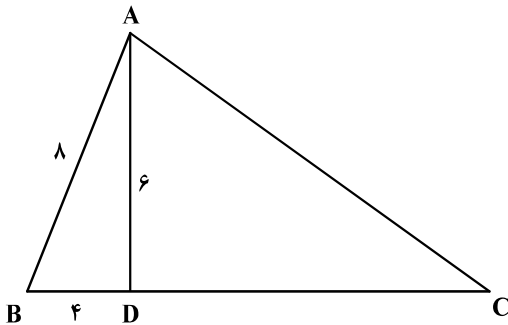
۳۲- در شکل زیر، اگر $\hat{D}AC = 3\hat{B}AD$ باشد، طول ضلع AC کدام است؟

(۱) $19,2$

(۲) $16,8$

(۳) $18,6$

(۴) $15,4$



۳۳- اگر $A = \begin{bmatrix} \log_6^3 & \log_6^2 \\ \log_6^2 & \log_6^3 \end{bmatrix}$ و $B = \begin{bmatrix} 6|A| & 3|A| \\ 3|A| & 36|A| \end{bmatrix}$ باشد، مقدار دترمینان B، کدام است؟

(۴) $\frac{15}{8}$

(۳) $\frac{9}{8}$

(۲) $\frac{15}{4}$

(۱) $\frac{9}{4}$

۳۴- نمودار سهمی با مختصات رأس $(-1, -1)$ ، از نقطه $(1, 1)$ می‌گذرد. اگر از دو سر وترى که از کانون بر محور سهمی عمود است، دو خط موازی با محور سهمی بر خط هادی عمود کنیم، یک مستطیل رسم می‌شود. قطر مستطیل حاصل کدام است؟

(۴) $\sqrt{3}$

(۳) $3\sqrt{2}$

(۲) $\sqrt{5}$

(۱) $5\sqrt{2}$

محل انجام محاسبات

۳۵- فرض کنید \vec{a} و \vec{b} بردارهای ناصفری هستند که ضرب داخلی آنها، $-\frac{3}{5}$ حاصل ضرب اندازه‌های دو بردار است.

مساحت مثلثی را که توسط بردارهای $(\frac{\vec{a}}{|\vec{a}|} - \frac{\vec{b}}{|\vec{b}|})$ و $(\frac{3\vec{a}}{|\vec{a}|} + \frac{2\vec{b}}{|\vec{b}|})$ ساخته می‌شود، کدام است؟

- (۱) $\frac{6}{4}$ (۲) $\frac{4}{8}$ (۳) $\frac{3}{2}$ (۴) $\frac{1}{6}$

۳۶- خط d به معادله $y - x = 0$ ، عمودمنصف خط‌المركزین دو دایره است که شعاع یکی ۲ برابر دیگری است. اگر خط d بر

دایره کوچک‌تر به معادله $x^2 + y^2 + 6x - 2y = r$ مماس باشد، حاصل ضرب طول نقاط برخورد دو دایره کدام است؟

- (۱) $\frac{5}{2}$ (۲) $\frac{5}{4}$ (۳) $\frac{65}{32}$ (۴) $\frac{65}{64}$

۳۷- با قرار دادن عدد سه رقمی $3(a \circ a)$ بین دو رقم مشابه a ، عدد جدید ساخته می‌شود. حداکثر چند عدد اول می‌تواند a را بشمارد؟

- (۱) صفر (۲) ۱ (۳) ۲ (۴) ۳

۳۸- مجموع ارقام کوچک‌ترین عدد طبیعی سه رقمی x که در معادله $63x + 77y = 273$ صدق می‌کند، کدام است؟

- (۱) ۴ (۲) ۵ (۳) ۸ (۴) ۹

۳۹- حداقل چند زوج مرتب با مؤلفه‌هایی از اعداد طبیعی انتخاب کنیم تا به‌طور قطع، لااقل در دو جفت انتخاب‌شده،

هر کدام از مجموع مؤلفه‌های اول و مجموع مؤلفه‌های دوم، مضرب ۵ باشند؟

- (۱) ۱۳ (۲) ۱۴ (۳) ۲۵ (۴) ۲۶

۴۰- حاصل ضرب درجه رأس‌های گراف G ، ۴۸ است. اگر تعداد رأس‌ها با درجه رأس یک حداقل باشد، حاصل

$\Delta(\bar{G}) + q(\bar{G})$ کدام است؟

- (۱) ۱۷ (۲) ۱۱ (۳) ۱۹ (۴) ۱۳

محل انجام محاسبات